

社 会

(解答番号 1 ~ 40 , 101 ~ 110)

第 1 問 図1, 図2を参考に, あとの設問に答えなさい。なお, 図1は一部白抜きになっています。また, 図2のA~Fはイギリス, イタリア, オランダ, ギリシャ, ドイツ, フランスのいずれかを表しています。

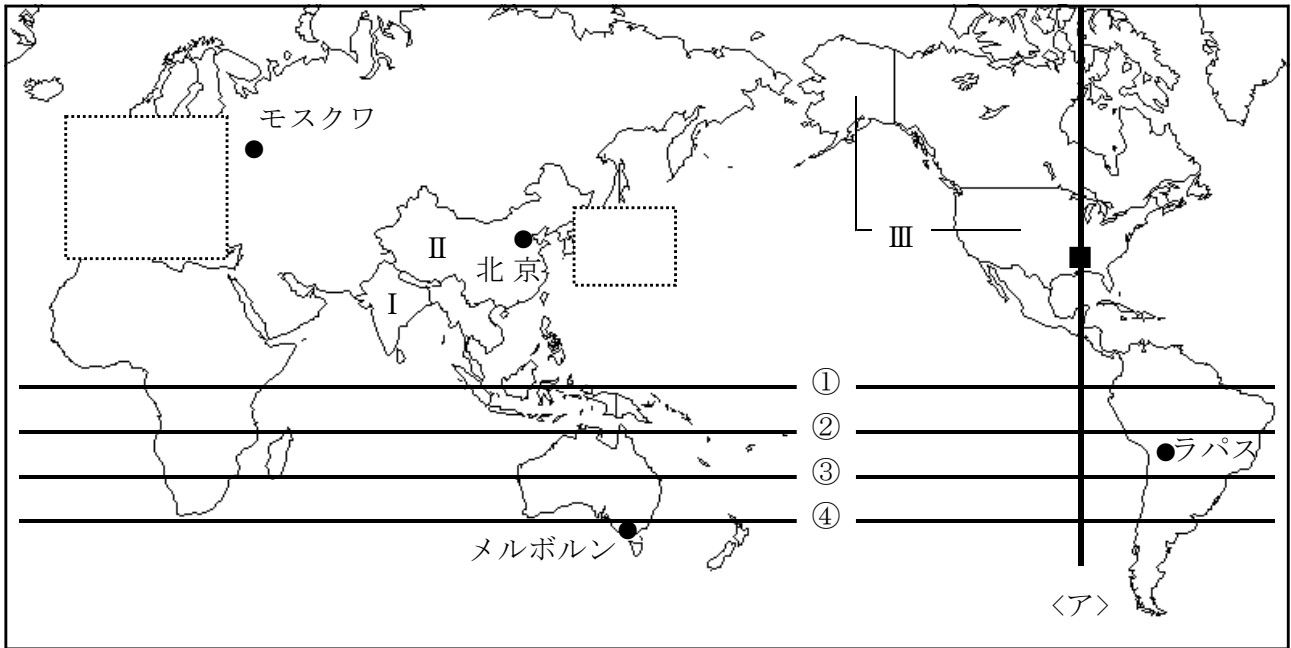


図1

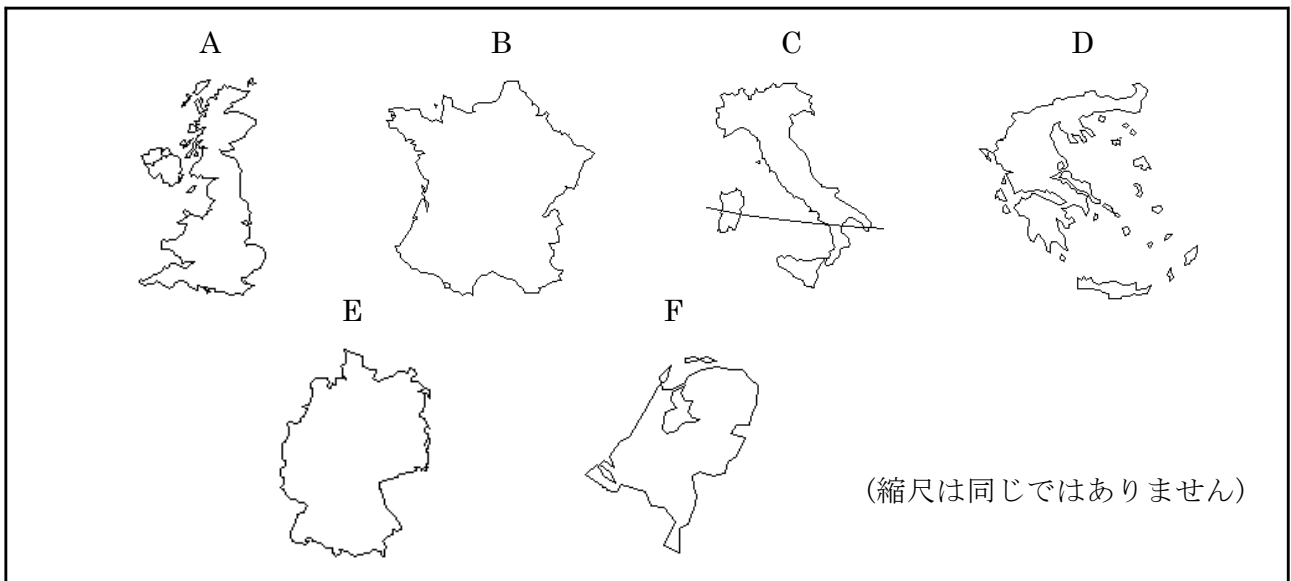


図2

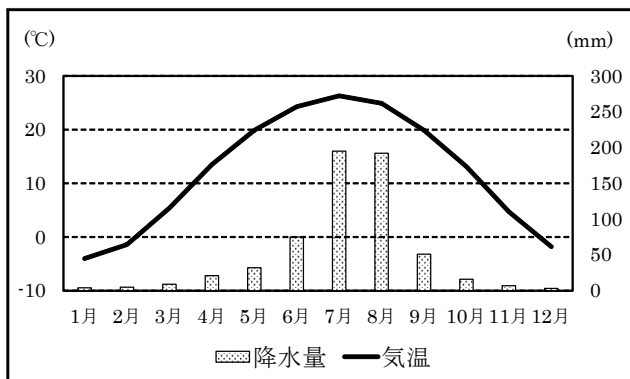
問 1 赤道を示しているものを，図1中の①～④のうちから一つ選びなさい。 1

問 2 図1中の<ア>は西経90度の経線を示しています。日本が2月10日午後1時の時，この線上にある■の都市の現地時間として正しいものを，次の①～④のうちから一つ選びなさい。
 なお，日本の標準時は東経135度として計算しなさい。 2

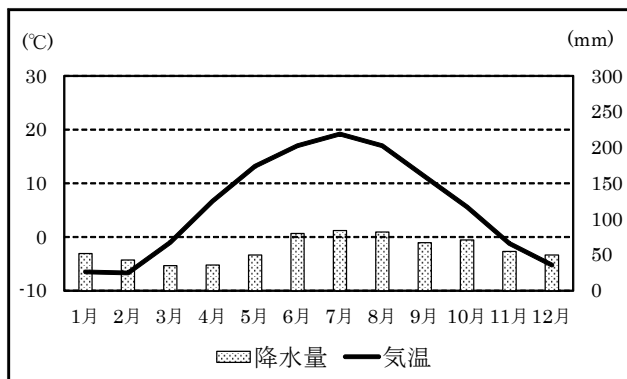
- ① 2月 9日午後10時
- ② 2月10日午前 4時
- ③ 2月10日午後10時
- ④ 2月11日午前 4時

問 3 雨温図①～④は，図1中の北京，メルボルン，モスクワ，ラパスのいずれかの都市のものです。ラパスの雨温図として正しいものを，次の①～④のうちから一つ選びなさい。

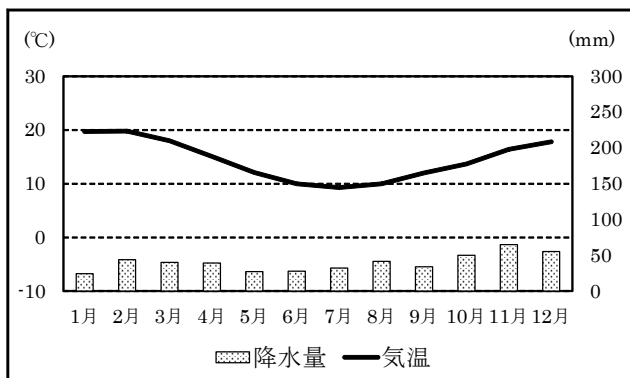
3



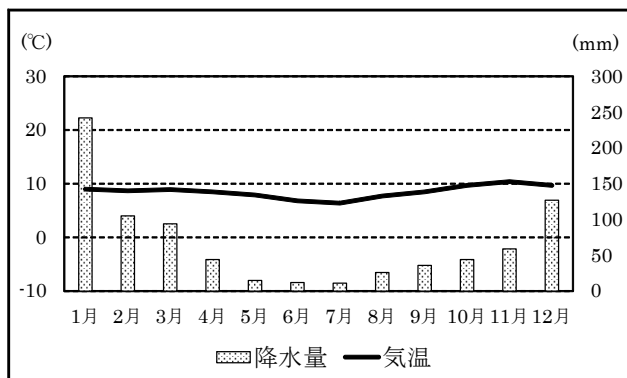
①



②



③



④

(出典 統計要覧2015など)

問 4 図1中の I の国について、問いに答えなさい。

- (1) 次の文章X, Yについて、この国に関するできごとの正誤の組み合わせとして正しいものを、あとの①～④のうちから一つ選びなさい。 **4**

X 紀元前3000年ごろ、^{くさびがた もじ}楔形文字が発明されて^{ねんど ばん}粘土板に刻まれた

Y 第一次世界大戦後、ガンディーの指導によって^{どくりつうんどう}独立運動が展開された

- ① X 正 Y 正
 ② X 正 Y 誤
 ③ X 誤 Y 正
 ④ X 誤 Y 誤

- (2) この国では、国内で生産される綿花を原料とする綿工業が発展しています。次の①～④は小麦、米、茶、綿花のいずれかの国別生産量の割合を示したものです。綿花にあてはまるものを、次の①～④のうちから一つ選びなさい。 **5**

	国名	%
1位	中国	18.0
2位	I	14.1
3位	アメリカ合衆国	9.2
4位	フランス	6.0
5位	ロシア	5.6

①

	国名	%
1位	中国	26.4
2位	I	20.5
3位	アメリカ合衆国	13.9
4位	パキスタン	8.5
5位	ブラジル	6.3

②

	国名	%
1位	中国	28.4
2位	I	21.2
3位	インドネシア	9.6
4位	ベトナム	6.1
5位	タイ	5.3

③

	国名	%
1位	中国	35.3
2位	I	20.8
3位	ケニア	7.7
4位	スリランカ	6.8
5位	トルコ	4.7

④

(出典 統計要覧2015)

問 5 図1中のⅡの国について、問いに答えなさい。

- (1) この国はめざましい経済発展を遂げ、「世界の工場」ともよばれています。図3はそのさきがけとなった地域を示しています。これらの地域では税制を優遇するなどして、外国企業を積極的に誘致してきました。これらの地域は何と呼ばれていますか。その名称を、解答用紙裏面の **101** に漢字4字で答えなさい。

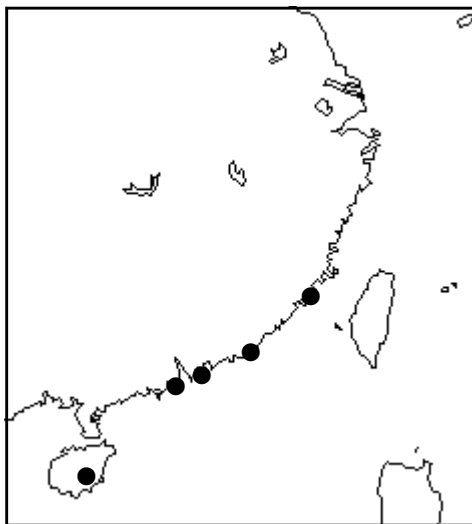


図3

- (2) この国と日本との関係について述べた文として誤っているものを、次の①～④のうちから一つ選びなさい。 **6**

- ① 足利義満が、日明貿易をおこなった
- ② 平清盛が、宋との貿易に力を入れた
- ③ 藤原道長が、遣唐使の廃止を提案した
- ④ 厩戸皇子(聖徳太子)が、遣隋使を派遣した

問 6 図1中のⅢの国について、問いに答えなさい。

- (1) 図4はこの国の人種・民族構成を示したものです。図4中の<イ>はスペイン語を話す移民とその子孫です。この人々は何と呼ばれていますか。その名称を、解答用紙裏面の **102** にカタカナで答えなさい。

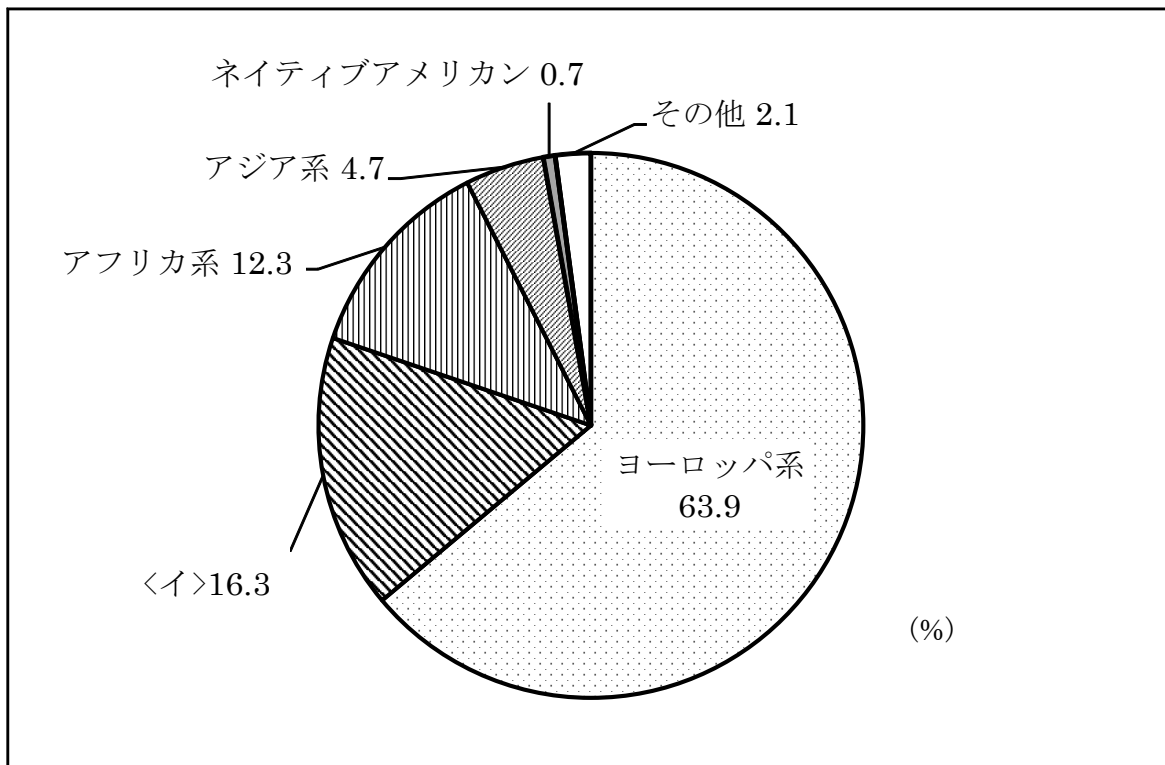


図4

(出典 US Census 2010)

- (2) この国と日本との関係について述べた文として誤っているものを、次の①～④のうちから一つ選びなさい。 **7**

- ① 江戸時代末期、ペリーが来航し、日本に開国を求めた
- ② 1951年、鳩山一郎内閣は、この国との間に安保条約を結んだ
- ③ 昨年、この国のオバマ前大統領がはじめて被爆地広島を訪れた
- ④ 第二次世界大戦後、マッカーサーが来日し、日本の民主化を押し進めた

問 7 図2中のAの国について、問いに答えなさい。

(1) この国では世界ではじめて産業革命が起きました。これに関して述べた文として誤っているものを、次の①～④のうちから一つ選びなさい。 **8**

- ① 都市に人口が集中して生活環境が悪化した
- ② 資本主義という新しい経済のしくみができた
- ③ 電力が機械の動力として使われるようになった
- ④ 女性や子どもたちの長時間労働が問題となった

(2) この国では他国にさきがけて人権思想がめばえました。この国が、「人の支配」から「法の支配」へとかわる過程として正しいものを、次の①～④のうちから一つ選びなさい。 **9**

- ① ピューリタン革命 → 名誉革命 → 権利の請願 → 権利の章典
- ② ピューリタン革命 → 権利の章典 → 名誉革命 → 権利の請願
- ③ マグナ=カルタ → 権利の請願 → 権利の章典 → 名誉革命
- ④ マグナ=カルタ → ピューリタン革命 → 名誉革命 → 権利の章典

問 8 図2中のBの国について、問いに答えなさい。

(1) この国では1789年におこった革命で「人権宣言」が発表されました。「人権宣言」にあたるものを、次の①～④のうちから一つ選びなさい。 **10**

- ① 「あらゆる主権の原理は、本質的に国民に存する」
- ② 「国王は、議会の承認なく法律を停止することはできない」
- ③ 「われわれは、次の真理を当然のものと認める。すべての人は平等に造られている」
- ④ 「経済活動の秩序は、すべての人に人間たるに値する生活を保障する目的をもつ正義の原則に適合しなければならない」

(2) この国は、失業率が10.5%(出典 2015年 IMF)と高い水準になっており、政府はいっそうの景気回復を目指しています。一般的には、このように失業率が高い状況は不況と見なされます。不況時に起こる事柄として誤っているものを、次の①～④のうちから一つ選びなさい。 **11**

- ① リストラが進められる
- ② インフレーションが進む
- ③ 生産が縮小し、利潤は減少する
- ④ 所得が低くなり、消費は縮小する

問 9 図2中のCの国について、問いに答えなさい。

- (1) Cの国を通過している線は北緯40度の緯線ほくいを示しています。この緯線が通過する日本の都道府県として正しいものを、次の①～④のうちから一つ選びなさい。ただし、縮尺は同じではありません。 12



①



②



③



④

- (2) この国では14世紀ごろ、人間らしい個性や自由を求める動きがおこりました。この動きは、古代のギリシャやローマの文化を模範もほんとして復興ふっこうさせようとしたことから何と呼ばれていますか。その名称を、解答用紙裏面の 103 にカタカナで答えなさい。

- (3) この国について述べた文として正しいものを、次の①～④のうちから一つ選びなさい。

13

- ① 地中海に面している
- ② 世界最長の河川が流れている
- ③ シリコンバレーとよばれる地域がある
- ④ 夏は一日中、太陽の沈まない白夜しずびやくやとなる

問10 図2中のDの国について、問いに答えなさい。

- (1) この国では、早くから民主政治が行われていました。民主政治の意味について分かりやすく説明しているものに、1863年当時、アメリカ大統領だったリンカンの演説があります。その演説の一部を示した下の文中の空欄〈ウ〉に入る語句を、解答用紙裏面の104に5字で答えなさい。

人民の、〈ウ〉、人民のための政治

- (2) 2020年には、東京でオリンピックが開催されます。オリンピックは、この国で開催された古代オリンピックに起源をもちます。オリンピックはスポーツの祭典であると同時に、平和の祭典とも言われています。日本では日本国憲法で平和主義を掲げています。日本国憲法に定められている内容として誤っているものを、次の①～④のうちから一つ選びなさい。14

- ① 国防のために、陸海空軍その他の戦力を保持することを認めている
- ② 日本国民は、平和のうちに生存する権利を有することを確認している
- ③ 政府の行為によって再び戦争の惨禍が起こることのないように決意している
- ④ 武力の行使は、国際紛争を解決する手段としては、永久にこれを放棄している

問11 図2中のEの国について，問いに答えなさい。

- (1) この国に関連するできごと<エ>～<キ>を古い順に並べたとき3番目にくるものを，あとの①～④のうちから一つ選びなさい。 **15**

- <エ> ベルリンの壁が崩壊した
<オ> 日本，イタリアと三国同盟を結んだ
<カ> ベルサイユ条約で海外の植民地をすべて失った
<キ> オーストリアを支援して，セルビアを相手に戦争を開始した

- ① <エ>
② <オ>
③ <カ>
④ <キ>

- (2) この国では1919年，ワイマール憲法が制定され，社会権が世界で初めて規定されました。日本国憲法にも基本的人権の一つとして社会権が保障されています。日本国憲法に保障された社会権として誤っているものを，次の①～④のうちから一つ選びなさい。

16

- ① 勤労者の団結する権利
② 裁判所において裁判を受ける権利
③ 能力に応じて，等しく教育を受ける権利
④ 健康で文化的な最低限度の生活を営む権利

問12 図2中のFの国について，問いに答えなさい。

- (1) この国では，干拓地の排水のための動力として風車が多く使われていました。これは一年を通して同じ方向に吹く風を利用したものです。この風の名称を，解答用紙裏面の **105** にひらがなで答えなさい。

- (2) この国と，鎖国を行っていた時期の日本との貿易について述べた文として誤っているものを，次の①～④のうちから一つ選びなさい。 **17**

- ① 貿易は，長崎の出島で行われた
② 日本からの輸出品は，銀や海産物が中心であった
③ 勘合を与えられた豪商や大名だけが，貿易を行った
④ 日本への輸入品は，中国産の生糸や絹織物が中心であった

問13 ヨーロッパではEUが結成され、多くの国々が加盟しています。これに関して、問いに答えなさい。

(1) EUについて説明した文として誤っているものを、次の①～④のうちから一つ選びなさい。 **18**

- ① 東ヨーロッパの国々も数多く加盟した
- ② すべての加盟国で共通通貨であるユーロが導入された
- ③ 加盟国間では国の行き来が自由にできるようになった
- ④ アメリカ合衆国などの大国に^{たいこう}対抗するためにつくられた

(2) 昨年、EUからの^{だつたい}脱退について国民にその^{ぜひ}是非を問い、離脱を決めた国が、図2中のA～Fに含まれています。その国を、次の①～⑥のうちから一つ選びなさい。 **19**

- ① A
- ② B
- ③ C
- ④ D
- ⑤ E
- ⑥ F

(3) 表1はヨーロッパの国々の食料自給率(%)を示したものです。表1中の<ク>は図2中のB～Eのいずれかの国です。<ク>にあてはまる国として正しいものを、あとの①～④のうちから一つ選びなさい。 **20**

表1

	小麦	いも類	野菜類	果実類	肉類	乳製品
A	99	85	43	5	67	76
<ク>	194	124	72	62	100	116
F	25	210	303	32	175	178

(出典 2012年度食料需給表)

- ① B
- ② C
- ③ D
- ④ E

第2問 あきら君・きくこさん・先生の三人は「私にとって幸福とは何か」ということについて話し合っています。以下の会話文を読んで、あとの設問に答えなさい。

あきら ^{ぼく}僕にとって幸福とは、a お金持ちになることです。将来、大きな b 企業に勤めていっぱいお金を稼いで、おいしいものをたくさん食べたいからです。

きくこ 私は、大切な人と結婚して、^{けっこん} ^{すてき}素敵な c 家族と過ごす時間こそが幸福だと思います。

先生 何に幸せを感じるかは人それぞれだと思いますが、みなさんはGNH(国民総幸福)という指標を知っていますか。

あきら えっ、GNHですか。初めて聞きました。

先生 GNHの^{がいねん}概念は、d 1970年代にブータン国王により提唱されました。ブータンは e 九州と同じくらいの面積で、人口も徳島県と同じくらいの小さな国です。この概念の背景には f 仏教の価値観がみられます。GNHは、心理的な幸福、国民の健康、教育、環境や g 文化の多様性と活力などの9つの分野の指標を数値化して算出されています。

あきら 難しいですね。いったいどういうことですか。

先生 たとえば、どれだけ経済的に豊かであっても、h 紛争が絶えなかったり、十分な^{いりょう}医療や教育サービスを受けられず、望むとおりに生きられなかったりする環境だと幸せとはいえませんね。だから、ブータンでは医療費や教育費は無料なのです。

また、i 自然環境の保護に関する方針として、k 法律で国土の森林面積の割合を60%以上に維持することを定めています。まだまだ経済的に豊かな国とはいえませんが、2005年の国勢調査では国民の約97%が「幸せ」だと答えていましたよ。

あきら そうですね。l 人間らしい生活が営めない環境や、自分らしい生き方ができない生活ではお金があつたとしても幸せとはいえないですね。

きくこ 最近、世界各地で起こっているテロや難民のニュースをよく見ますが・・・日本は憲法で平和主義を掲げているから、きっとGNHは^{ちが}上位に違いないですね。

先生 国際連合が発表している2016年度版世界幸福度調査の結果では、1位はデンマーク、2位はスイスでした。日本は前年度は46位だったのに53位に下がってしまいました。下位は m アフリカや n 中東の国々が占めています。

あきら どうして日本は順位が下がってしまったのだろう。みんなで考えてみよう。

問 1 下線部aについて、問いに答えなさい。

(1) 日本におけるお金の歴史について述べた文として正しいものを、次の①～④のうちから一つ選びなさい。 **21**

- ① 奈良時代には、貨幣は存在しなかった
- ② 平安時代には、和同開珎わどうかいちんがつけられた
- ③ 鎌倉時代には、宋銭そうせんが広くつかわれた
- ④ 江戸時代には、幕府は貨幣を発行しなかった

(2) 私たちが使っているお金のうち、日本の紙幣を発行している機関はどこですか。その機関の名称を、解答用紙裏面の **106** に漢字4字で答えなさい。

問 2 下線部bについて、問いに答えなさい。

(1) 図1の<ア>、<イ>が示すものの組み合わせとして正しいものを、あとの①～④のうちから一つ選びなさい。 **22**

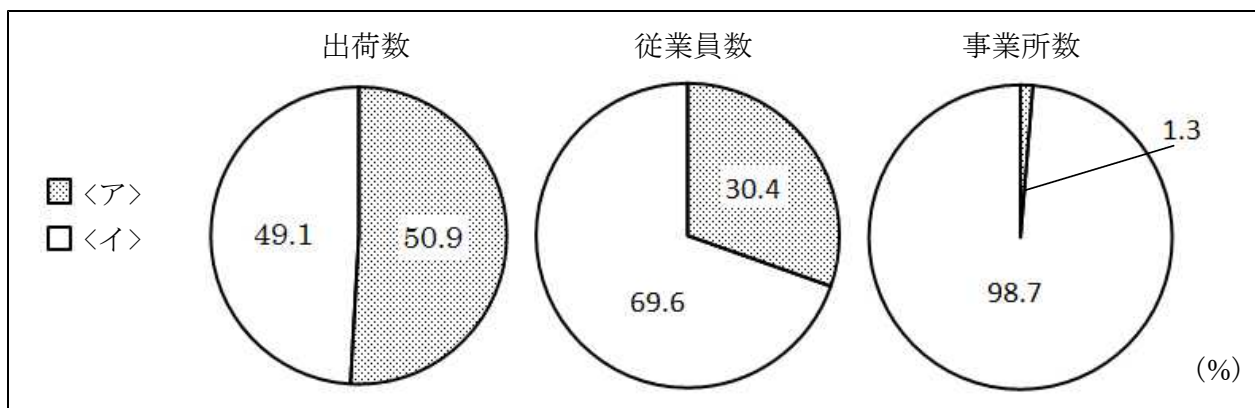


図1

(出典 経済産業省 2014年度資料)

	<ア>	<イ>
①	私企業 <small>し</small>	公企業 <small>こう</small>
②	ベンチャー企業	地方公営企業
③	法人企業 <small>ほうじん</small>	個人企業
④	大企業	中小企業

(2) 日本には、明治時代から今日まで続く工場や企業があります。明治新政府が近代産業を育成するために行った事業、政策の説明として誤っているものを、次の①～④のうちから一つ選びなさい。 23

- ① 郵便制度を開始した
- ② ラジオ放送を開始した
- ③ 新橋、横浜間に鉄道を開通させた
- ④ 富岡製糸場などの官営模範工場を開設した

問 3 下線部cについて、問いに答えなさい。

(1) 1人の女性が一生の間に産む子どもの数の平均を合計特殊出生率とくしゅといいます。図2をみて、このグラフから読み取れることとして正しいものを、あとの①～④のうちから一つ選びなさい。 24

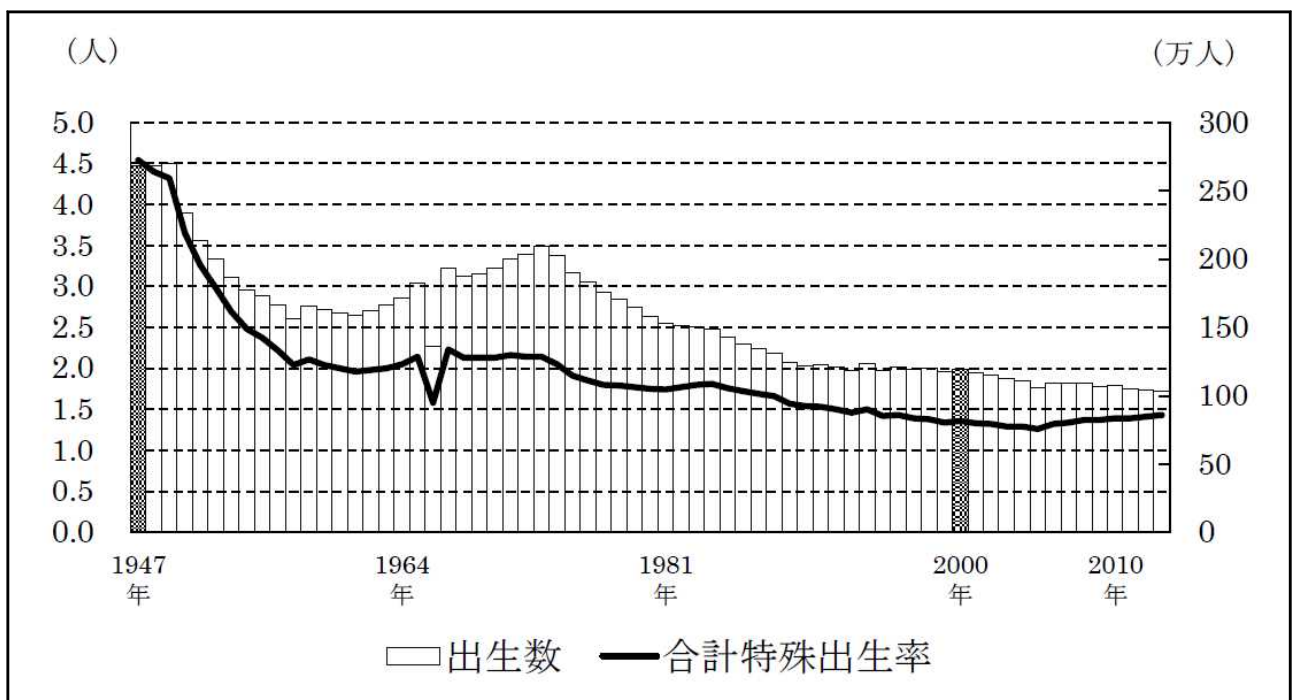


図2

(出典 厚生労働省 2016年度資料)

- ① 出生数が減ると、合計特殊出生率は必ず上がる
- ② 1947年以降、合計特殊出生率は常に下がり続けている
- ③ 女性1人あたり平均約4.5人の子どもを出産していた年がある
- ④ 2000年以降、出生数は最も多かったときの4分の1以下である

- (2) 図3は家族の類型別一般世帯数の変化(1980年から2015年にかけて)を示しています。このグラフから分かることとして誤っているものを、あとの①～④のうちから一つ選びなさい。 **25**

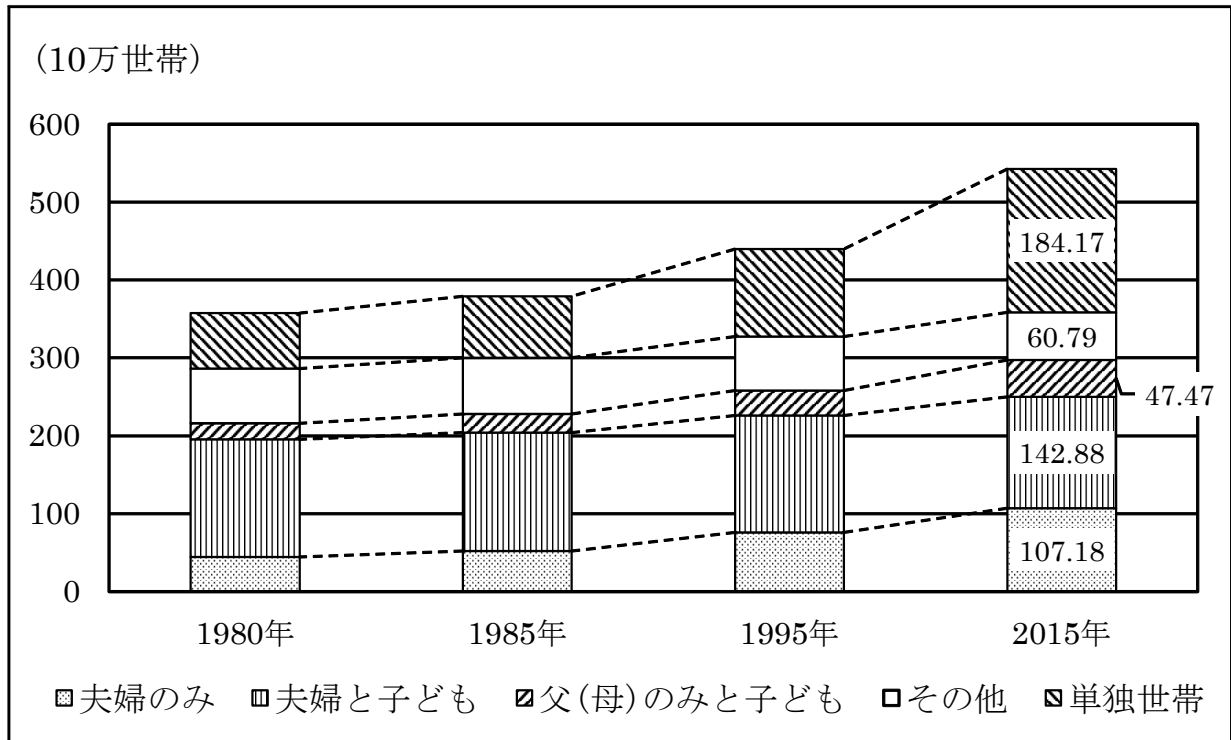


図3

(出典 総務省統計局 関係年度国勢調査結果)

- ① 核家族は増加している
- ② 世帯総数は増加している
- ③ 夫婦と子ども世帯よりも単独世帯の増加率の方が大きい
- ④ 単独世帯数は夫婦のみと夫婦と子どもの世帯数の合計よりも常に多い

問 4 下線部dについて、1970年代の日本のできごととして正しいものを、次の①～④のうちから一つ選びなさい。 **26**

- ① 地価や株価が下落し、バブル経済が崩壊した
- ② 朝鮮戦争をきっかけに、警察予備隊を組織した
- ③ 日中共同声明に調印し、中国との国交を正常化した
- ④ サンフランシスコ平和条約を結び、主権を回復した

問 5 下線部eについて、問いに答えなさい。

- (1) 律令制のもとでは、成年男子に兵役の義務がありました。下の文は、夫が家を出る悲しさを、その妻がよんだ歌です。文中の空欄<ウ>には九州地方に派遣される兵士を示す語句が入ります。空欄<ウ>に入る語句を、解答用紙裏面の107にひらがな4字で答えなさい。

<ウ>に 行くは誰が背と 問ふ人を 見るが羨しさ 物思ひもせず

- (2) 九州の歴史に関して述べた文として誤っているものを、次の①～④のうちから一つ選びなさい。27

- ① 元が二度にわたり九州北部に攻め入ってきた
- ② 種子島に流れ着いたスペイン人が、日本に鉄砲を伝えた
- ③ 重工業が発展するきっかけとなった八幡製鉄所が建てられた
- ④ キリシタンへの厳しい弾圧などに対して島原・天草一揆がおこった

- (3) 九州は農畜産業がさかんな地方です。九州のいずれかの県において、全国第一位の産品(2014年時点)を、次の①～④のうちから一つ選びなさい。28

- ① りんごの生産量
- ② キャベツの生産量
- ③ 乳用牛の飼育頭数
- ④ ブロイラーの飼育羽数

問 6 下線部fについて、問いに答えなさい。

- (1) 図4は世界の宗教別人口の割合を示しています。図4中の①～④はイスラム教，キリスト教，ヒンドゥー教，仏教のいずれかです。仏教を示すものとして正しいものを，図4中の①～④のうちから一つ選びなさい。 29

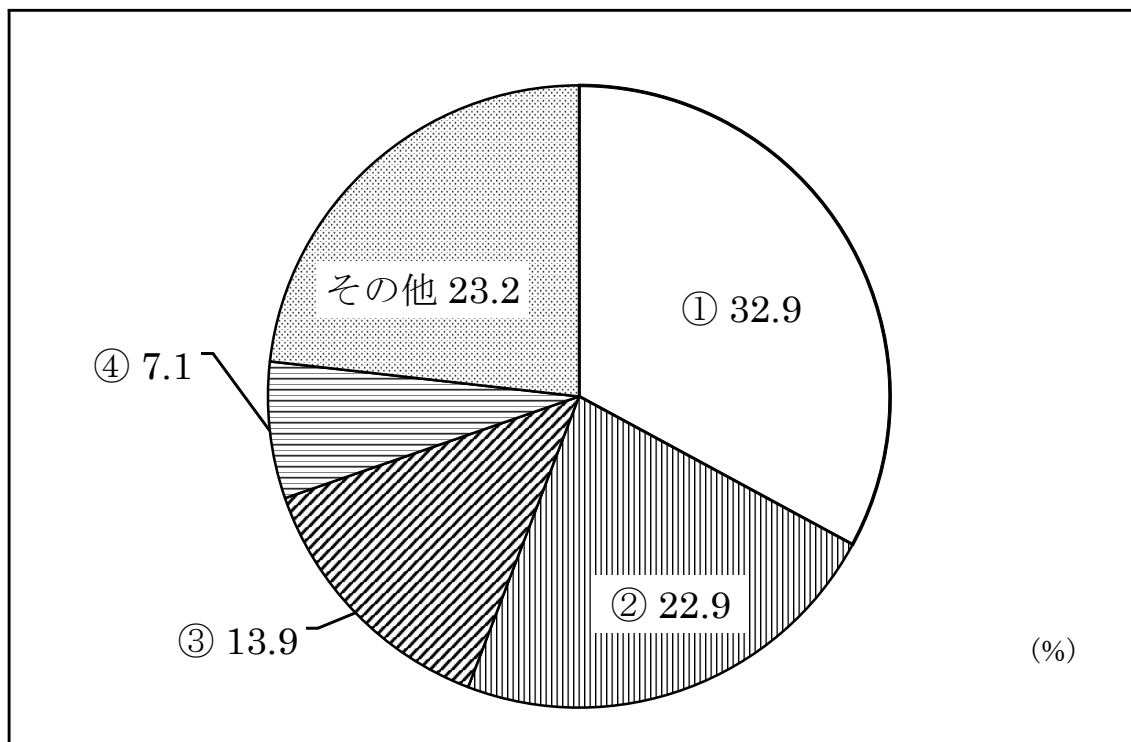


図4

(出典 Time Almanac 2013)

- (2) 鎌倉時代の仏教に関して述べた文として誤っているものを，次の①～④のうちから一つ選びなさい。 30

- ① 一遍は、おどり念仏を行う時宗を開いた
② 空海は、中国に渡り、日本に帰ったのち天台宗を開いた
③ 日蓮は、「南無妙法蓮華経」をとなえることで救われると説いた
④ 法然は、「南無阿弥陀仏」をとなえることで極楽浄土に行けると説いた

問 7 下線部gについて、日本の各時代の文化、代表する人物、作品の組み合わせとして正しいものを、次の①～④のうちから一つ選びなさい。 **31**

	文化	人物	作品
①	あすか 飛鳥文化	かんむ 桓武天皇	こじき 古事記
②	てんびょう 天平文化	しょうむ 聖武天皇	しんこきんわかしゅう 新古今和歌集
③	こくふう 国風文化	せいしょうなごん 清少納言	まくらのそうし 枕草子
④	かせい 化政文化	じっぺんしゃいっく 十返舎一九	おくほそみち 奥の細道

問 8 下線部hについて、問いに答えなさい。

(1) 地域的な紛争が世界規模の戦争に発展した例として、第一次世界大戦が挙げられます。第一次世界大戦について述べた文として誤っているものを、次の①～④のうちから一つ選びなさい。 **32**

- ① 講和会議はパリで開かれた
- ② サラエボ事件がきっかけとなり勃発した
- ③ 戦車、飛行機、潜水艦せんすいかんなどの新兵器が使われた
- ④ ヨーロッパが戦場であったため、日本は参戦しなかった

(2) 国際連合は、紛争が起きている国の同意にもとづき、停戦や選挙の監視などを展開しています。日本もこの活動に協力するために、海外への自衛隊の派遣を認めてきました。この活動の英略称えいりやくしょうを、解答用紙裏面の **108** にアルファベット3字で答えなさい。

問 9 下線部iについて、図5は25000分の1の縮尺の地形図です。これを見て、あとの問いに答えなさい。

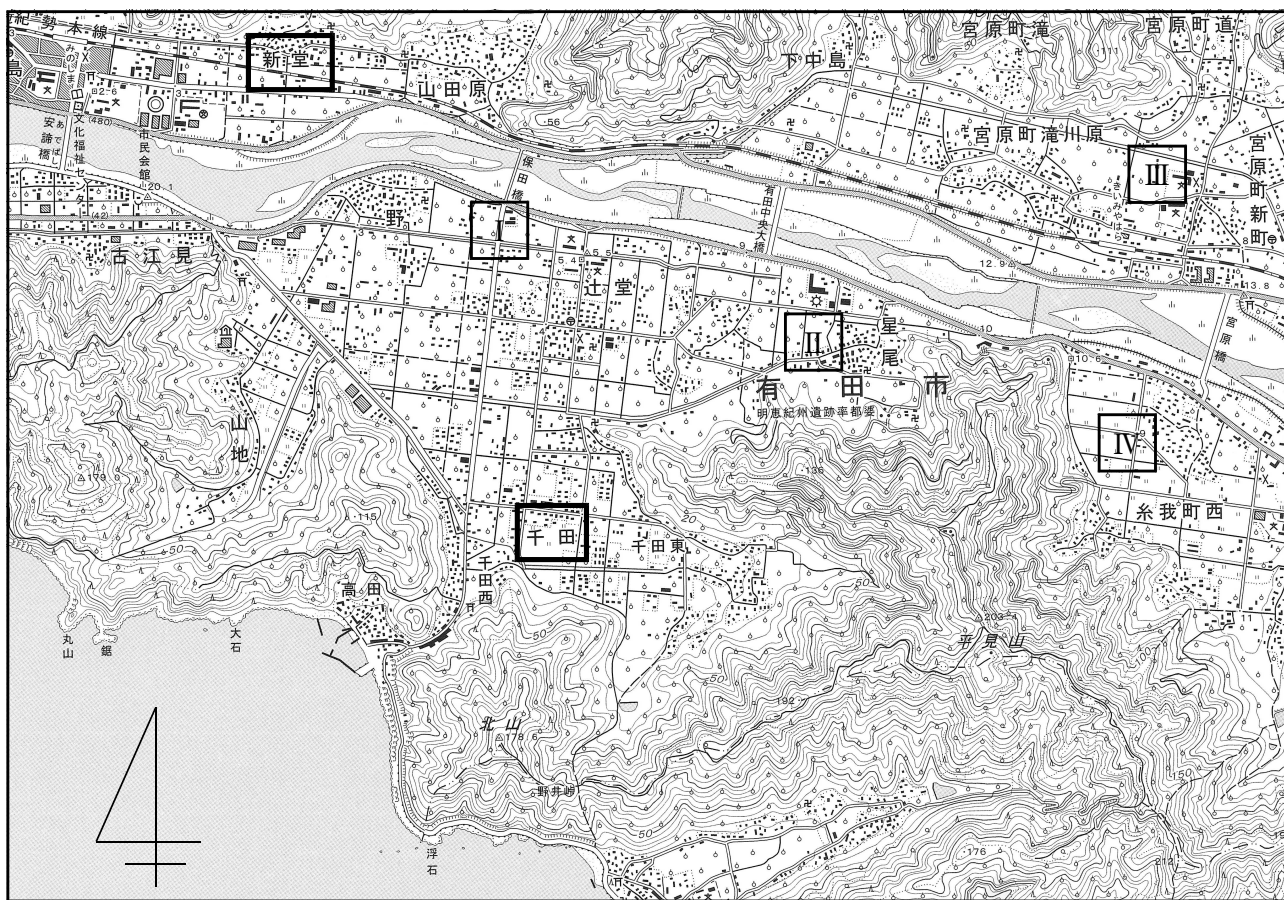


図5

(1) I～IVの地点の説明として正しいものを、次の①～④のうちから一つ選びなさい。

33

- ① Iの地点の西には高等学校があり、東には神社がある
- ② IIの地点の北には工場があり、その先には川が流れている
- ③ IIIの地点は、辺り一面に広葉樹林と針葉樹林が広がっている
- ④ IVの地点は、辺り一面に畑が広がっており、ネギが栽培されている

(2) 「新堂」から「千田」までの直線距離はおよそ7cmです。実際のおよその距離として正しいものを、次の①～④のうちから一つ選びなさい。

34

- ① 700m
- ② 1750m
- ③ 3500m
- ④ 7000m

問10 下線部kについて、問いに答えなさい。

- (1) 図6は、国会で法律がつくられる過程(衆議院から先に審議する場合)を示しています。図6中のA~Cに入る語句の組み合わせとして正しいものを、あとの①~④のうちから一つ選びなさい。 35

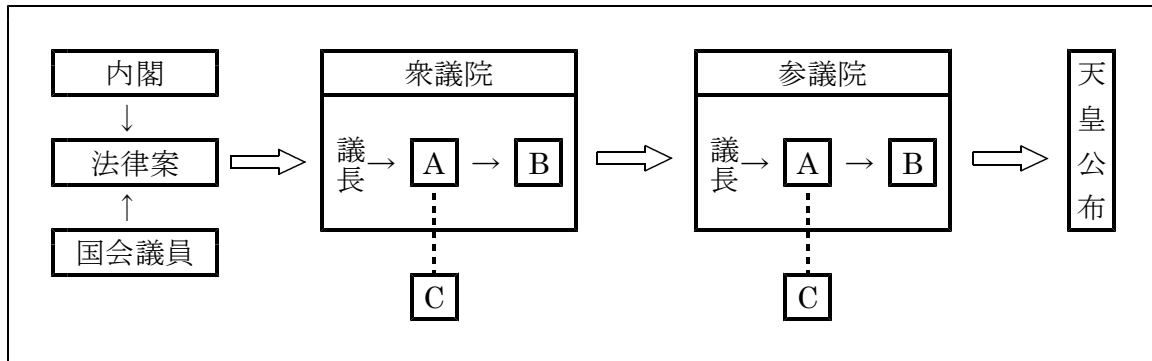


図6

	A	B	C
①	委員会	本会議	公聴会
②	委員会	公聴会	本会議
③	本会議	委員会	公聴会
④	本会議	公聴会	委員会

- (2) 次の文章X, Yは、日本における法の歴史に関して述べたものです。文中の下線部の正誤の組み合わせとして正しいものを、あとの①~④のうちから一つ選びなさい。 36

X 鎌倉時代には、裁判を公平に行うための基準を示した武家諸法度ぶけしよほつとがつけられた

Y 1925年、治安維持法が制定され、25歳以上のすべての男子に衆議院議員の選挙権が与えられた

- ① X 正 Y 正
 ② X 正 Y 誤
 ③ X 誤 Y 正
 ④ X 誤 Y 誤

問11 下線部Iについて、問いに答えなさい。

(1) 人間らしい生活を営む権利を保障するために、日本でも社会保障制度の整備を進めています。日本の社会保障制度について述べた文として正しいものを、次の①～④のうちから一つ選びなさい。 37

- ① 公衆衛生は、病気や高齢こうれいになったときに必要な費用を給付する
- ② 公的扶助ふじよは、国民の健康増進をはかり、感染症かんせんしやうなどの予防をめざす
- ③ 社会保険は、収入が少なく生活に困っている人に対して、生活費などを給付する
- ④ 社会福祉ふくしは、障がいのある人などに対して、生活の保障や支援サービスを提供する

(2) 日本国憲法に明確に規定されていない「新しい人権」は、この生活を営む権利(第25条)や幸福追求権(第13条)をもとに、保障されるべきものと考えられています。「新しい人権」として誤っているものを、次の①～④のうちから一つ選びなさい。 38

- ① 財産をたくわえる権利
- ② 健康で快適な環境で暮らす権利
- ③ 国や地方公共団体などの活動を知る権利
- ④ 特定の個人の生活や行動に関する情報を守る権利

問12 下線部mについて、問いに答えなさい。

- (1) アフリカの多くの国では、特定の鉱産資源やプランテーション作物の生産・輸出に頼たよっています。このような経済のことを何といいますか。その名称を、解答用紙裏面の **109** に答えなさい。
- (2) 図7は世界の地域別人口の推移を示しています。図7中の①～④はアジア、アフリカ、北アメリカ、ヨーロッパのいずれかです。アフリカを示すものとして正しいものを、図7中の①～④のうちから一つ選びなさい。 **39**

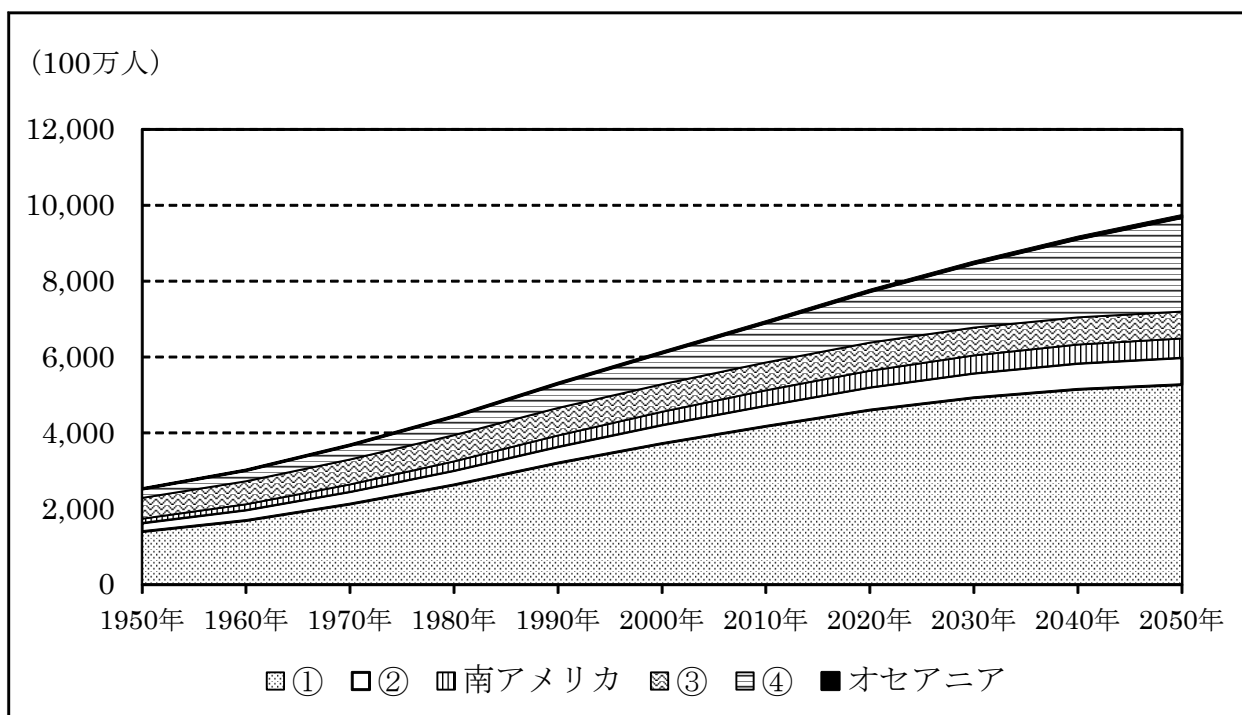


図7

(出典 国連 人口の動向2010)

問13 下線部nについて、問いに答えなさい。

(1) 中東の国々では、イスラム教を信仰している人がたくさんいます。イスラム教について説明した文として誤っているものを、次の①～④のうちから一つ選びなさい。 40

- ① キリスト教よりも前におこった
- ② ムハンマドによって始められた
- ③ 聖典はコーラン(クルアーン)である
- ④ 豚肉を食べることや、飲酒は禁止されている

(2) 中東の石油輸出国の多くは、「石油輸出国機構」に加盟しています。この機構の英略称を、解答用紙裏面の 110 にアルファベット4字で答えなさい。

これで問題は終わりです。