

社 会

(解答番号 ~)

第 1 問 太郎くんは、中学校 3 年間の地理、歴史、公民での学習をもとにして「持続可能な社会の実現」というテーマでレポートを書くことにしました。持続可能な社会とは、将来の世代の幸福と現代の世代の幸福とを両立できる社会を意味しています。太郎くんは、社会の形成者の一人として、私たち人間は何をしてきたのか、何ができるのかを科学的に捉え、考えていくことが大切だということに、学習を通じて気づいていきます。設問に答えなさい。

問 1 太郎くんは、持続可能な社会を実現するための探究の第一歩として「社会の課題」を見つけ出そうと考えました。まず、アフリカにおいて、なぜ農業や鉱業の生産物が、特定の産物にかたよっているのかを図式化して考えてみることにしました。図1を参考に、設問に答えなさい。

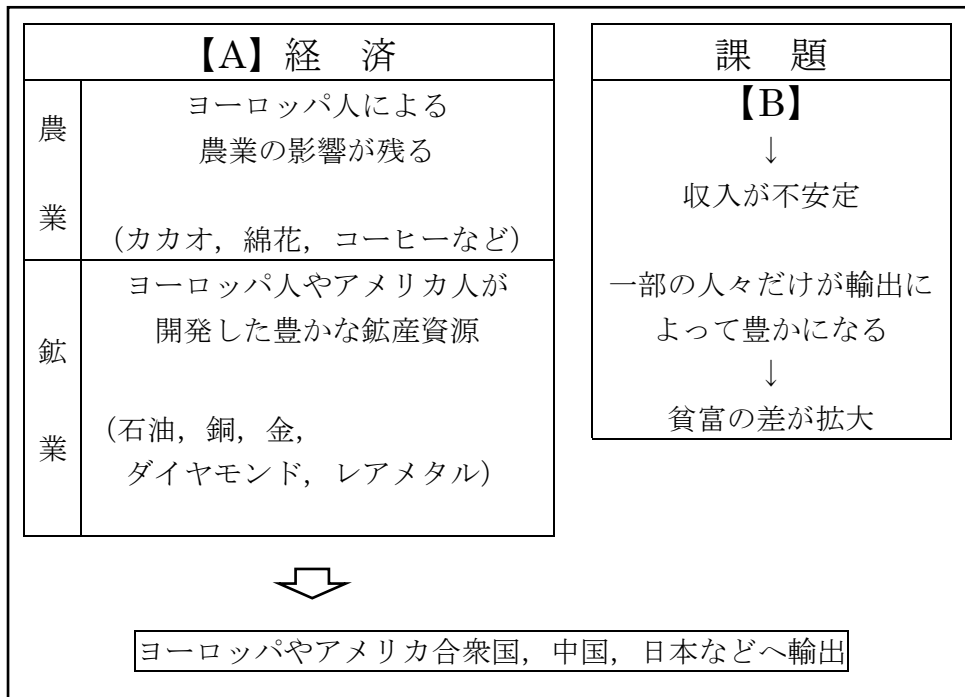


図1

(1) 【A】にあてはまる語句として適当なものを、次の①～④のうちから一つ選びなさい。

- ① 混合
- ② 資本主義
- ③ ブロック
- ④ モノカルチャー

(2) 太郎くんは、【A】経済の課題として収入が不安定になるという点に着目しました。【B】に入る、その原因を説明した文として最も適当なものを、次の①～④のうちから一つ選びなさい。 **2**

- ① 天候や景気の影響により価格が変動しやすい
- ② 先進国と同盟関係を結んでいない
- ③ 五カ年計画に失敗した
- ④ バブル経済が崩壊した

(3) 太郎くんは、持続可能な社会の実現のためには、「開発途上国における飢餓を早急に解決しなければならない」ということに気づきました。飢餓状態にあるアフリカ諸国に関する説明X・Yの文の正誤の組み合わせとして正しいものを、下の①～④のうちから一つ選びなさい。 **3**

- X 食料を輸入する経済的余裕がありません
- Y 乳児死亡率が高くなる傾向がある

	X	Y
①	正	正
②	正	誤
③	誤	正
④	誤	誤

問 2 太郎くんが引き続き持続可能な社会についていろいろ調べていると、国連において持続可能な開発会議が開催されたのと同じ 2013 年に、マララ・ユスフザイさんが演説をおこなったことを知りました。次の文はその演説の一部です。設問に答えなさい。

慈悲深く慈愛あまねきアッラーの御名において。

パン・ギムン国連事務総長，ブク・ジェレミック国連総会議長，ゴードン・ブラウン国連世界教育特使，尊敬すべき大人の方々，そして私の大切な少年少女のみなさんへ，アッサラーム・アライカム（あなたに平和あれ）。．．．．．

私は訴えます。自分自身のためではありません。すべての少年少女のためにです。

私は声を上げます。といっても，声高に叫ぶ私の声を届けるためではありません。声が聞こえてこない「声なき人々」のためにです。それは，a 自分たちの権利のために闘っている人たちのことです。．．．．．

親愛なるみなさん，2012 年 10 月 9 日，タリバンは私の額の左側を銃で撃ちました。私の友人も撃たれました。彼らは銃弾で私たちを黙らせようと考えたのです。．．．．．

私は，自分を撃ったタリバン兵士さえも憎んではいません。私が銃を手にして，彼が私の前に立っていたとしても，私は彼を撃たないでしょう。これは，私が預言者モハメッド，キリスト，b ブッダから学んだ慈悲の心です。

これは，マーティン・ルーサー・キング，c ネルソン・マンデラ，そしてムハンマド・アリー・ジンナーから受け継がれた変革という財産なのです。

「THE HUFFINGTON POST」より抜粋

(1) 上の文から，マララさんが信仰している宗教が分かります。マララさんが信仰している宗教として正しいものを，次の①～④のうちから一つ選びなさい。

4

- ① 仏教
- ② ヒンドゥー教
- ③ イスラム教
- ④ キリスト教

(2) 国連について説明した文として正しいものを，次の①～④のうちから一つ選びなさい。

5

- ① 勢力均衡方式が採用されている
- ② 日本は常任理事国として活躍している
- ③ 総会の表決方法は全会一致制を採用している
- ④ 安全保障理事会において，5 常任理事国は拒否権を有している

- (3) 国連の専門機関のうち、子どもの権利条約に基づき、子どもの権利を確立し、子どもたちの生存と健やかな成長を守るための活動をおこなっている専門機関として正しいものを、次の①～④のうちから一つ選びなさい。 **6**

- ① ILO
- ② IAEA
- ③ UNICEF
- ④ UNESCO

- (4) 下線部 a に関連して、世界には自分たちの権利のために闘ってきた歴史があります。次の文の内容にあたるものとして正しいものを、下の①～④のうちから一つ選びなさい。 **7**

人は生まれながらにして、自由で平等な権利を持つ。社会的な区別は、ただ公共の利益に関係のある場合にしか設けられてはならない。

- ① 権利章典
- ② 水平社宣言
- ③ フランス人権宣言
- ④ アメリカ独立宣言

- (5) 下線部 a に関連して、次の文は市民革命を支えた考えに関するものです。この考えを唱えた人物として正しいものを、下の①～④のうちから一つ選びなさい。 **8**

同じ人間の手に立法権と行政権が合わせもたれているときには、自由はない。裁判権が立法権と行政権から分けられていないときも、自由はない。

- ① ロック
- ② ルソー
- ③ ホッブズ
- ④ モンテスキュー

(6) 下線部 b に関連して、ブツダの教えを土台としている仏教は日本においても広まっていきました。日本の仏教に関する説明として誤っているものを、次の①～④のうちから一つ選びなさい。 **9**

- ① 蘇我氏は聖徳太子とともに仏教を広めたので、大王がいた飛鳥地方を中心に、日本で最初の仏教文化が栄えた
- ② 聖武天皇と光明皇后は、仏教の力にたよって伝染病や災害などの不安から国家を守ろうと考え、国ごとに国分寺と国分尼寺を建立した
- ③ 桓武天皇が平安京に都を移したころ、天台宗を伝えた最澄は、比叡山に延暦寺を建立した
- ④ 奥州藤原氏により中尊寺金色堂が建てられたころ、東日本では平清盛が勢力を広げていた。

(7) 下線部 b に関連して、日本では鎌倉時代に新しい仏教が広まりました。これらの仏教を鎌倉仏教とよびます。鎌倉仏教について説明した文として正しいものを、次の①～④のうちから一つ選びなさい。 **10**

- ① 親鸞は浄土信仰の教えを徹底することをめざし、浄土宗を開いた
- ② 法然は「南無阿弥陀仏」と唱えれば極楽浄土に生まれ変われると説き、時宗を開いた
- ③ 一遍は、念仏の札を配って教えを広め、浄土真宗を開いた
- ④ 栄西は座禅によって自分の力でさとりを開こうとする禅宗を伝え、臨済宗を開いた

(8) 下線部 c に関連して、ネルソン・マンデラが大統領を務めた国として正しいものを、図 2 中の①～④のうちから一つ選びなさい。 **11**

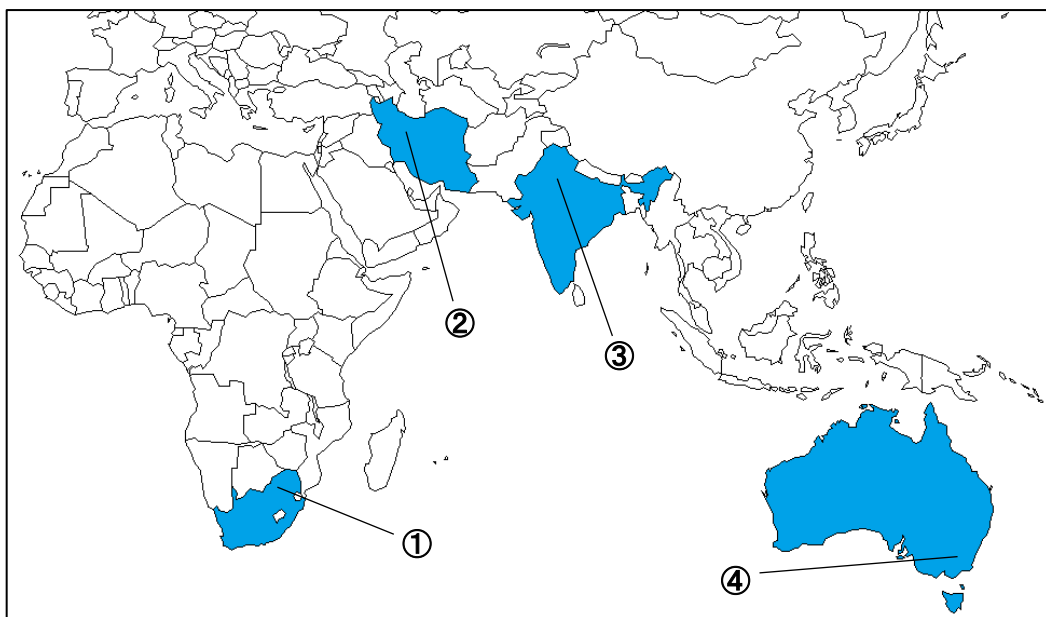


図 2

問 3 太郎くんは、2030年にむけたSDGs(持続可能な開発目標)でも、多様性が尊重される持続可能な社会の実現がめざされていることを知りました。太郎くんのクラスでは、SDGsの内容をもとに班別にテーマ学習をおこないました。表1は各班が調べた内容です。設問に答えなさい。

表 1

班名	調べた内容
A 班	女性の権利
B 班	教育の歴史
C 班	持続可能な消費
D 班	エネルギー利用
E 班	環境問題

- (1) A班は女性の権利に関する条約や法律について調べました。X～Zは女性の権利に関する条約，日本の法律の一部です。それぞれの条約と法律が批准，施行された順序として正しいものを，下の①～⑥のうちから一つ選びなさい。

12

- X 男女共同参画社会の形成の促進に施策の基本事項を定めることにより，男女共同参画社会の形成を総合的かつ計画的に推進することを目的とする
- Y 女子に対するあらゆる形態の差別を非難し，女子に対する差別を撤廃する政策をすべての適当な手段により，かつ，遅滞なく追求することに合意し，及びこのため次のことを約束する
- Z 労働者が性別により差別されることなく，また，女性労働者にあつては母性を尊重されつつ，充実した職業生活を営むことができるようにすることをその基本的理念とする

- ① X → Y → Z
- ② X → Z → Y
- ③ Y → X → Z
- ④ Y → Z → X
- ⑤ Z → X → Y
- ⑥ Z → Y → X

(2) B班は教育の歴史について調べました。日本における教育の歴史の説明として誤っているものを、次の①～④のうちから一つ選びなさい。 **13**

- ① 室町時代には、禅僧や武士が集まり蘭学を中心に足利学校で学んだ
- ② 江戸時代には、町人や農民の子どもが寺子屋で、読み、書き、そろばんを学んだ
- ③ 明治時代には、学制が公布され、6歳以上のすべての男女を小学校に通わせることが義務となった
- ④ 第二次世界大戦後、教育の目的・目標や、教育の機会均等などについて定めた教育基本法が制定された

(3) C班は持続可能な消費について調べ、循環型社会を目指す仕組みを図3にまとめました。図3のXにあてはまる語句として正しいものを、下の①～④のうちから一つ選びなさい。 **14**

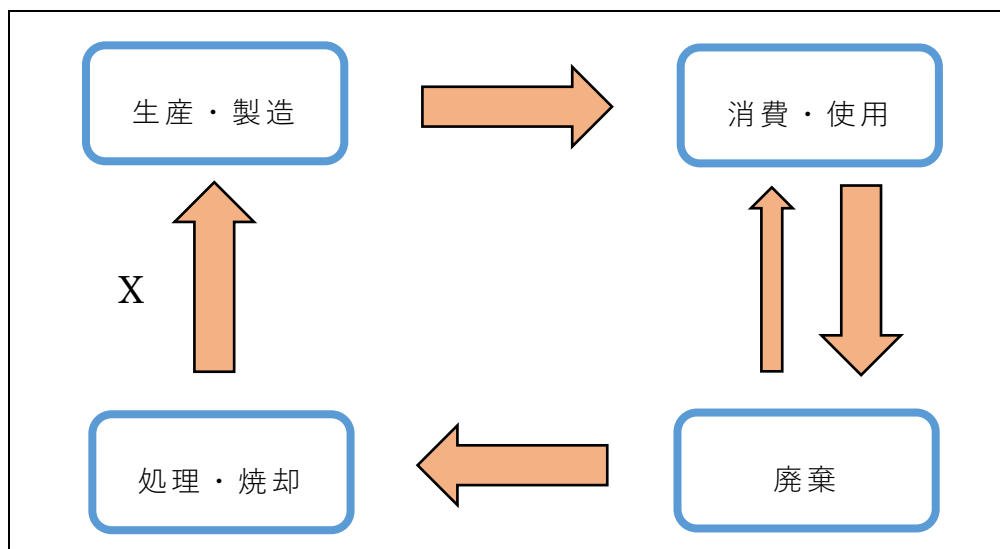


図 3

- ① リユース
- ② リサイクル
- ③ リフューズ
- ④ リデュース

- (4) D班はエネルギー利用について調べました。学習をおこなう中で、国によって発電量の内訳の割合が違うことに気がつきました。図4は2015年の日本、ドイツ、ブラジル、フランスの発電量の内訳を示したものです。ドイツの発電量の内訳を示したものを、図4中の①～④のうちから一つ選びなさい。 **15**

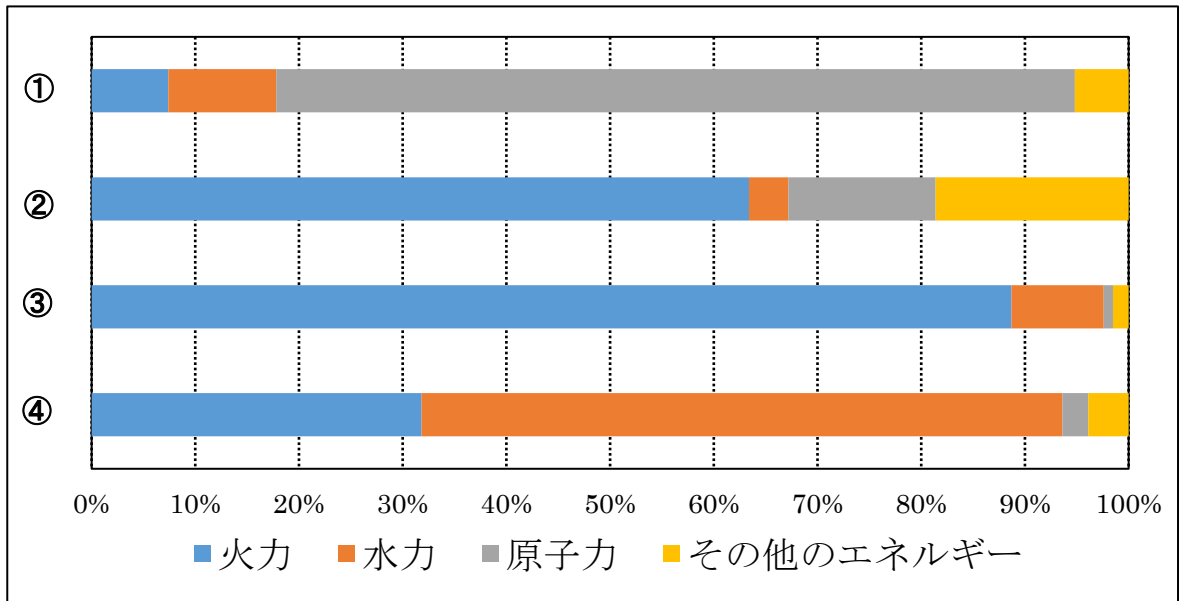


図4

(出典 日本国勢図会 2018/2019 より)

- (5) E班は環境問題について調べました。X～Zに関する環境問題の組み合わせとして正しいものを、下の①～⑥のうちから一つ選びなさい。 **16**

- X 森林が立ち枯^かれている
 Y タンカーから重油が流出した
 Z 砂丘^{さきゅう}が居住地域^{じゆうちいき}へと押し寄^よせている

	砂漠化 ^{さばくか}	海洋汚染 ^{おせん}	酸性雨
①	X	Y	Z
②	X	Z	Y
③	Y	X	Z
④	Y	Z	X
⑤	Z	X	Y
⑥	Z	Y	X

- (6) E 班の学習内容を見て、太郎くんは温室効果ガスの排出削減が不可欠だと考えました。図 5 は温室効果ガスの排出削減の仕組みを図式化したものです。この仕組みが規定されているものとして正しいものを、下の①～④のうちから一つ選びなさい。 17

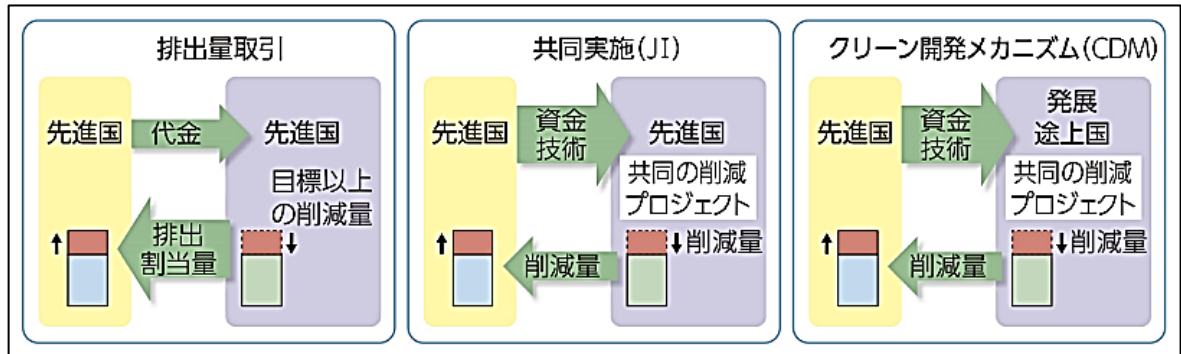


図 5

(出典 第一学習社『改訂版 現代社会』より)

- ① 京都議定書
- ② 名古屋議定書
- ③ ラムサール条約
- ④ ワシントン条約

- (7) E 班は環境アセスメントの大切さを強調していました。環境アセスメントを説明した文として正しいものを、次の①～④のうちから一つ選びなさい。

18

- ① ビン等の再利用可能な素材の回収を促進するために、製品の販売時に預かり金を上乗せし、空きビン等を返却するときにお金を返す仕組みのこと
- ② 環境負荷量を把握するために、製品の原料採取から廃棄まで全過程における環境負荷を定量的に評価すること
- ③ 環境に著しい影響を及ぼすと考えられる事業の環境負荷量を事前に調査・予測・評価すること
- ④ 環境負荷を低減するために、環境に配慮された製品やサービスを購入するよう促す仕組みのこと

問 4 太郎くんは、持続可能な社会を実現していくためには、より良い政治の仕組みが必要だということにも気づきました。設問に答えなさい。

(1) 日本でもさまざまな政治の仕組みが考えられてきました。図 6 は、日本におけるある時代の社会の仕組みを図式化したものです。この仕組みで政治がおこなわれはじめた時代の説明として正しいものを、下の①～④のうちから一つ選びなさい。

19

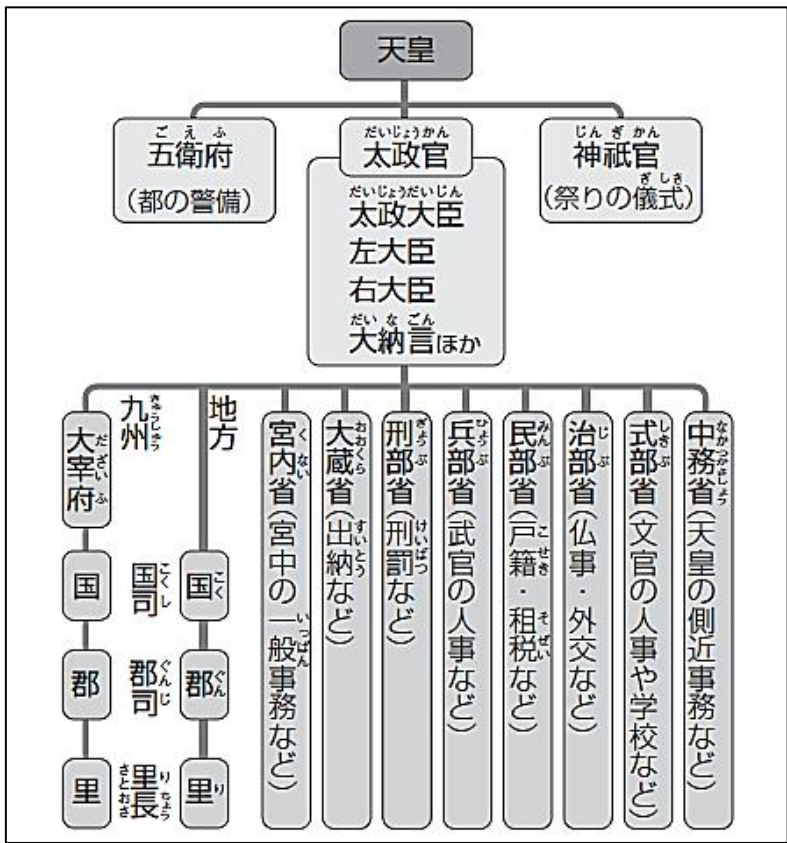


図 6

(出典 東京書籍『新編 新しい社会 歴史』より)

- ① 平城京がつけられ、刑罰の決まりや政治をおこなううえでのさまざまな決まりに基づいて政治がおこなわれた
- ② 京都に六波羅探題を置いたり、御成敗式目を定めて評定での判断の基準を決めたりした
- ③ 醍醐天皇により、天皇中心の政治がおこなわれ、武士の政治を否定し、貴族を重視する政策が採られた
- ④ 白河天皇が位を譲って上皇になり、身分にとらわれずに武士も家臣にするなど自由に人材を登用した

- (2) 次の新聞記事は、あるできごとに関するものです。このできごとは、政党内閣の時代を終わらせ、多くの軍人が首相になるきっかけとなりました。この新聞記事で報道されているできごととして正しいものを、下の①～④のうちから一つ選びなさい。

20



(出典 東京朝日新聞より)

- ① 二・二六事件
- ② 五・一五事件
- ③ 五・四運動
- ④ 三・一独立運動

- (3) 次の文は、アメリカ合衆国の大統領制と日本の議院内閣制について説明したものです。文中の下線部 a～d には誤りがあります。誤っている内容の数として正しいものを、下の①～④のうちから一つ選びなさい。 **21**

アメリカ合衆国の大統領制では、国民は立法をおこなう議会の議員と行政の長である大統領を別々に選挙します。大統領は、議会に a 公約 を送付します。

議院内閣制が採用されている日本では、内閣は国会の信任に基づいて成立し、国会に対して b 個別に責任 を負います。衆議院の選挙がおこなわれたときは、必ず内閣は総辞職し、選挙の結果をふまえて c 臨時国会 によって新しい内閣が作られます。アメリカ合衆国も日本も選挙に参加できるのは、d 満 20 歳以上 の国民であり、一票を投じることで、政治に民意を反映させることができます。

- ① 1
- ② 2
- ③ 3
- ④ 4

- 問 5** 太郎くんは、持続可能な社会を実現していくためには、物質的な豊かさを ^{はか} 図る指標である国内総生産(GDP)と、非物質的な豊かさの両方が必要であると考えました。国内総生産(GDP)に関する説明として正しいものを、次の①～④のうちから一つ選びなさい。 **22**

- ① 全世界で一年間に生産されたサービスのみの合計である
- ② 特定の国や地域の中で一定期間に生産された財やサービスの合計である
- ③ その国や地域の内外にかかわらず、国民や住民が一定期間に得た所得の合計のことである
- ④ 生態系の豊かさや伝統文化・精神文化の ^{いじ} 維持、経済的公平性の数値合計のことである

問 6 太郎くんは、持続可能な社会を実現していくためには、食料の確保も必要だと気づきました。設問に答えなさい。

- (1) 図 7 は、日本の米、小麦、豆類、肉類の 4 品目の自給率の推移をあらわしたものです。図 7 について説明した文として誤っているものを、下の①～④のうちから一つ選びなさい。 **23**

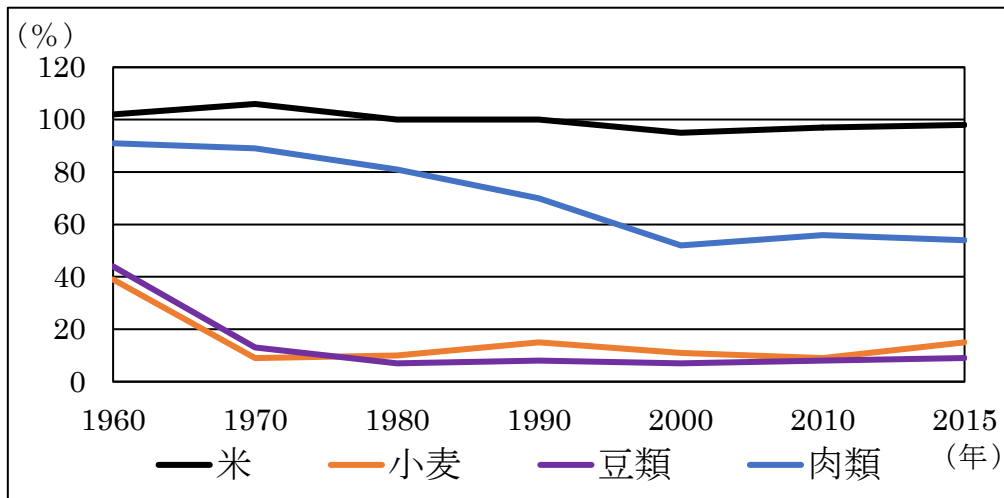


図 7

(出典 2019 データブック オブ・ザ・ワールドより)

- ① 1960 年から 2015 年の期間で、変動の幅が最も小さい品目は米である
 ② 輸入に頼っている小麦・豆類の品目は常に肉類よりも自給率が低い
 ③ 肉類の自給率は 1960 年から 1990 年の期間で半分以下になっている
 ④ 1960 年から 2015 年の期間で、米は高い自給率を維持している
- (2) 人は食料を確保するために、さまざまな工夫をしてきました。江戸時代におけるさまざまな工夫を説明した文として誤っているものを、次の①～④のうちから一つ選びなさい。 **24**

- ① 備中ぐわや千歯こきなどを使うようになった
 ② 同じ田畑で米と麦を交互に作る二期作をおこなった
 ③ 用水路をつくったり、海や広い沼地を干拓したりして新田を開発した
 ④ いわし(干鰯)や都市の住民の出すし尿を肥料として使うようになった

問 7 太郎くんは、「持続可能な社会の実現」のためのレポート作成を通して、「人間の安全保障」という考え方が大切なのだとすることに気づきました。「人間の安全保障」の説明として正しいものを、次の①～④のうちから一つ選びなさい。

25

- ① 国だけでなく一人一人の人間に着目し、その生命や人権を大切にするという考え方
- ② 最低限度の生活を保障し、一人一人の人間の自立を助けていかなければならないという考え方
- ③ NGOが中心となって、国連を指示監督^{かんとく}して、一人一人の人間が個人の生き方や生活の仕方について自由に決定するという考え方
- ④ ある国が攻撃^{こうげき}を受けたときに、自国は攻撃を受けていなくても、その国の防衛活動に参加すれば、一人一人の生命が守られるという考え方

第 2 問 次の太郎くんと先生の会話文をよく読んで、設問に答えなさい。

- 太郎 先生、あと半年たつと a 東京 で夏季オリンピック・b パラリンピック が開催されるんですね。
- 先生 そうだよ。東京での開催は c 1964年 について2回目になるんだよ。東京での開催が決まったときは本当にうれしかったですね。
- 太郎 ところで先生、オリンピックはいつごろからおこなわれていたのですか。
- 先生 もともとは紀元前9世紀頃、d ギリシャ の都市国家の間で開かれていたみたいだよ。それが、今のようなかたちになったのは、1896年の大会が最初だといわれているんだよ。
- 太郎 じゃあ、日本はその大会から参加しているんですか。
- 先生 いいえ、日本が最初に参加したのは1912年に e スウェーデン のストックホルムで開かれた大会からなんだよ。
- 太郎 そんなに古くから日本もオリンピックに参加していたんですね。長い歴史があるんですね。
- 先生 日本では冬季オリンピックも f 札幌 と長野で2度も開催されているんだよ。
- 太郎 ということは、日本でのオリンピック開催は4回目になるんですね。
- 先生 そうだよ。オリンピックが開催されると、g 外国からもたくさんの人びと が訪れて、日本の経済にも大きな影響を与えるんだよ。
- 太郎 ただ、オリンピックの開催によって、2020年は各地の花火大会などが中止になったり、延期になったりする所があるって、お父さんが言ってましたよ。
- 先生 そうらしいね。オリンピックを運営していくのには多くの人々の協力が必要で、h 警備の人々 などを確保するのが大変みたいですよ。
- 太郎 これだけのイベントを開催するとなるとさまざまな問題があるんですね。
- 先生 以前には、戦争で開催が中止されたこともあるんだよ。最初が、i 1916年 に開催予定だったドイツ のベルリン大会。それから数回、戦争が原因で開催が中止になったり、開催地が変更されたりしているんだよ。
- 太郎 そうなんですね。オリンピックは k 「平和」 の祭典だって聞いたことがあるのに。残念ですね。
- 先生 そのとおり。l オリンピックマーク を見たことあるだろう。あのマークには意味があるんだ。それと、今回のオリンピックは m 東日本大震災 の復興をサポートすることも唱えられているね。一度、オリンピックのことについて調べてごらん。
- 太郎 わかりました。今度の休みに図書館へ行って、調べてみることにします。

問 1 下線部 a に関連して、設問に答えなさい。

- (1) 東京には、江戸幕府がおかれていました。次の文は、江戸時代におこなわれていた政治改革について述べたものです。この政治改革をおこなった人物として正しいものを、下の①～④のうちから一つ選びなさい。 **26**

商工業者が株仲間をつくることを奨励し、特権を与えるかわりに、営業税をとりました。また、銅の専売制の実施や俵物の輸出拡大に努力しました。

- ① 徳川吉宗
② 田沼意次
③ 松平定信
④ 水野忠邦

- (2) 東京は日本の政治の中心で、国会議事堂がおかれています。国会について述べた文として誤っているものを、次の①～④のうちから一つ選びなさい。 **27**

- ① 唯一の立法機関である
② 弾劾裁判所を設けることができる
③ 法律案の議決は、衆議院に先議権がある
④ 毎年1回、1月中に招集される国会は通常国会(常会)である

問 2 下線部 b に関連して、パラリンピックは障がいのあるトップアスリートの人々が参加する大会です。現在、日本では「人にやさしい社会の実現」をめざしてさまざまな取り組みがおこなわれています。その取り組みの内容について述べた X・Y の文の正誤の組み合わせとして正しいものを、下の①～④のうちから一つ選びなさい。 **28**

- X すべての人が社会の中で普通の生活を送るノーマライゼーションの実現をめざしている
Y 生活をしていく上で、身体的・精神的・社会的障壁を取り除くユニバーサルデザインの導入を進めている

	X	Y
①	正	正
②	正	誤
③	誤	正
④	誤	誤

問 3 下線部cに関連して，設問に答えなさい。

- (1) このころの日本は，高度経済成長期でした。高度経済成長期のできごとについて述べた文として誤っているものを，次の①～④のうちから一つ選びなさい。

29

- ① オリンピック直前に東海道新幹線が開通した
- ② 四大公害病などをきっかけに，公害対策基本法が制定された
- ③ 「三種の神器」とよばれた冷蔵庫・洗濯機・自家用車が急速に普及した
- ④ 池田勇人内閣が「所得倍増」をスローガンに掲げ，経済成長促進策を押し進めた

- (2) 表 1 は，日本の 1960 年の輸出・輸入，2017 年の輸出・輸入の割合 (%) のいずれかを示しています。1960 年の輸出の割合を示したものを，表 1 中の①～④のうちから一つ選びなさい。

30

表 1

品目	%
繊維類	30.2
機械類	12.2
鉄鋼	9.6
船舶	7.1
魚介類	4.3
金属製品	3.6
その他	33.0

①

品目	%
機械類	25.6
石油	11.5
液化ガス	6.0
衣類	4.1
医薬品	3.5
石炭	3.4
その他	45.9

②

品目	%
繊維原料	17.6
石油	13.4
機械類	7.0
鉄くず	5.1
鉄鉱石	4.8
小麦	3.9
その他	48.2

③

品目	%
機械類	37.5
自動車	15.1
自動車部品	5.0
鉄鋼	4.2
精密機械	3.2
プラスチック	3.2
その他	31.8

④

(出典 日本国勢図会 2018/2019 より)

- (3) 1964 年は昭和 39 年です。日本では元号を用いて、歴史上のできごとや文化をあらわすこともあります。「承久」と「天平」の元号が使われていたのは、それぞれどの時代ですか。組み合わせとして正しいものを、次の①～⑥のうちから一つ選びなさい。 **31**

	承久	天平
①	奈良時代	平安時代
②	奈良時代	鎌倉時代
③	平安時代	奈良時代
④	平安時代	鎌倉時代
⑤	鎌倉時代	奈良時代
⑥	鎌倉時代	平安時代

問 4 下線部 d に関連して、設問に答えなさい。

- (1) 古代ギリシャでは独自の文明が発達していました。古代ギリシャの建造物として正しいものを、次の①～④のうちから一つ選びなさい。 **32**



①



②



③



④

(2) ギリシャは地中海沿岸に位置する国の一つで、「地中海式農業」が盛んです。地中海式農業について述べた文として正しいものを、次の①～④のうちから一つ選びなさい。 **33**

- ① 夏の冷涼な気候を利用した小麦の栽培が盛んである
- ② 夏の乾燥した気候を利用した果実類の栽培が盛んである
- ③ 冬の寒冷な気候を利用した乳牛の飼育が盛んである
- ④ 冬の湿潤な気候を利用した米の栽培が盛んである

(3) 古代ギリシャでは直接民主制による政治がおこなわれていました。現在の日本の地方自治でも直接民主制の要素を採り入れ、直接請求権が認められています。次の手続きが必要な請求事項として正しいものを、下の①～④のうちから一つ選びなさい。 **34**

必要署名数	請求先
有権者の 50 分の 1 以上	地方公共団体の首長

- ① 監査請求
- ② 議会の解散請求
- ③ 条例の制定・改廃請求
- ④ 首長・議員の解職請求

問 5 下線部 e に関連して，設問に答えなさい。

(1) スウェーデンの位置を，図 1 中の①～④のうちから一つ選びなさい。

35

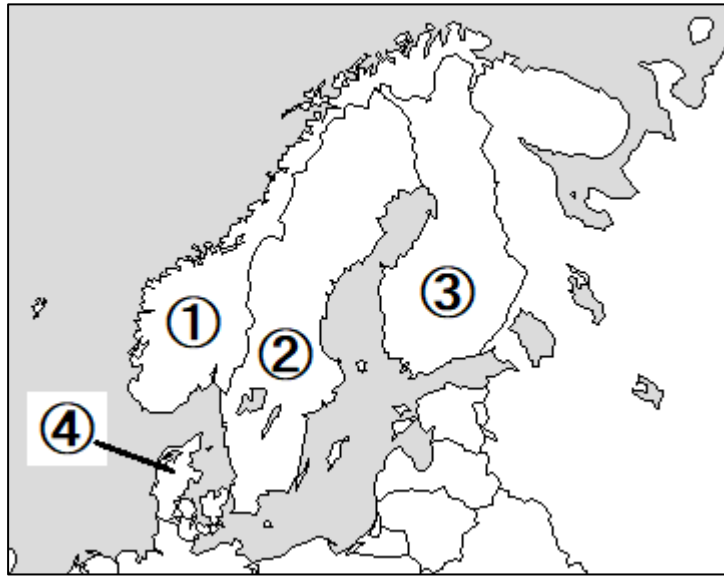


図 1

(2) スウェーデンは社会保障制度が充実した国として有名です。日本でも社会保障制度が整備されています。日本の社会保障制度の内容として誤っているものを，次の①～④のうちから一つ選びなさい。

36

- ① 高齢者や障がいのある人などを支援し，生活を保障する
- ② 家族が亡くなった時に，生命保険によって生活を助ける
- ③ 国民が健康で安全な生活を送るために，予防接種などをおこなう
- ④ 生活に困っている人々に対して，生活費や教育費などを支給する

問 6 下線部fに関連して，設問に答えなさい。

(1) 図 2 の雨温図①～④は札幌，^{かなざわ}金沢，京都，東京のいずれかのものです。札幌の雨温図として正しいものを，図 2 中の①～④のうちから一つ選びなさい。

37

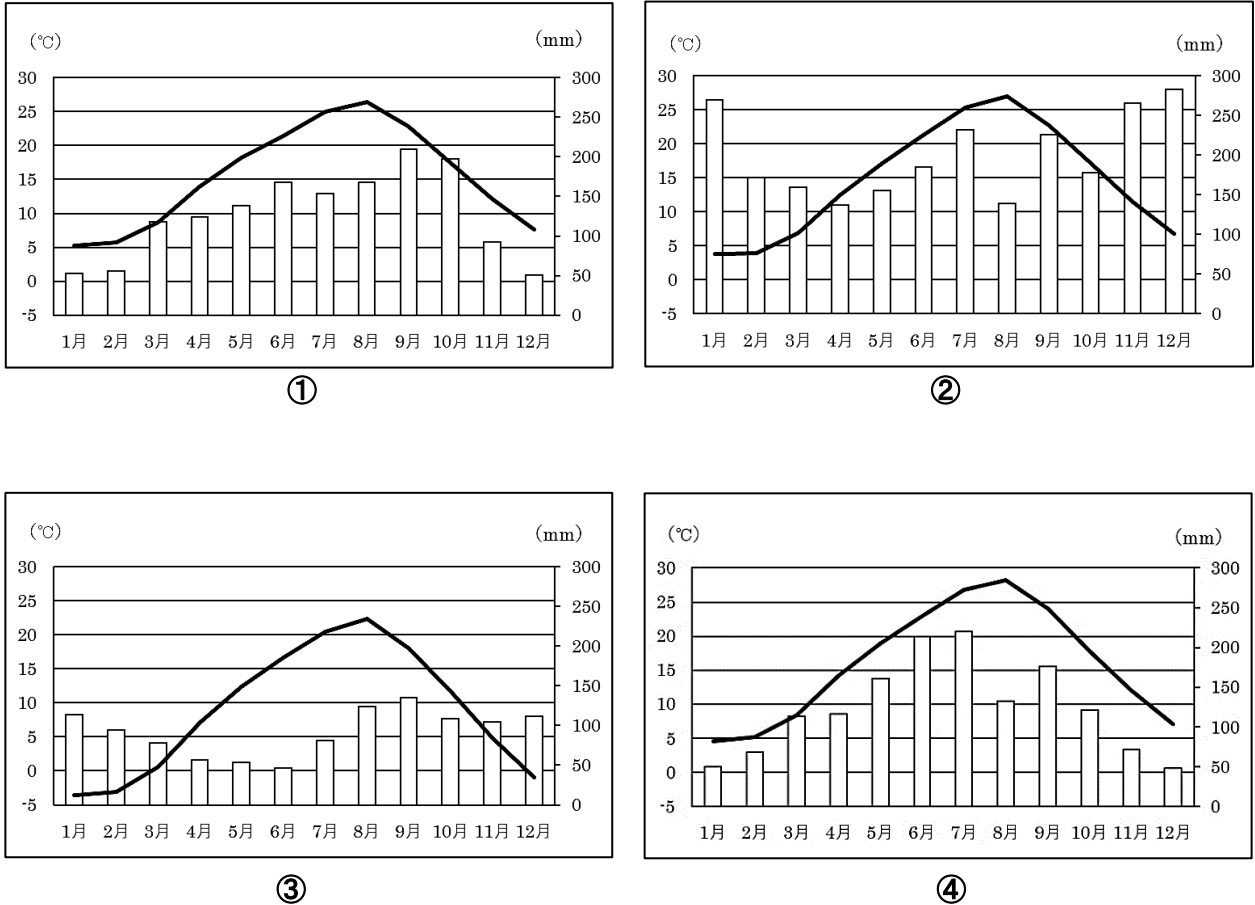


図 2

(2) 札幌は北海道の道庁所在地です。北海道の歴史の説明として正しいものを，次の①～④のうちから一つ選びなさい。

38

- ① 縄文時代，大陸や本州と陸続きであった
- ② 室町時代，アイヌのシャクシャインが反乱を起こした
- ③ 江戸時代，松前藩を置いて，アイヌの人々との交易をおこなった
- ④ 明治時代，防人の制度をつくり，蝦夷の討伐を行わせた

問 7 下線部 g に関連して，設問に答えなさい。

- (1) 次の図3は2010年と2018年に日本を訪れた外国人の国（地域）別割合（%）を示したものです。図3中のX・Yにあてはまる国の組み合わせとして正しいものを，下の①～⑥のうちから一つ選びなさい。 **39**

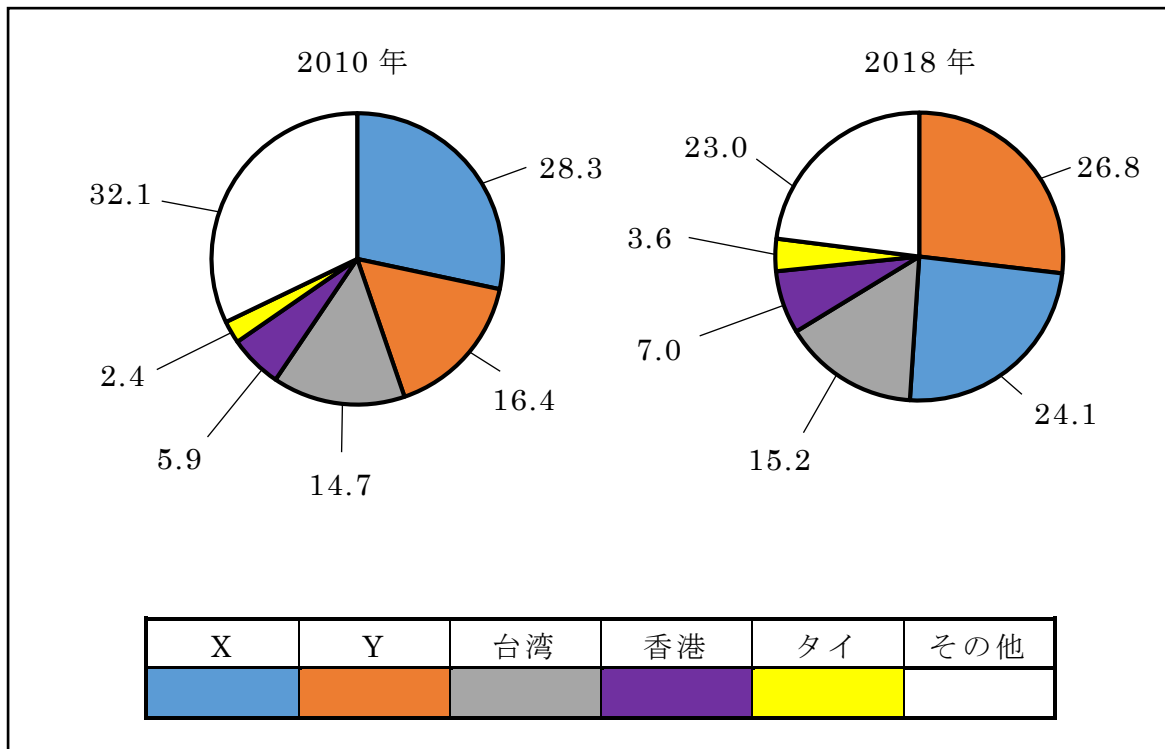


図 3

(出典 日本政府観光局(JNTO)より)

	X	Y
①	韓国	中国
②	韓国	インド
③	中国	韓国
④	中国	インド
⑤	インド	韓国
⑥	インド	中国

- (2) 日本を訪れた外国人の説明として正しいものを，次の①～④のうちから一つ選びなさい。 **40**

- ① ザビエルは，キリスト教とともに鉄砲を日本に伝えた
- ② ペリーは，日本と日米修好通商条約を結んだ
- ③ ラクスマンは，江戸幕府に対して通商を求めた
- ④ シーボルトは，『ターヘル・アナトミア』を著して医術を広めた

問 8 下線部 h に関連して、表 2 は、新聞の求人欄きゅうじんらんにあった求人広告です。この求人広告の下線部 a～d を見て、労働基準法の主な内容が守られていないと考えられるものを、下の①～④のうちから一つ選びなさい。 41

表 2

施設警備(正社員)募集
資格：運転免許をお持ちの方
給与： <u>a 18万5000円</u>
時間： <u>b 8:00～19:00 の間で1日8時間以内 ※週40時間</u> (最低1時間の休憩)
休日： <u>c 1週当たり1日の休日</u> 夏季・年末年始、有給、慶弔ほか
待遇：昇給年1回・賞与年2回、各社会保険完備 交通費全額支給
条件： <u>d 労働組合への加入は認めていません。</u>
応募：履歴書・運転免許証コピーを郵送してください。 株式会社△△

- ① a
- ② b
- ③ c
- ④ d

問 9 下線部 i に関連して，設問に答えなさい。

(1) この 3 年後にドイツではワイマール憲法が制定され，世界で初めて社会権が規定されました。日本国憲法にも社会権が保障されていますが，その内容として誤っているものを，次の①～④のうちから一つ選びなさい。 **42**

- ① 裁判所に裁判をおこなうように求める権利を保障している
- ② 健康で文化的な最低限度の生活を営む権利を保障している
- ③ 労働者の権利として団結権・団体交渉^{こうしやう}権・団体行動権を保障している
- ④ 誰もが学校に行き教育を受けられるよう，教育を受ける権利を保障している

(2) この 2 年前に第一次世界大戦が勃発しました。図 4 は第一次世界大戦前の世界情勢を図式化したものです。図 4 中の X～Z に入る語句の組み合わせとして正しいものを，下の①～④のうちから一つ選びなさい。 **43**

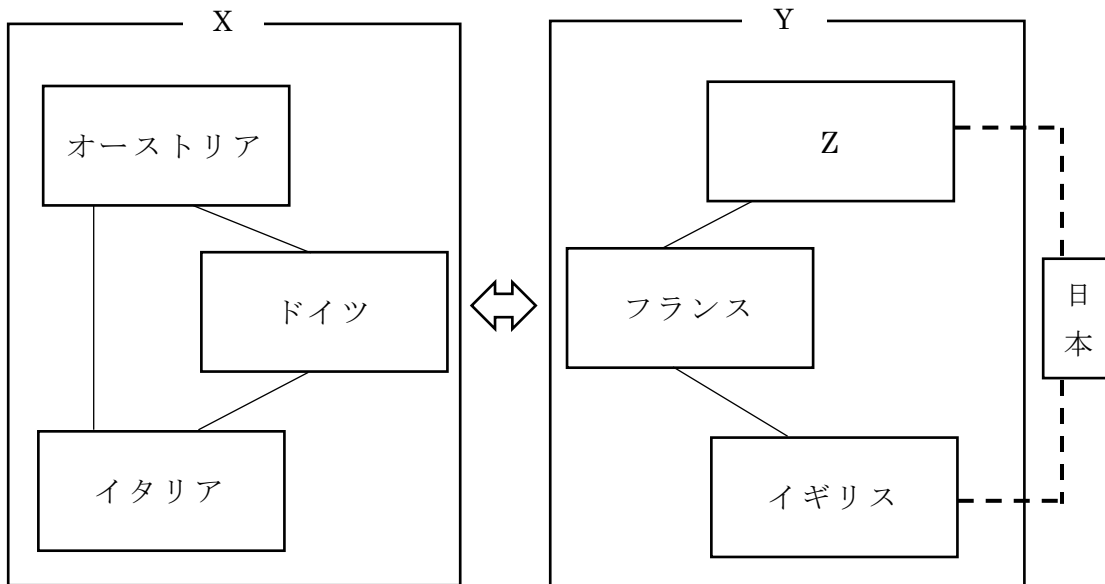


図 4

	X	Y	Z
①	三国同盟	三国協商	アメリカ合衆国
②	三国同盟	三国協商	ロシア
③	三国協商	三国同盟	アメリカ合衆国
④	三国協商	三国同盟	ロシア

(3) 現在、ドイツは「EU」(ヨーロッパ連合)の主要国として、重要な役割を果たしています。「EU」について述べた文として誤っているものを、次の①～④のうちから一つ選びなさい。 **44**

- ① 多くの加盟国が共通通貨のユーロを導入している
- ② 多くの加盟国ではパスポートなしで国境を自由に往来できる
- ③ 新しい加盟国の工業発展が著しく、加盟国間の経済格差もなくなった
- ④ 加盟国以外からの輸入農産物に対抗するため、共通農業政策をとっている

問 10 下線部 k について、設問に答えなさい。

(1) 日本は平和主義を憲法の基本原理の一つとして掲げています。現在の日本の平和主義と安全保障に関連して述べた文として誤っているものを、次の①～④のうちから一つ選びなさい。 **45**

- ① 主権国家には自衛権があり、自衛のための必要最小限の実力をもつことは禁止していない
- ② 日本と密接な関係にある国が攻撃を受けたときに、その国の防衛活動に参加する集団的自衛権は認めていない
- ③ 防衛のために、アメリカ合衆国と日米安全保障条約を結んでおり、アメリカ軍が日本の領域内に駐留することを認めている
- ④ 国際貢献の一環として、国連の平和維持活動に自衛隊の海外派遣をおこなっている

(2) 日本国憲法のもとで、日本は直接的な戦争をしたことはありません。しかし、長い歴史のなかでは、外国と戦争をしたことがあります。これについて述べた文として誤っているものを、次の①～④のうちから一つ選びなさい。 **46**

- ① 白村江の戦いでは、日本が百済の復興を助けるために朝鮮半島に大軍を送ったが、唐と新羅の連合軍に敗れた
- ② 文禄の役では、元と高麗の連合軍が攻め入ってきたが、暴風雨にあって大損害を受け、引きあげた
- ③ 日清戦争は、朝鮮の政府が清に出兵を求めたことに対抗して、日本が朝鮮に出兵したため、日本と清の軍隊が衝突し戦争に発展した
- ④ 日中戦争は、北京郊外の盧溝橋付近で起こった日中両国軍の武力衝突をきっかけに始まった

問 11 下線部 1 に関連して、オリンピックマークの五つの輪は、ヨーロッパ・南北アメリカ・アジア・アフリカ・オセアニアを表しているといわれています。その中で、アフリカでは一度もオリンピックが開催されたことはありません。アフリカに関連する設問に答えなさい。

(1) アフリカの説明として誤っているものを、次の①～④のうちから一つ選びなさい。 **47**

- ① 19 世紀半ばころまでに、多くの人々が奴隷として南北アメリカに連れて行かれた
- ② 20 世紀前半にかけて、ほとんどの国がアメリカ合衆国の植民地となっていた
- ③ 20 世紀後半に多くの国々が独立したが、国内で民族の争いが続く国がある
- ④ 現在、アフリカの国や地域が加盟する国際機構としてアフリカ連合がある

(2) 次の X～Z の文は、図 5 中のア～ウの地域の食生活について述べたものです。
正しい組み合わせを、下の①～⑥のうちから一つ選びなさい。 **48**

- X いも類やバナナを使った料理が主食となっている
- Y ひえやもろこし，とうもろこしを使った料理が主食となっている
- Z 小麦を使った料理が主食となっている

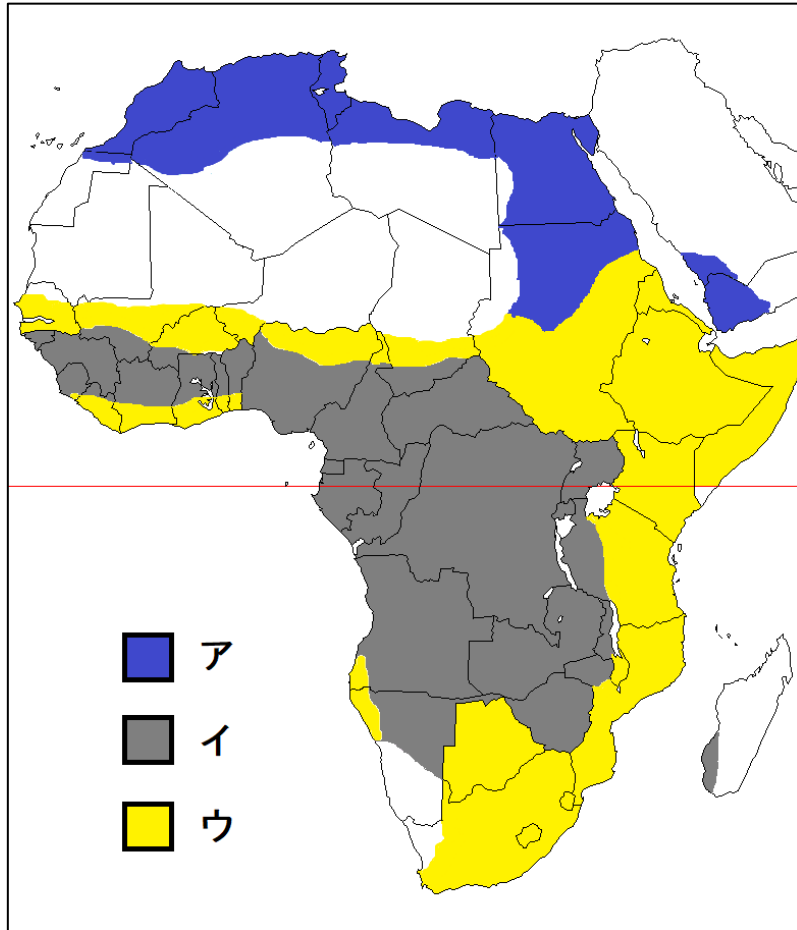


図 5

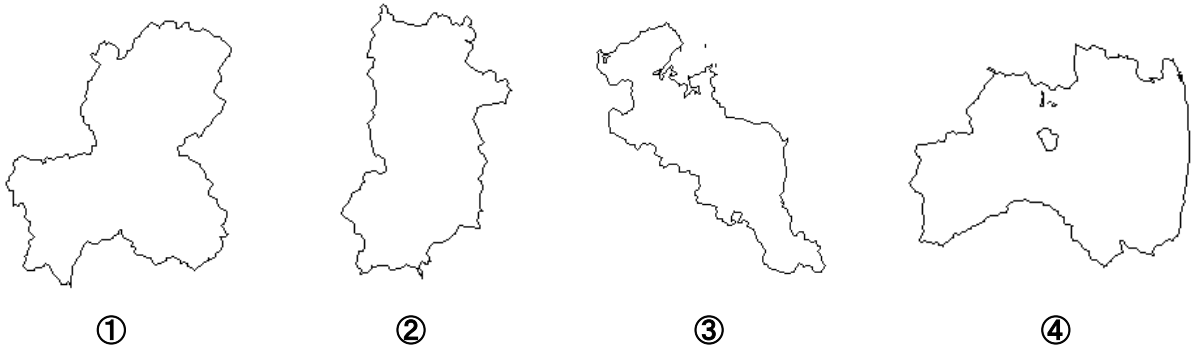
(出典 帝国書院『社会科 中学生の地理』より)

	ア	イ	ウ
①	X	Y	Z
②	X	Z	Y
③	Y	X	Z
④	Y	Z	X
⑤	Z	X	Y
⑥	Z	Y	X

問 12 下線部 m について、東日本大震災は多くの傷あとを残しました。東日本大震災に関連する設問に答えなさい。

- (1) 東日本大震災では、津波が原子力発電所を襲い、大きな事故となりました。未だに多くの人々が避難生活を送っておられます。この事故が起こった都道府県を、次の①～④のうちから一つ選びなさい。ただし、縮尺は同じではありません。

49



- (2) 原子力発電所の事故によって避難生活を余儀なくされた人々は、損害賠償を求めて各地で裁判を起こしています。次の資料は、ある地域で起こった裁判を報じた記事の一部です。これを読んで、記事の空欄 X～Z にあてはまる語句の組み合わせとして正しいものを、下の①～⑥のうちから一つ選びなさい。

50

T 電力原発事故で群馬県内に避難した住民ら 45 世帯 137 人が、国と T 電力に総額約 15 億円の損害賠償を求めた X 訴訟の判決が 17 日、前橋 Y 裁判所であった。裁判長は、国と T 電力はともに津波を予見できたと指摘。事故は防げたのに対策を怠ったと認め、62 人に計 3855 万円を支払うように命じた。国と T 電力は判決を不服として、即日、東京高等裁判所に Z した。
「朝日新聞」より抜粋

	X	Y	Z
①	刑事	家庭	控訴
②	刑事	家庭	上告
③	刑事	地方	控訴
④	民事	地方	上告
⑤	民事	家庭	上告
⑥	民事	地方	控訴

これで問題は終わりです。