

# 社 会

( 解答番号  ~  )

**第 1 問** えりこさんは世界遺産について調べました。図1中のA～Hは、えりこさんが興味を持った世界遺産がある国をあらわしたものです。これを見てあとの設問に答えなさい。

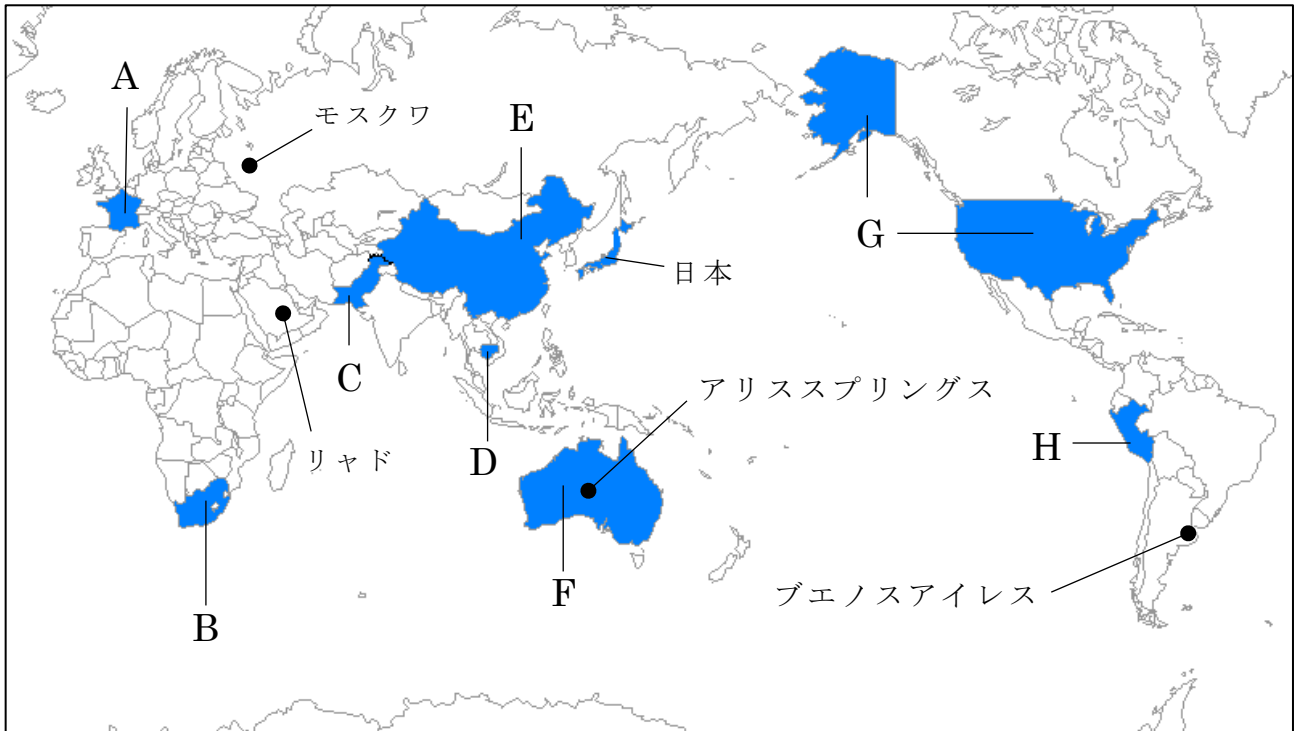


図 1

問 1 世界遺産の登録に関連する問いに答えなさい。

(1) 世界遺産の登録は、国際連合の専門機関の一つであるユネスコで行われます。図 1 より国際連合の本部が置かれている都市のある国として正しいものを、次の①～④のうちから一つ選びなさい。  1

- ① A の国                      ② C の国                      ③ E の国                      ④ G の国

(2) 2018年6月、日本からも新たに世界遺産が登録されました。登録された世界遺産が位置する都道府県の形として正しいものを、次の①～④のうちから一つ選びなさい。ただし、縮尺は同じではありません。  2



①



②



③



④

問 2 A の国および A の国の属する地域に関連する問いに答えなさい。

- (1) A の国では、かつて人権宣言が発表されました。資料①～④は人権宣言、アメリカ独立宣言、権利章典、ワイマール憲法のいずれかです。人権宣言として正しいものを、次の①～④のうちから一つ選びなさい。 **3**

①

議会の同意なしに、国王の権限によって法律とその効力を停止することは違法である。

②

経済生活の秩序は、すべての人に人間に値する生活を保障することを目指す、正義の諸原則にかなうものでなければならない。

③

我々は以下のことを自明の真理であると信じる。人間はみな平等につくられ、ゆずりわたすことのできない権利を神によってあたえられていること、その中には、生命、自由、幸福の追求がふくまれていることである。

④

人は生まれながらに、自由で平等な権利を持つ。社会的な区別は、ただ公共の利益に関係のある場合にしか設けられてはならない。

- (2) A の国では、ヴェルサイユ宮殿が世界遺産に登録されています。ヴェルサイユ宮殿を建設した人物として正しいものを、次の①～④のうちから一つ選びなさい。 **4**

- ① アレクサンドロス大王
- ② クロムウェル
- ③ ピョートル 1 世
- ④ ルイ 14 世

(3) Aの国はEUに加盟しています。EUに加盟していない国を、図2の①～④のうちから一つ選びなさい。 **5**

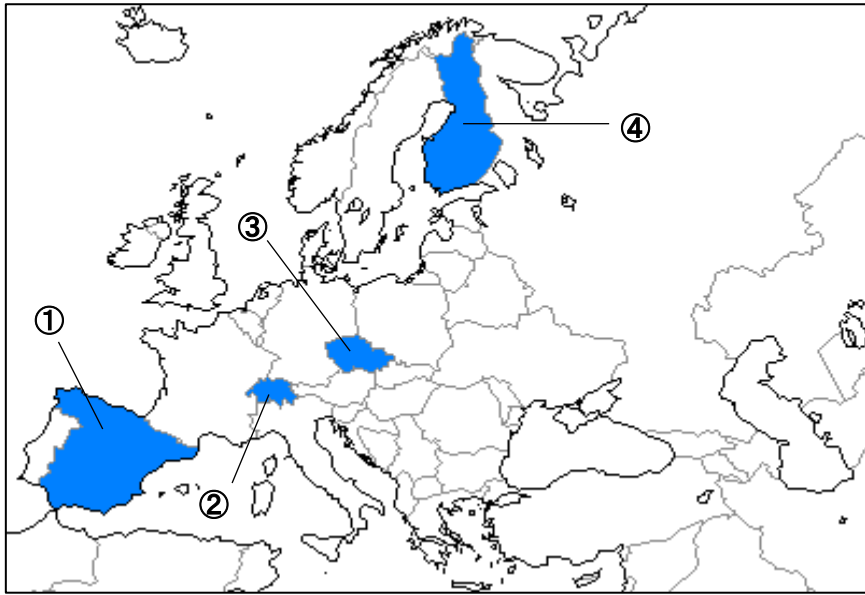


図 2

問 3 Bの国およびBの国の属する地域に関連する問いに答えなさい。

(1) Bの国の説明として誤っているものを、次の①～④のうちから一つ選びなさい。 **6**

- ① イギリスの植民地となっていた時代があった
- ② アラブの春と呼ばれる大規模な民主化運動が起こった
- ③ 黒人初の大統領としてネルソン・マンデラ氏が選ばれた
- ④ アパルトヘイトと呼ばれる人種隔離政策かくりがとられていた

(2) Bの国では、人類化石遺跡群いせきぐんが世界遺産に登録されています。これに関連して、人類の進化の順序として正しいものを、次の①～⑥のうちから一つ選びなさい。 **7**

- ① 原人 → 猿人えんじん → 新人
- ② 原人 → 新人 → 猿人
- ③ 猿人 → 原人 → 新人
- ④ 猿人 → 新人 → 原人
- ⑤ 新人 → 原人 → 猿人
- ⑥ 新人 → 猿人 → 原人

- (3) Bの国はアフリカ州に属しています。図3はかつてアフリカを含めた3つの地域間でおこなわれていた大西洋の三角貿易のようすをあらわしたものです。ア～ウの品目の組み合わせとして正しいものを、下の①～⑥のうちから一つ選びなさい。 **8**

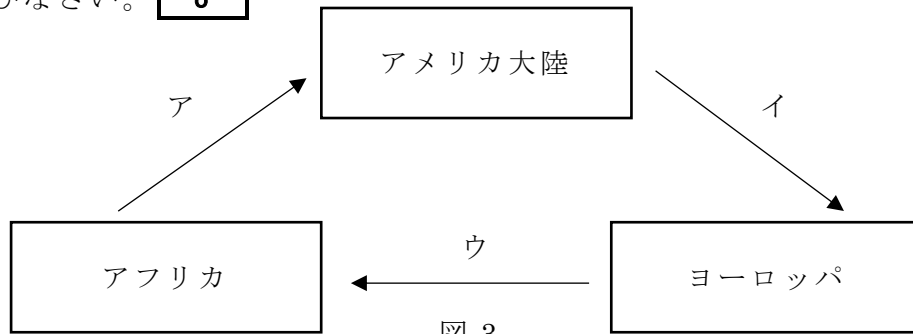


図 3

	ア	イ	ウ
①	武器・雑貨	奴隷	銀・砂糖
②	武器・雑貨	銀・砂糖	奴隷
③	奴隷	武器・雑貨	銀・砂糖
④	奴隷	銀・砂糖	武器・雑貨
⑤	銀・砂糖	武器・雑貨	奴隷
⑥	銀・砂糖	奴隷	武器・雑貨

問 4 Cの国に関連する問いに答えなさい。

- (1) Cの国では、イスラム教がおもに信仰されています。世界のおもな宗教人口は図4のようになり、①～④はそれぞれイスラム教、キリスト教、ヒンドゥー教、仏教のいずれかです。イスラム教をあらわしたものを、図4の①～④のうちから一つ選びなさい。 **9**

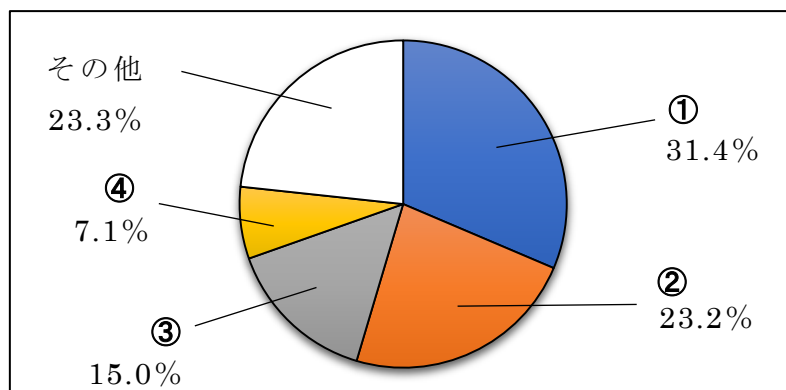


図 4

(世界国勢図会 2018/2019年版より)

(2) Cの国では、モヘンジョ・ダロが世界遺産に登録されています。この世界遺産を代表とする文明の説明として正しいものを、次の①～④のうちから一つ選びなさい。 **10**

- ① 整備された道路，水路などを持つ都市が発展した
- ② チグリス川とユーフラテス川流域で起こった
- ③ 月の満ち欠けに基づく太陽暦が考え出された
- ④ 甲骨文字が発明されて，粘土板に刻まれた

問 5 Dの国に関連する問いに答えなさい。

(1) Dの国では，国際連合により平和維持活動がおこなわれていました。これに関連するX・Yの文の正誤の組み合わせとして正しいものを，下の①～④のうちから一つ選びなさい。 **11**

X 日本の自衛隊もDの国の平和維持活動に派遣されていた

Y 国際連合の平和維持活動は，アルファベットではODAと表記される

	X	Y
①	正	正
②	正	誤
③	誤	正
④	誤	誤

(2) Dの国では，アンコール=ワットが世界遺産に登録されています。アンコール=ワットがつくられた12世紀に，日本では鎌倉時代が始まりました。鎌倉時代の説明として正しいものを，次の①～④のうちから一つ選びなさい。 **12**

- ① 北条時政によって，幕府が開かれた
- ② 文禄の役・慶長の役とよばれる戦いが起こった
- ③ 親鸞が，浄土真宗を農村に広めた
- ④ 平治の乱の後，京都に六波羅探題が置かれた

問 6 E の国に関連する問いに答えなさい。

(1) E の国の説明として誤っているものを、次の①～④のうちから一つ選びなさい。 **13**

- ① 多民族国家であり、漢民族が最も多い人口割合を占めている
- ② 世界で最も人口が多く、現在も一人っ子政策がとられている
- ③ 沿海部には、外国企業を誘致し税金を優遇する経済特区がある
- ④ 工業製品が世界中に輸出されていることから、世界の工場とよばれている

(2) E の国では、万里の長城が世界遺産に登録されています。現在のこっている万里の長城は、明の時代に修築されたものがほとんどです。明とその時代の日本との間では、貿易が盛んでした。この貿易の説明として誤っているものを、次の①～④のうちから一つ選びなさい。 **14**

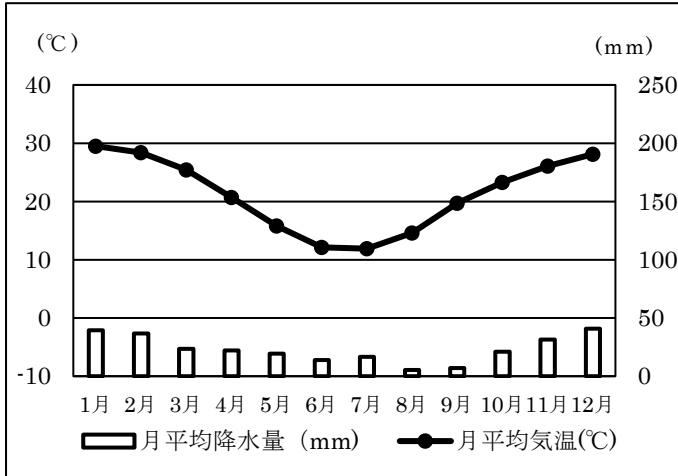
- ① 足利義満によって始められた
- ② 日本が朝貢する形式で行われた
- ③ 正式な貿易船は、朱印状を持っていた
- ④ 日本から明へ、刀や漆器が輸出された

問 7 F の国に関連する問いに答えなさい。

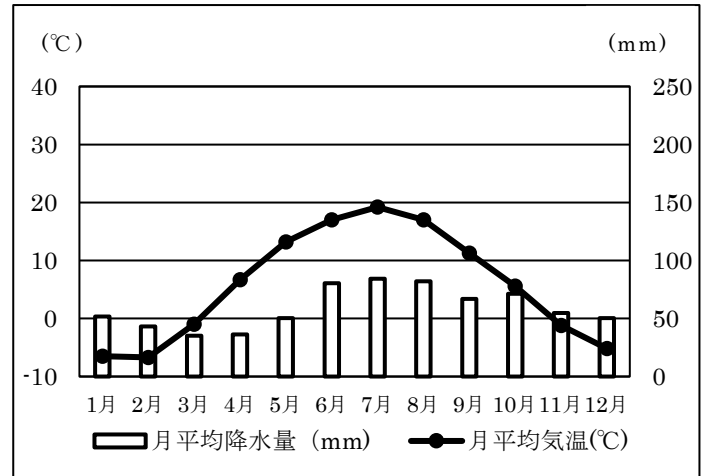
(1) F の国の説明として誤っているものを、次の①～④のうちから一つ選びなさい。 **15**

- ① ヨーロッパやアジア各地から移民が増え、多文化社会が形成されている
- ② グレートディバイディング山脈の近くでは、石炭が多く採掘されている
- ③ 現在輸出品として最も高い割合を占めているのは羊毛である
- ④ アジア太平洋経済協力会議（APEC）に参加している

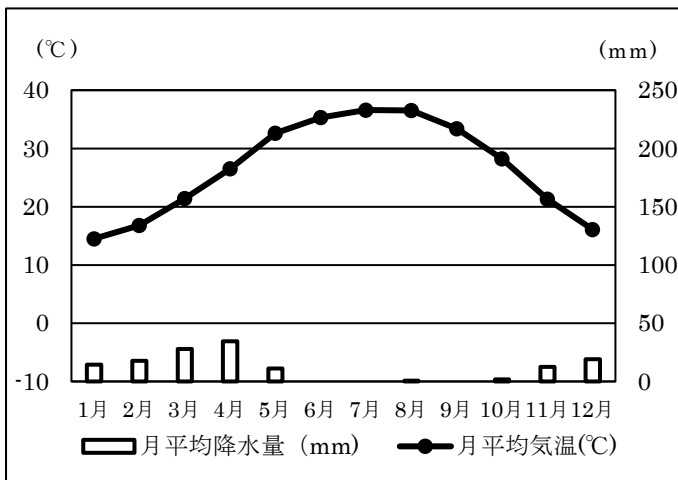
(2) Fの国では、エアーズロックが世界遺産に登録されています。エアーズロックの近くにはアリススプリングスがあります。雨温図①～④は図1のアリススプリングス、ブエノスアイレス、モスクワ、リヤドのいずれかです。アリススプリングスをあらわす雨温図として正しいものを、次の①～④のうちから一つ選びなさい。 16



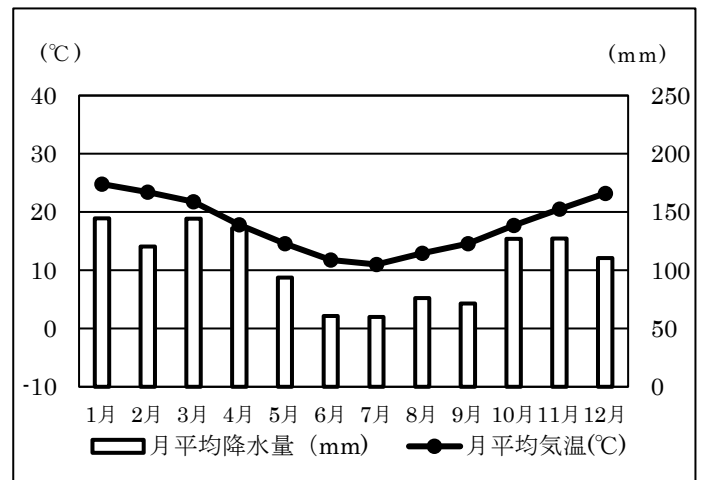
①



②



③



④

(気象庁 ホームページをもとに作成)



問 8 日本に関連する問いに答えなさい。

(1) 日本が2月9日の午前9時の時、図1においてまだ2月8日の国は、どこですか。正しいものを、次の①～④のうちから一つ選びなさい。 17

- ① Bの国                      ② Dの国                      ③ Fの国                      ④ Hの国

(2) 図5と表1・表2は、日本への訪日外客数をあらわしたものです。図5と表1・表2より読み取れることとして誤っているものを、下の①～④のうちから一つ選びなさい。 18

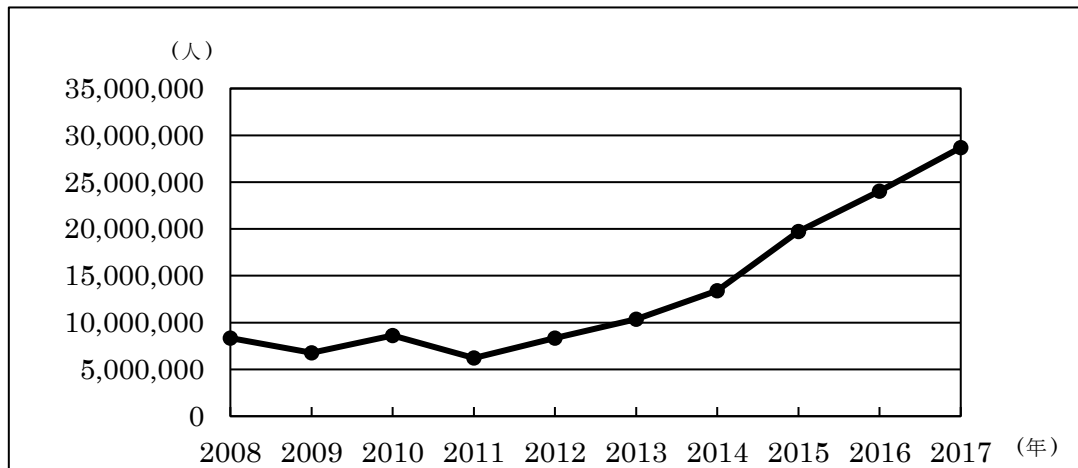


図5 訪日外客数の推移

(日本政府観光局より)

表1

2008年の地域毎の日本への訪日外客数

地域	人数 (人)
アジア	6,153,827
ヨーロッパ	886,723
アフリカ	24,498
北アメリカ	967,125
南アメリカ	38,567
オセアニア	278,988

表2

2017年の地域毎の日本への訪日外客数

地域	人数 (人)
アジア	24,716,396
ヨーロッパ	1,525,662
アフリカ	34,803
北アメリカ	1,756,732
南アメリカ	92,106
オセアニア	564,527

(日本政府観光局より)

- ① 2008年から2012年までの訪日外客数は、1千万人を下回っている  
 ② 2008年と比べ、2017年の訪日外客数はいずれの地域も増加している  
 ③ 2008年から2017年の訪日外客数が最も増加しているのはアジアである  
 ④ 2017年の訪日外客数は、2008年の5倍以上になっている

- (3) 日本では、二条城が世界遺産に登録されています。二条城には写真 1 の被爆アオギリの 2 世が植樹されています。次の文章は、その被爆アオギリについての説明です。この文章にある平和に関する理念は、日本国憲法にも掲げられています。日本国憲法に掲げられている内容として誤っているものを、下の①～④のうちから一つ選びなさい。 **19**

写真 1



#### 被爆アオギリ

このアオギリは広島平和記念公園内に生息する被爆アオギリの子孫です。爆心地より 1.3km にあった被爆アオギリは、原爆の熱線と熱風で大火傷を負いながらも生きながらえました。その子孫は各地に植樹され、現在も命や平和の大切さを後世に伝え続けています。

(二条城の説明看板より一部抜粋)

- ① 憲法前文には、平和的生存権が規定されている
  - ② 憲法前文には、非核三原則が規定されている
  - ③ 憲法第 9 条には、戦争の放棄が明記されている
  - ④ 憲法第 9 条には、戦力の不保持が明記されている
- (4) 二条城では、徳川慶喜より家臣に政権返上の意思が伝えられました。翌年元号を明治と改めて、新政府はさまざまな政策をおこないました。政策の内容の説明として誤っているものを、次の①～④のうちから一つ選びなさい。 **20**

- ① 版籍奉還を行い、藩主に土地と人民を政府に返させた
- ② 学制の公布により、国民は誰でも小学校で教育を受けられるようになった
- ③ 徴兵令が出され、満 20 歳以上になった男子は兵役の義務を負った
- ④ 地租改正を行い、米の収穫高に応じて税を徴収した

問 9 Gの国に関連する問いに答えなさい。

(1) Gの国では、自由の女神像が世界遺産に登録されています。自由の女神像はGの国の独立100周年を祝って、図1のAの国からおくられたものです。これに関連し、Gの国とAの国との関係の説明として正しいものを、次の①～④のうちから一つ選びなさい。 **21**

- ① Gの国は、東部13州がAの国の植民地から独立して建国された
- ② Gの国は、第一次世界大戦でAの国が属する連合国側として途中参戦した
- ③ Gの国・Aの国・イギリスの三カ国で、ポツダム宣言を発表した
- ④ Gの国とAの国の間でマルタ会談が行われ、冷戦が終結した

(2) 表3は小麦・大豆・とうもろこしの2014年の生産量の上位5カ国をあらわしたものです。X・Y・Zの作物の組み合わせとして正しいものを、下の①～⑥のうちから一つ選びなさい。 **22**

表 3

Xの生産量	
順位	国名
1	Gの国
2	Eの国
3	ブラジル
4	アルゼンチン
5	ウクライナ

Yの生産量	
順位	国名
1	Gの国
2	ブラジル
3	アルゼンチン
4	Eの国
5	インド

Zの生産量	
順位	国名
1	Eの国
2	インド
3	ロシア
4	Gの国
5	カナダ

(データブック オブ・ザ・ワールド 2018年より)

	X	Y	Z
①	小麦	大豆	とうもろこし
②	小麦	とうもろこし	大豆
③	大豆	小麦	とうもろこし
④	大豆	とうもろこし	小麦
⑤	とうもろこし	小麦	大豆
⑥	とうもろこし	大豆	小麦

- (3) Gの国と日本の貿易では、円やドルが多く用いられます。次の文中のX・Yにあてはまる語句の組み合わせとして正しいものを、下の①～④のうちから一つ選びなさい。 **23**

外国為替相場が1ドル=100円だとします。この状態から1ドル=80円となった場合、**X**となり、日本の**Y**産業にとっては、有利となります。

	X	Y
①	円安	輸入
②	円安	輸出
③	円高	輸入
④	円高	輸出

問 10 Hの国に関連する問いに答えなさい。

- (1) Hの国の説明として正しいものを、次の①～④のうちから一つ選びなさい。

24

- ① パンパとよばれる大草原が広がっている
- ② 国名はスペイン語で「赤道」を意味している
- ③ ラプラタ川が流れている
- ④ アンデス山脈がのびている

- (2) Hの国では、マチュピチュ遺跡が世界遺産に登録されています。マチュピチュ遺跡があったインカ帝国は、大航海時代に滅ぼされました。インカ帝国が滅ぼされた時期として正しいものを、次の年表の①～④のうちから一つ選びなさい。

25

で き ご と
① 壇ノ浦の戦いが起こる
② 鹿苑寺金閣が建立される
③ 島原・天草一揆が起こる
④

第 2 問 表 1 はえりこさんが 2019 年 1 月に訪れた場所や、できごとをスケジュール帳にまとめたものです。これを見てあとの設問に答えなさい。

表 1

2019年 1月						
日	月	火	水	木	金	土
		1	2 しんせき 親戚の家へ 行く	3	4 中国料理を 食べに行く	5
6	7 友達から みやげ お土産を もらう	8	9	10 銀行へ行く	11	12
13	14	15 市役所へ 行く	16	17	18	19 けいたい 携帯電話を こうにゅう 購入して もらう
20	21	22	23	24 おがしや 和菓子屋へ 行く	25 おばあさん の家へ行く	26
27 かんこく 韓国映画の ビデオを借 りに行く	28	29	30	31 社会見学に 行く		

問 1 1月2日（水）に行った親戚の家は東北地方にあります。東北地方に関連する問いに答えなさい。

- (1) えりこさんは東北地方にはやませという風が吹くことを親戚から教えてもらいました。図1のア・イはやませの吹く方向を，X・Yはやませが吹くことによって起こると考えられる内容をあらわしたものです。組み合わせとして正しいものを，下の①～④のうちから一つ選びなさい。 **26**

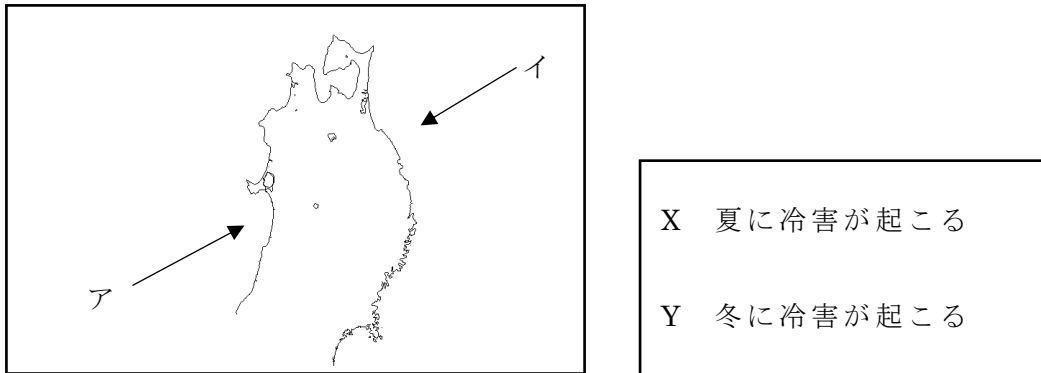


図1

- ① アとX      ② アとY      ③ イとX      ④ イとY

- (2) 2011年に東北地方を中心に東日本大震災だいしんさいが起き，その後，日本の発電方法が変化してきたことをえりこさんは知りました。図2は東日本大震災前後の日本の発電方法をあらわしたものです。発電方法の組み合わせとして正しいものを，下の①～⑥のうちから一つ選びなさい。 **27**

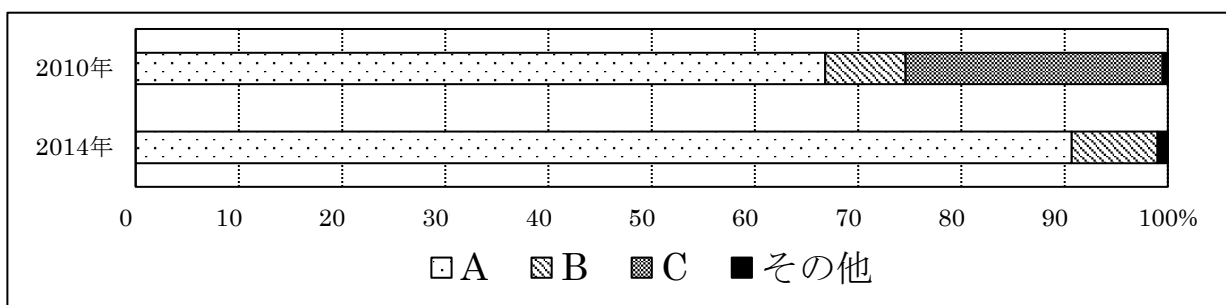


図2

(データブック オブ・ザ・ワールド2018年より)

	A	B	C
①	水力発電	火力発電	原子力発電
②	水力発電	原子力発電	火力発電
③	火力発電	水力発電	原子力発電
④	火力発電	原子力発電	水力発電
⑤	原子力発電	水力発電	火力発電
⑥	原子力発電	火力発電	水力発電

- (3) 東北地方では、平安時代初期に坂上田村麻呂さかのうえのたむらまろによって蝦夷えみしの討伐とうばつがおこなわれました。平安時代に起こったできごととして誤っているものを、次の①～④のうちから一つ選びなさい。 **28**

- ① 聖武天皇しょうむが東大寺に大仏をつくらせた
- ② 白河天皇しらかわが位を譲り上皇じょうこうとなって院政をおこなった
- ③ 藤原氏ふじわらが摂政せつしょうや関白かんぱくとなって政治の実権を握った
- ④ 平清盛たいらのきよもりが武士として初めて太政大臣だいじょうだいじんになった

問 2 1月4日（金）の予定に関連する問いに答えなさい。

- (1) えりこさんは中国料理には、地域によって料理の種類にちがいがあることを知りました。これらは中国の農牧業ぼくと大きく関係しています。図3のア～エの地域の説明として正しいものを、下の①～④のうちから一つ選びなさい。 **29**

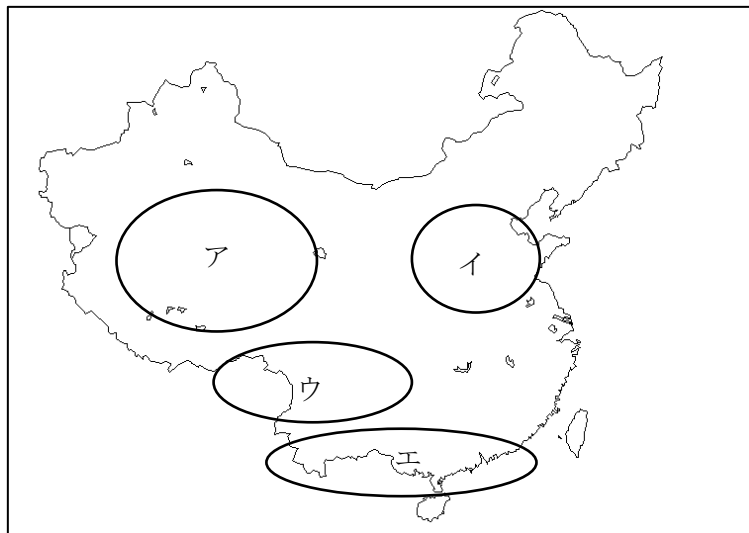


図3

- ① アの地域は気温が低いため、おもに香辛料こうしんりょうが作られている
- ② イの地域は気温が高いため、牧畜ちくがおこなわれている
- ③ ウの地域は乾燥かんそうしているため、おもにとうもろこしが作られている
- ④ エの地域は降水量が多いため、米が多く作られている

(2) 中国料理店での食事中に、テレビ放送で、中国で五・四運動が起こってから2019年で100年だということを知りました。五・四運動のあとに起こったできごととして正しいものを、次の①～④のうちから一つ選びなさい。 **30**

- ① 辛亥革命しんがいはいが起こり、孫文が臨時大総統となった
- ② 盧溝橋事件ろこうきょうをきっかけに、日中戦争が始まった
- ③ 扶清滅洋ふしんめつようを掲げた義和団ぎわだんによる蜂起ほうきが起こった
- ④ 日清戦争の講和条約として、下関条約が結ばれた

**問 3** 1月7日（月）に、えりこさんは友達から旅行のお土産をもらい、冬休み中に訪れた場所の話を書きました。これに関連する問いに答えなさい。

(1) えりこさんの友達のゆうき君は沖縄おきなわに行き、沖縄のことを教えてくださいました。沖縄に関連する説明として誤っているものを、次の①～④のうちから一つ選びなさい。 **31**

- ① かつて宗氏によって琉球王国が建てられた
- ② 太平洋戦争後半に、地上戦がおこなわれた
- ③ 米軍基地が日本で最も多く置かれている
- ④ 産業の中心は、観光業などの第3次産業である

(2) えりこさんの友達のきくこさんは北海道に行き、アイヌ民族の資料館おとずを訪れたそうです。アイヌ民族に関連する説明 X・Y の文の正誤の組み合わせとして正しいものを、下の①～④のうちから一つ選びなさい。 **32**

X 江戸時代に反乱を起こしたアイヌの首長はコシャマインである

Y アイヌの民族性や文化を尊重する北海道旧土人保護法どじんが制定されている

	X	Y
①	正	正
②	正	誤
③	誤	正
④	誤	誤



- (3) えりこさんは、きくこさんから北方領土の島々のことを教えてもらいました。図4のX・Yは北方領土の島々をあらわしたものです。島名の組み合わせとして正しいものを、下の①～⑥のうちから一つ選びなさい。 **33**

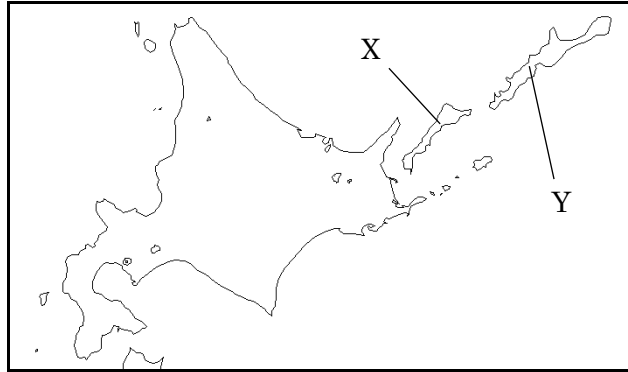


図4

	X	Y
①	国後島 <small>くなしりとう</small>	色丹島 <small>しこたんとう</small>
②	国後島	択捉島 <small>えとろふとう</small>
③	色丹島	国後島
④	色丹島	択捉島
⑤	択捉島	国後島
⑥	択捉島	色丹島

**問 4** 1月10日（木）の予定に関連する問いに答えなさい。

- (1) えりこさんは銀行に行き、お年玉を貯金しました。その時、紙幣しへいには日本銀行券と書かれていることに気づき、日本銀行について調べました。日本銀行のはたらきとして正しいものを、次の①～④のうちから一つ選びなさい。 **34**

- ① 好景気の際に、増税し、公共事業を減らす
- ② 不景気の際に、市中銀行しちゆうぎんから国債こくさいを買い取る
- ③ 日本の中央銀行であり、個人の預金を受け入れる
- ④ 紙幣だけでなく、硬貨こうかも発行している

(2) えりこさんは日本の貨幣の歴史についても興味を持ちました。日本の貨幣の歴史に関連する説明として正しいものを、次の①～④のうちから一つ選びなさい。 **35**

- ① 日本最古の貨幣とされているのは寛永通宝である
- ② 室町時代には、宋や明から輸入された貨幣が使用されていた
- ③ 江戸時代には、東日本では銀でつくられた貨幣が主に使用されていた
- ④ 明治時代に、管理通貨制度が導入された

問 5 1月15日（火）の予定に関連する問いに答えなさい。

(1) えりこさんが市役所を訪れた時に、国政選挙の期日前投票所が設けられていました。日本の選挙の歴史に関連する説明として正しいものを、次の①～④のうちから一つ選びなさい。 **36**

- ① 女性に選挙権が認められたのは第一次世界大戦中である
- ② 今まで選挙権年齢が引き下げられたことはない
- ③ 第二次世界大戦以降、与党は変わらず同じ政党が担っている
- ④ 現在は複数の政党が政権を担う連立政権となっている

(2) えりこさんは国政選挙後に、住んでいる選挙区の比例代表選挙の政党ごとの獲得票数の結果を知りました。表 2 はその結果をあらわしたものです。この結果によって A 党～D 党に配分された議席数として正しいものを、下の①～④のうちから一つ選びなさい。なお、この選挙区の定数は 5 として考えなさい。

**37**

表 2

政党名	獲得票数
A 党	17,400 票
B 党	54,000 票
C 党	30,000 票
D 党	12,480 票

	A 党	B 党	C 党	D 党
①	1	2	1	1
②	1	2	2	0
③	1	3	1	0
④	0	3	2	0

(3) えりこさんは国政選挙後に、国会のしくみについて調べました。国会の説明として正しいものを、次の①～④のうちから一つ選びなさい。 **38**

- ① 衆議院と参議院の両院に解散がある
- ② 衆議院は参議院よりも被選挙権年齢が高い
- ③ 衆議院の優越として、予算の先議権がある
- ④ 両院の本会議の議決が異なる場合は、公聴会が開かれる

(4) 図5は市役所の壁に貼ってあった、平成28年度の地方公共団体の歳入決算額の構成をあらわしたものです。これを見て、地方公共団体の財政の説明として正しいものを、下の①～④のうちから一つ選びなさい。 **39**

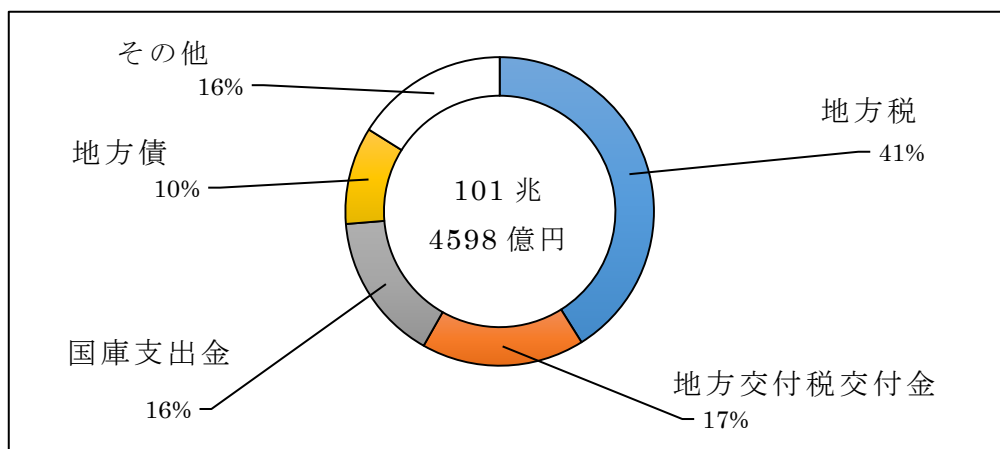


図5

(総務省ホームページ 平成30年度版地方財政白書ビジュアル版より)

- ① 地方税は、人口が少ない自治体ほど多く集めることができる
- ② 地方交付税交付金は、特定の活動をおこなうための費用として国から支給される
- ③ 国庫支出金は、各地方公共団体間の収入の格差を調整するために国から支給される
- ④ 地方債は、地方公共団体の判断で発行するもので、依存財源に分類される

問 6 1月19日（土）の予定に関連する問いに答えなさい。

- (1) えりこさんは、携帯電話に最先端<sup>せんたん</sup>の技術が導入されていることを知りました。アメリカにはシリコンバレーと呼ばれる先端技術産業<sup>かか</sup>に関わる大学や研究機関が集中している地域があります。シリコンバレーの位置として正しいものを、図6の①～④のうちから一つ選びなさい。 40

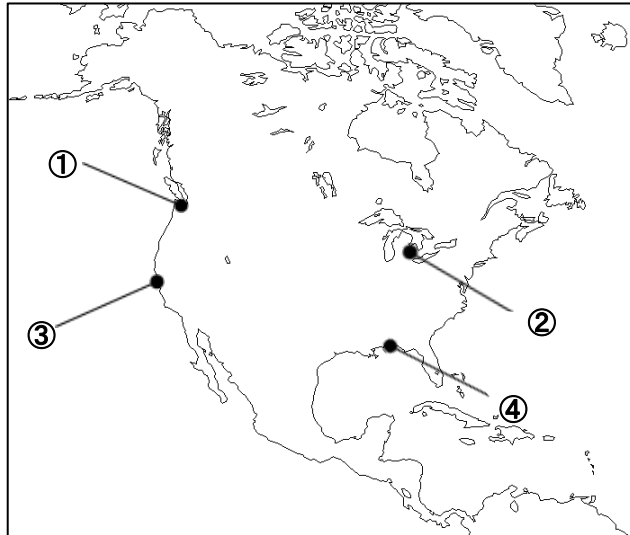


図6

- (2) えりこさんは、A社の携帯電話を購入しました。図7は日本の携帯電話の契約数の事業社別のシェアをあらわしたものです。日本の携帯電話の市場は、少数の企業によってシェアが占められている寡占市場です。寡占市場に関連する説明X・Yの文の正誤の組み合わせとして正しいものを、下の①～④のうちから一つ選びなさい。 **41**

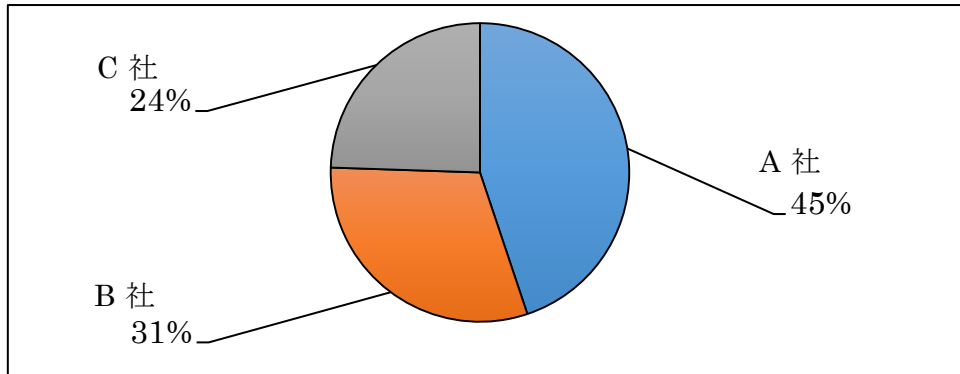


図7

(総務省 携帯電話の契約数における事業社別シェアの推移 2017年12月より)

- X 価格競争が弱まるため、消費者は安い使用料金を払うことになり、得をすることを考えられる
- Y シェアが一番少ないC社が、A・B社の使用料金を決定することができると思える

	X	Y
①	正	正
②	正	誤
③	誤	正
④	誤	誤

問7 1月24日(木)の予定に関連する問いに答えなさい。

- (1) えりこさんが訪れた和菓子屋は、江戸時代の寛政元年に創業した歴史をもつ店でした。寛政の改革の説明として正しいものを、次の①～④のうちから一つ選びなさい。 **42**

- ① 8代将軍の徳川吉宗が進めた政治改革である
- ② 上げ米の制や目安箱の設置をおしすすめた
- ③ 営業を独占している株仲間を解散させた
- ④ 昌平坂学問所をつくり、朱子学以外の学問を教えることを禁じた

(2) えりこさんは和菓子屋に貼ってある伝統工芸品を作る職人のポスターを見て、日本には様々な伝統工芸品があることを知りました。ア～ウは有田焼<sup>ありたやき</sup>、西陣織<sup>にしじんおり</sup>、南部鉄器のいずれかの産地の都道府県の形です。伝統工芸品の産地と名称の組み合わせとして正しいものを、下の①～⑥のうちから一つ選びなさい。ただし、縮尺は同じではありません。

43



ア



イ



ウ

	ア	イ	ウ
①	有田焼	西陣織	南部鉄器
②	有田焼	南部鉄器	西陣織
③	西陣織	有田焼	南部鉄器
④	西陣織	南部鉄器	有田焼
⑤	南部鉄器	有田焼	西陣織
⑥	南部鉄器	西陣織	有田焼

問 8 1月25日（金）の予定に関連する問いに答えなさい。

- (1) えりこさんはおばあさんの家に行く際に、簡単な地図を書きました。図 8 はその地図です。図 8 に描かれていない地図記号を、下の①～④のうちから一つ選びなさい。 **44**

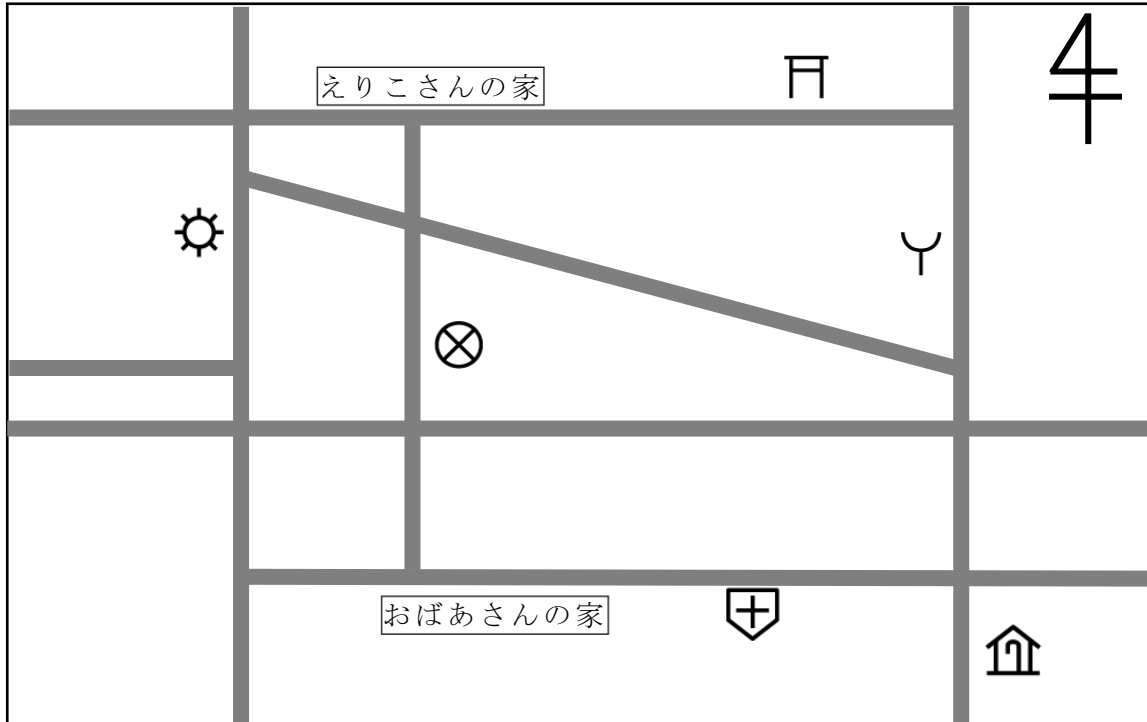


図 8

- ① 警察署 ② 発電所 ③ 消防署 ④ 神社

- (2) えりこさんは、自分の住んでいる地域を詳しく調べるために、地形図を購入しました。地形図の説明として誤っているものを、次の①～④のうちから一つ選びなさい。 **45**

- ① 国土地理院が 2 万 5 千分の 1 や 5 万分の 1 の地形図を発行している  
 ② 地形図は、特別な表記がない限り、北を上にして作られている  
 ③ 地形図に描かれている等高線の間隔から、傾斜を読み取ることができる  
 ④ 2 万 5 千分の 1 の地形図より、5 万分の 1 の地形図の方が詳しい情報を読み取ることができる

- (3) えりこさんの家からえりこさんのおばあさんの家までは、直線距離で 300m あります。えりこさんの購入した地形図の縮尺が 2 万 5 千分の 1 だった場合、地形図上の長さとして正しいものを、次の①～④のうちから一つ選びなさい。

**46**

- ① 1cm ② 1.2cm ③ 1.5cm ④ 1.7cm

問 9 1月27日（日）の予定に関連する問いに答えなさい。

(1) えりこさんは韓国の映画のビデオを観たあとに、朝鮮半島の歴史に興味がありました。朝鮮半島の歴史に関連する説明として誤っているものを、次の①～④のうちから一つ選びなさい。 **47**

- ① 日本が韓国を併合し、朝鮮総督府を設置した
- ② 朝鮮戦争では、アメリカ中心の国連軍が韓国を支援した
- ③ 北緯38度線は、韓国と北朝鮮の軍事境界線である
- ④ 日本は韓国、北朝鮮の両国と国交を結んでいる

(2) 朝鮮半島の歴史を調べてみると、5世紀の朝鮮半島の地図が教科書に載っていました。図9のア～ウの国名の組み合わせとして正しいものを、下の①～⑥のうちから一つ選びなさい。 **48**

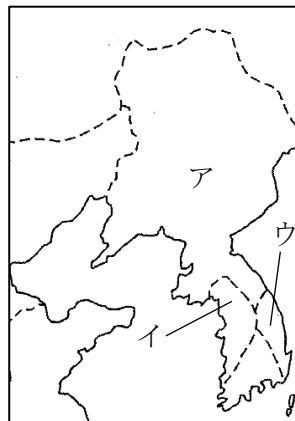


図9

	ア	イ	ウ
①	新羅	百濟	高句麗
②	新羅	高句麗	百濟
③	百濟	新羅	高句麗
④	百濟	高句麗	新羅
⑤	高句麗	新羅	百濟
⑥	高句麗	百濟	新羅



問10 1月31日（木）の社会見学で、えりこさんは裁判所へ行きました。これに関連する問いに答えなさい。

(1) えりこさんが行った裁判所では、裁判員制度による裁判が行われていることを知りました。この裁判所はどの種類の裁判所であると判断できますか。正しいものを、次の①～④のうちから一つ選びなさい。 **49**

- ① 地方裁判所      ② 高等裁判所      ③ 家庭裁判所      ④ 簡易裁判所

(2) えりこさんは社会見学が終わってから、裁判所と日本のその他の機関の関わりを再確認しました。図10はその関係をあらわしたものです。説明として誤っているものを、下の①～④のうちから一つ選びなさい。 **50**



図10

- ① アには「最高裁判所長官の指名」があてはまる  
② イには「違憲立法審査権」があてはまる  
③ ウには「内閣不信任の決議」があてはまる  
④ エには「裁判所の裁判官を裁く<sup>だんがい</sup>弾劾裁判」があてはまる

これで問題は終わりです。