

# 社 会

( 解答番号 1 ~ 50 )

**第 1 問** じろうさんは「多様性」のありかたについて考えました。次の文章を読んで設問に答えなさい。

日本は、古代から大陸や朝鮮半島との結びつきを強めてきました。中世になると、さらに遠くの地域とも交易をはじめました。「a 多様性」が広がっていく中で、文化面でもさまざまな影響を受け、b 日本独自の文化と融合し発展させてきました。

近世になると江戸時代に鎖国がはじまり、「c 四つの窓口」を通じて、異なった地域や国とも交流をもっていました。

開国ののち明治時代に入ると、急速な近代化を図りました。そして、今日に至るまでの間、さまざまな場面において、「多様性」を進展させました。こうして、現代社会では多くの違いが存在するようになり、異なった意見を尊重することや、自分の意見を持つことが大切になりました。これは、d 共生社会を実現するためにも不可欠だといえます。

ところが、歴史を振り返ってみると、「多様性」が軽視された時代がありました。例えば、e 二度にわたる世界大戦やファシズム体制などです。このような時代には、「多様性」が尊重されることはありませんでした。

さて、第二次世界大戦後、日本は f 高度経済成長期を経験しました。g 1970年には大阪万国博覧会が開催され、世界にむけて日本の復興と経済成長を示すことができました。一方で、h 民主的な社会を築くために、「多様性」を尊重しようと不断の努力を続けてきました。

以上のことから、私たちには、「多様性」を認め、偏見や差別のない社会を実現するという課題が課されているといえます。日本以外にも、i ラテンアメリカのように、多様性を広げてきた地域がありますが、理想とする社会の実現に至っていないというのが現状です。

私たちは、k 日本国憲法で保障されている権利を再確認し、一人ひとりの「いのちが輝く社会」の実現をめざさなければならないのです。

問 1 下線部aに関連する問いに答えなさい。

(1) 過去には人種の「多様性」を認めず、公然と差別をしていたところがあります。次のX・Yはその政策名、図1中のア～ウは過去にその政策がとられていた場所のいずれかを示しています。政策名と場所の組み合わせとして正しいものを、下の①～⑥のうちから一つ選びなさい。 1

X アパルトヘイト  
Y はくごうしゅぎ 白豪主義

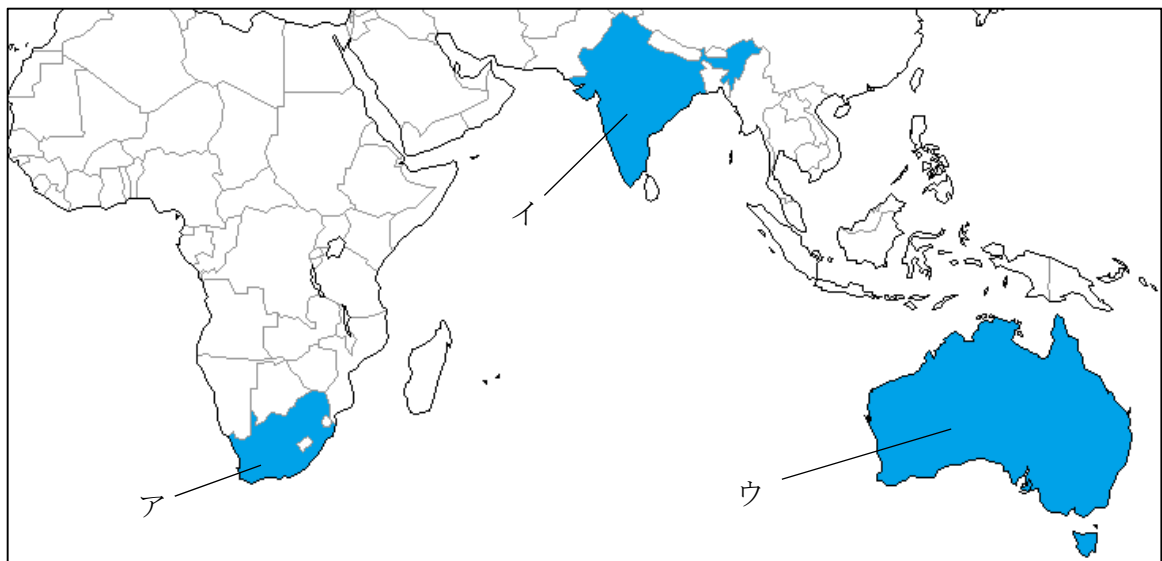




図1

	X	Y
①	ア	イ
②	ア	ウ
③	イ	ア
④	イ	ウ
⑤	ウ	ア
⑥	ウ	イ

- (2) じろうさんは、ある飲食店のホームページにハラルフードメニューが掲載されているのを見つけました。今日では図2のように、「多様性」を尊重し、ハラルフードを扱う飲食店が増えています。このようなメニューを準備している理由として正しいものを、下の①～④のうちから一つ選びなさい。 2

 **HEIAN restaurant menu** 

Aコース（コース料理）	3,500円
Bコース（コース料理・デザート）	4,000円
Cコース（コース料理・ドリンク）	4,000円

（表示は税込価格です）

※ ご来店の際には、消毒液による手指消毒、マスクの着用をお願いします。

アルコール、豚肉は一切使用していません。  
  
国産の食材のみを使用しています。

予約はこちらから ☎ TEL: ××-9999-9999

図2

- ① 使用している食材の産地を正確に把握できるようにするため
- ② 宗教上の戒律によって食べることが許されている料理を示すため
- ③ 店内の衛生状態が清潔に維持できていることを示すため
- ④ 最も人気のある料理を載せて店の利益率をあげるため

問2 下線部bに関連して、日本では平安時代に国風文化が栄えました。国風文化の作品として誤っているものを、次の①～④のうちから一つ選びなさい。 3

- ① 『枕草子』
- ② 『古今和歌集』
- ③ 『源氏物語』
- ④ 『徒然草』

問3 下線部 c に関連する問いに答えなさい。

(1) 図3は「四つの窓口」を図式化したものです。図3中のX～Zにあてはまる国や地域の組み合わせとして正しいものを、下の①～⑥のうちから一つ選びなさい。

4

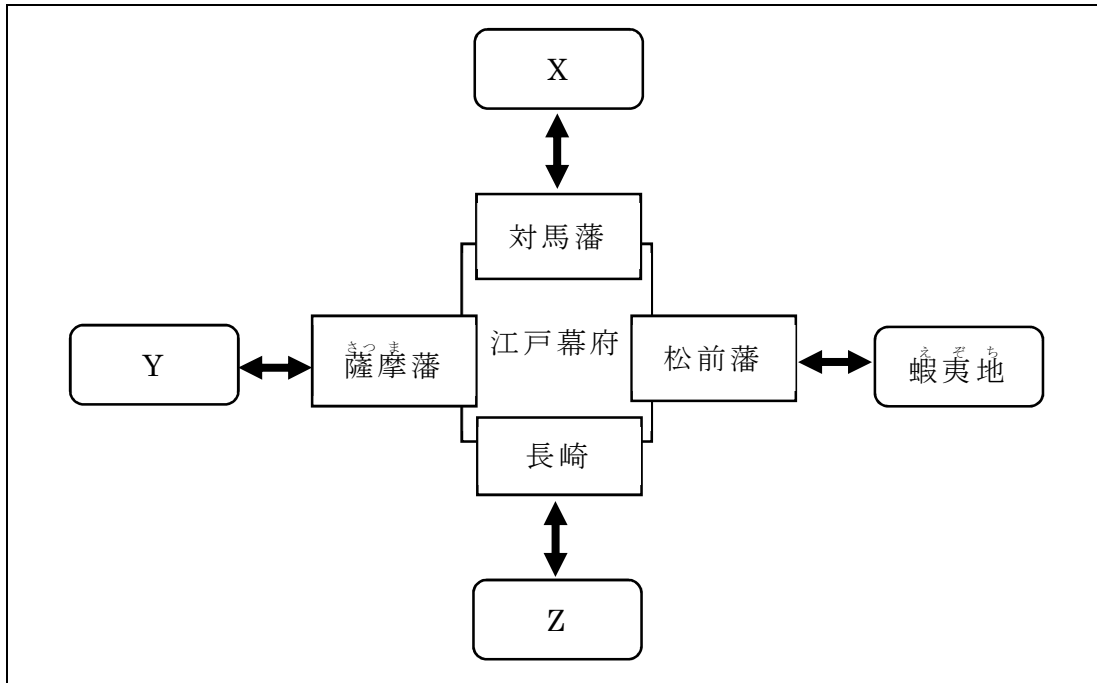


図3

- ア 中国・オランダ
- イ 朝鮮
- ウ りゅうきゅう琉球王国

	X	Y	Z
①	ア	イ	ウ
②	ア	ウ	イ
③	イ	ア	ウ
④	イ	ウ	ア
⑤	ウ	ア	イ
⑥	ウ	イ	ア

- (2) 次の文章はアイヌの人々と松前藩の交易について説明したものです。文章中の **X**・**Y** の語句の組み合わせとして正しいものを、下の①～④のうちから一つ選びなさい。 **5**

アイヌの人々の住む蝦夷地は江戸時代に **X** を扱う一大拠点でした。蝦夷地から北前船で瀬戸内海や大阪をまわる **Y** 航路を利用し、その後、琉球王国、中国まで運ばれていきました。これらの商品がもたらされたルートは **X** ロードとよばれ、 **X** だしなど新しい食文化が作られていきました。

	X	Y
①	こんぶ	西廻り <small>まわ</small>
②	こんぶ	東廻り
③	かつお	西廻り
④	かつお	東廻り

- 問 4 下線部 d に関連して、日本では共生社会の実現のためにさまざまな施策しきくをおこなっています。これに関連する X・Y の説明文と、それをあらわす語句ア～ウの組み合わせとして正しいものを、下の①～⑥のうちから一つ選びなさい。 **6**

X すべての人が使いやすいように、製品や施設しせつをつくる

Y 身体が不自由な人が生活するうえで、障壁しょうへきとなるものを取り除く

ア インフォームド・コンセント

イ バリアフリー

ウ ユニバーサルデザイン

	X	Y
①	ア	イ
②	ア	ウ
③	イ	ア
④	イ	ウ
⑤	ウ	ア
⑥	ウ	イ

問 5 下線部 e に関連する問いに答えなさい。

- (1) 第一次世界大戦後には国際連盟，第二次世界大戦後に国際連合という国際平和機構がそれぞれ設立されました。次のア～ウはいずれかの説明です。説明文と国際平和機構の組み合わせとして正しいものを，下の①～⑥のうちから一つ選びなさい。 7

- ア 安全保障理事会では常任理事国が拒否権きよひけんを持っている  
 イ 経済制裁のみが制裁措置そさちとして認められている  
 ウ 総会の決議は全会一致いっちが採用されている

	国際連盟	国際連合
①	ア	イ・ウ
②	ア・イ	ウ
③	ア・ウ	イ
④	イ	ア・ウ
⑤	イ・ウ	ア
⑥	ウ	ア・イ

- (2) 次の文章はファシズム体制をとったある国の動きを説明したものです。図 4 を参考に，文章中の X・Y の国の組み合わせとして正しいものを，下の①～④のうちから一つ選びなさい。なお，地図は現在の国境線を示しています。

8

X による Y への侵攻しんこうをきっかけに，第二次世界大戦が始まりました。結果，Y の人たちの自由や権利は制限されました。

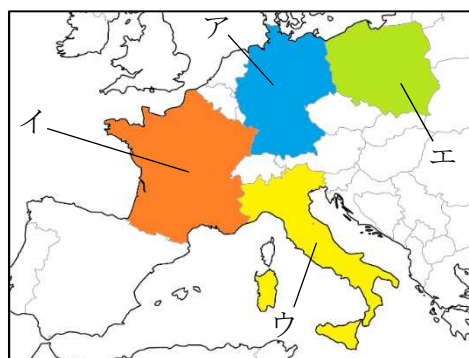


図 4

	X	Y
①	ア	イ
②	ア	エ
③	ウ	イ
④	ウ	エ

問 6 下線部 f に関連する問いに答えなさい。

- (1) 図5は景気循環をあらわしたものです。高度経済成長期には、図5中のXの時期を幾度となく経験しました。Xの時期のようすの説明として正しいものを、下の①～④のうちから一つ選びなさい。 9

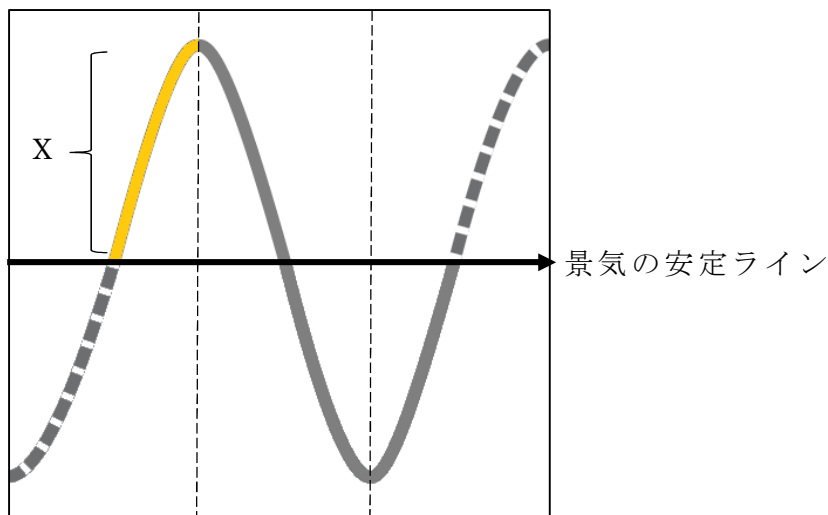


図5

- ① 日本銀行が金融機関に国債などを売る
  - ② 市中銀行が紙幣の発行を減らす
  - ③ 労働者の賃金が低くなる
  - ④ 企業の倒産が増加する
- (2) 高度経済成長期には、公害問題が相次いでおこりました。四大公害の発生した県は、図6の範囲でいくつありますか。下の①～④のうちから一つ選びなさい。

10

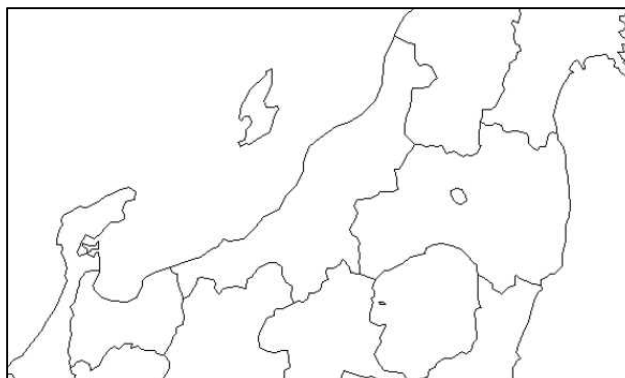


図6

- ① 1
- ② 2
- ③ 3
- ④ 4

(3) じろうさんは経済発展だけを重視するのではなく、持続可能な社会の実現が必要であると考えました。持続可能な社会の実現のための取り組みとして誤っているものを、次の①～④のうちから一つ選びなさい。 11

- ① 家畜の糞尿を発酵させてつくるバイオガスを利用する
- ② 地方公共団体と住民の取り組みにより、生活排水を湖に流すのをやめる
- ③ 二酸化炭素排出量が少ないメタンハイドレートの研究を進める
- ④ コンビニエンスストアで商品の購入時にレジ袋を毎回もらう

問 7 下線部gに関連して、この年、旧国鉄で「新快速」が登場し、2020年には運行開始50年を迎えました。「新快速」は、日本海側の敦賀から播州赤穂への直通となり、通勤やレジャーにおける行動範囲の拡大につながりました。鉄道好きのじろうさんは「新快速」に乗り、停車駅周辺について調べることにしました。図7は、「新快速」の停車駅を参考に作成したものです。これを見て問いに答えなさい。

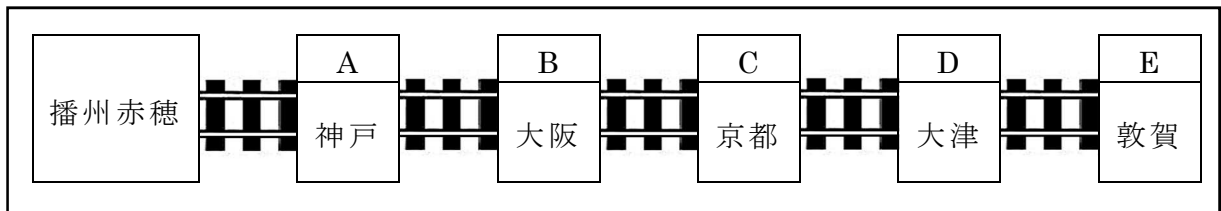


図7

(1) Aに関連して、平清盛が神戸港の前身となる港を作りました。平清盛に関する説明として誤っているものを、次の①～④のうちから一つ選びなさい。

12

- ① 大輪田泊で宋と貿易をおこなった
- ② 武家の棟梁として摂関政治をおこなった
- ③ 娘を天皇のきさきにして権力を強めた
- ④ 武士として初めて太政大臣となった



- (2) Bに関連して、大阪では2020年11月1日に住民投票がおこなわれました。住民は住民投票以外にも、地方公共団体に対して直接請求権せいききゆうを持っています。表1のX・Yにあてはまる内容の組み合わせとして正しいものを、下の①～④のうちから一つ選びなさい。 **13**

表 1

議会の解散請求について	
必要な署名数	提出先
X	Y

- ア 有権者の1/3以上  
 イ 有権者の1/50以上  
 ウ 首長  
 エ 選挙管理委員会

	X	Y
①	ア	ウ
②	ア	エ
③	イ	ウ
④	イ	エ

- (3) Cに関連して、京都には多くの史跡しせきが残っています。写真1は、1576年に建立こんりゅうされた「都の南蛮寺なんばんじ跡あとの石碑せきひ」です。南蛮寺とは、キリスト教の教会のことです。織田信長のキリスト教への対応を説明した文として正しいものを、下の①～④のうちから一つ選びなさい。 **14**



写真 1

- ① 仏教勢力には厳しい態度を示し、キリスト教の宣教師は優遇ゆうぐうした  
 ② キリスト教徒を迫害はくがいし、島原での一揆いっぎを討伐した  
 ③ 伊東マンショなどをローマ教皇のもとへ送った  
 ④ 長崎がキリスト教に寄進されたことを知り、宣教師を国外追放した

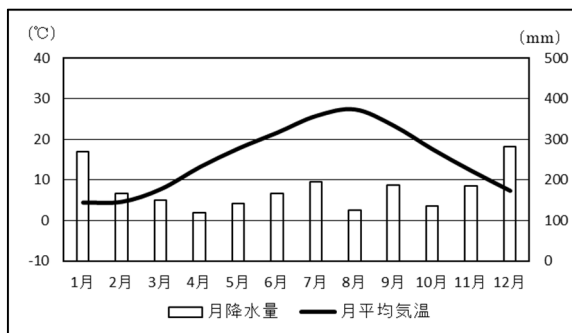
(4) Dに関連して、大津では1891年に日本を訪問中のロシア皇太子が警察官によって襲われる事件がおこりました。この事件は、当時の大審院長である児島惟謙が「司法権の独立」を貫いたことでも知られています。「司法権の独立」の説明として正しいものを、次の①～④のうちから一つ選びなさい。 **15**

- ① すべての国民に裁判を受ける権利を保障すること
- ② 憲法と法律に基づき、裁判官は良心に従い裁判の判決をくだすこと
- ③ 弾劾裁判所で、罷免の訴追を受けた裁判官を裁判すること
- ④ 検察官が、裁判官の発する令状をもとに、被疑者を起訴すること

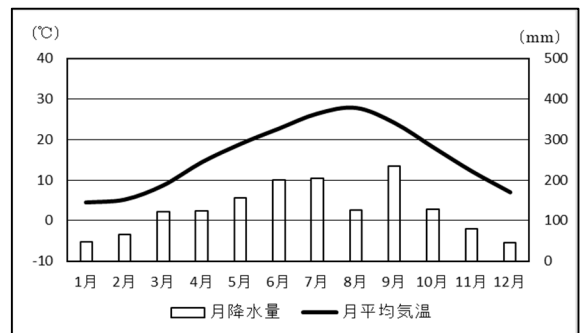
(5) Eに関連して、敦賀は大陸からの玄関口の一つでした。第二次世界大戦中に、杉原千畝が発給したビザでユダヤ人が日本に到着した港があるところです。彼がビザを発給した理由として正しいと考えられるものを、次の①～④のうちから一つ選びなさい。 **16**

- ① 国連の指導
- ② 自らの判断
- ③ 日本軍の指示
- ④ 日本政府との相談

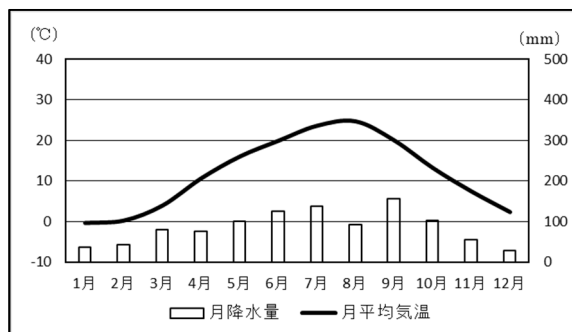
(6) Eに関連して、敦賀の雨温図として正しいものを、次の①～④のうちから一つ選びなさい。 **17**



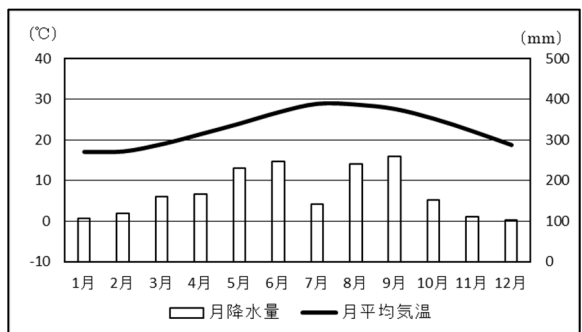
①



②



③



④

問 8 下線部hに関連して、民主的な社会を形成するためには、さまざまな立場の人の意見が尊重される必要があります。問いに答えなさい。

(1) 次の新聞記事を読み、X・Yの文の正誤の組み合わせとして正しいものを、下の①～④のうちから一つ選びなさい。 18

【シドニー共同】ニュージーランド議会(一院制、基本定数120)は17日の総選挙の結果、当選者の半数近くを女性が占めた。LGBTなど性的少数者や先住民マオリ、外国出身者もそれぞれ躍進し、「国内史上最も多様性に富んだ議会」(地元メディア)となる。

ニュージーランドは世界で初めて国政レベルの女性参政権を実現した歴史があり、アーダン首相が2018年に出産し産休を取得するなど、先進性で知られる。総選挙の結果確定は来月だが、アーダン氏率いる労働党が9月の解散前の46議席を大幅に上回る64議席を獲得し、35議席の最大野党国民党に圧勝した。

(出典 京都新聞より引用)

X 以前よりも多様性に富んだ議会が形成される

Y 議会において男性の意見が全く反映されなくなる

	X	Y
①	正	正
②	正	誤
③	誤	正
④	誤	誤

- (2) 表2は、各国議会における女性議員の割合を示しています。表2から、日本は女性の社会進出が遅れている国の一つだということがわかります。日本で女性の社会進出が遅れている理由として正しいものを、下の①～④のうちから一つ選びなさい。 **19**

表2

	1970年	2010年
スウェーデン	14.0%	45.0%
アメリカ合衆国	2.3%	16.8%
シンガポール	1.7%	23.4%
日本	1.6%	11.3%

(出典 『共同参画』 2016年9月号) より)

- ① 男女共同参画社会基本法により、雇用面で女性差別が禁止されたため
- ② 男女同一賃金など、労働条件が平等に扱われているため
- ③ 男性は仕事、女性は家事と育児という固定した性別役割分担の考えが残っているため
- ④ 育児・介護休業法に基づき、育児休業の取得を促進しているため

問 9 下線部iに関連する問いに答えなさい。

- (1) ラテンアメリカには、多様な人々が存在しています。「メスチソ」に関する説明として正しいものを、次の①～④のうちから一つ選びなさい。 **20**

- ① ヨーロッパ系移民と先住民との子ども
- ② アフリカ系移民と先住民との子ども
- ③ 先住民と先住民との子ども
- ④ ヨーロッパ系移民とアフリカ系移民との子ども

- (2) ラテンアメリカの熱帯地域では、プランテーション農業が営まれてきました。プランテーション農業に関する説明として正しいものを、次の①～④のうちから一つ選びなさい。 **21**

- ① 小麦などの畑作物と、牛などの家畜の飼育を組み合わせた農業である
- ② 大規模な農園で多数の労働者を雇い、輸出を目的とした作物を大量に栽培する農業である
- ③ 都市の市場への出荷を目的に、輸送条件のよい大都市周辺で花などを栽培する農業である
- ④ 砂漠の周辺で草と水を求めて、らくだなどの家畜とともに移動しながら生活する農業である

- (3) 写真2・3は、それぞれ図8中のX・Yのいずれかの国で撮影されたものです。X・Yの国と写真について説明した文として正しいものを、下の①～④のうちから一つ選びなさい。

22



写真2



写真3

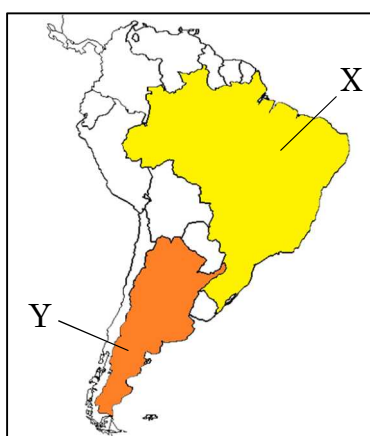


図8

- ① 写真2は、X国でみられる氷河の写真である
- ② 写真2は、Y国でみられる永久凍土の写真である
- ③ 写真3は、X国でみられる熱帯雨林の写真である
- ④ 写真3は、Y国でみられるパンパの写真である

問 10 下線部kに関連する問いに答えなさい。

- (1) 日本国憲法下において、自由権は3つに分類されます。X・Yの権利をそれぞれア～ウのいずれかに分類したときの組み合わせとして正しいものを、下の①～⑥のうちから一つ選びなさい。 **23**

X 職業を選ぶことができる自由

Y 宗教を信仰する自由

ア 身体の自由

イ 精神の自由

ウ 経済活動の自由

	X	Y
①	ア	イ
②	ア	ウ
③	イ	ア
④	イ	ウ
⑤	ウ	ア
⑥	ウ	イ

- (2) 日本国憲法下において主権者である国民は、選挙を通じてさまざまな意見を国会に反映させるため、国会議員を選出しています。国会に関連する説明として正しいものを、次の①～④のうちから一つ選びなさい。 **24**

① 衆議院には、内閣総理大臣の指名の先議権が認められている

② 参議院議員の選挙では、小選挙区比例代表並立制へいりつせいが採用されている

③ 特別国会は、衆議院解散後の総選挙の日から30日以内に召集しんぎされる

④ 両議院とも、本会議で可決した法律案を委員会で審議する

- (3) 今日，社会が複雑化・多様化するなかで，日本国憲法が制定された当时には明記されていなかった人権が主張されるようになりました。次の文章は新しい人権をめぐって争われたある裁判の説明です。文章中の **X**・**Y** の語句の組み合わせとして正しいものを，下の①～④のうちから一つ選びなさい。 **25**

俳優Aの私生活の情報を掲載した本が出版されました。掲載された当事者である俳優Aは、「私の個人情報を，多数の人が目にする本に無断で掲載したのは **X** の侵害である」として，出版社Bに出版停止の請求と損害賠償<sup>ばいしょう</sup>を求めました。それに対して，出版社Bが「本の出版は表現の自由である」と反論したことで，俳優Aの所属する事務所と出版社Bとの間で **Y** 裁判となりました。

	X	Y
①	知る権利	民事
②	知る権利	刑事 <sup>けいじ</sup>
③	プライバシーの権利	民事
④	プライバシーの権利	刑事

**第 2 問** あきらさんのクラスでは、「変化」ということに注目し、これまでにあった歴史上のさまざまな変化をグループごとに調査することにしました。次のカード A~J は、グループごとに調査した結果をまとめたものです。これらを読んで設問に答えなさい。

A

江戸時代、幕政改革の多くが失敗し、幕府の権威がおとろえていった。

B

日本では、高度経済成長期になると、家庭電化製品が普及するなど、人々の生活様式は大きく変化しました。

C

太平洋戦争後、日本国憲法は、大日本帝国憲法の改正手続きによって帝国議会で成立した。

D

鎌倉時代以降、幕府が成立し、室町時代・江戸時代と武家が中心となって政治をおこなった。

E

明治時代になると、それまでの幕府と藩を中心とした政治から、近代的な政治のしくみに変わっていった。

F

アメリカ合衆国は、もとはイギリスの植民地であったが、独立戦争に勝利し、独立を果たした。

G

イギリスでは、産業革命の結果、労働問題や社会問題などが発生するとともに、生活様式も大きく変化しました。

H

桓武天皇は、都を 784 年に長岡京へ、ついで 794 年には平安京に移した。

I

ヨーロッパの人々は、大航海時代に新航路を開拓し、世界各地に進出していった。

J

日本では、選挙権年齢が、2016 年に満 20 歳以上から満 18 歳以上に引き下げられた。

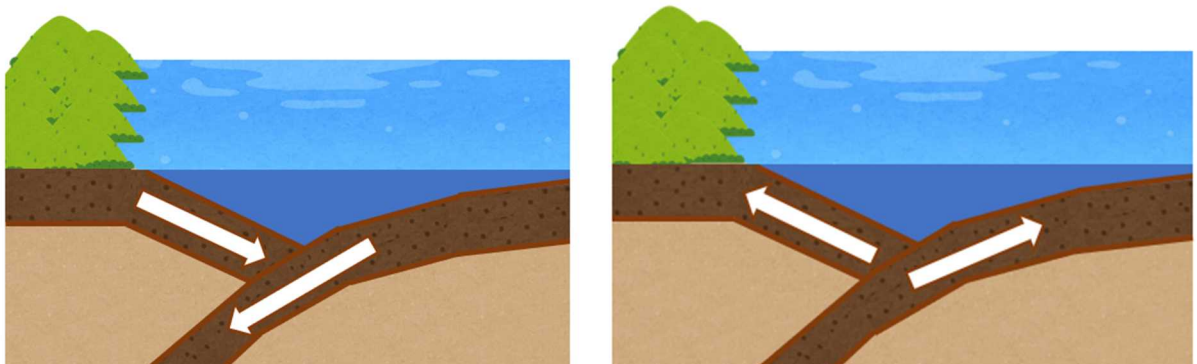


問 1 A のカードに関連する問いに答えなさい。

(1) 江戸時代には、浅間山の噴火など多くの災害に見舞われました。今日も日本では多くの災害が発生しています。災害が発生する要因として誤っているものを、次の①～④のうちから一つ選びなさい。 26

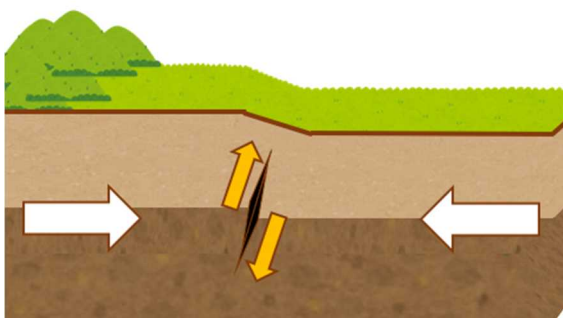
- ① 台風によって高潮が発生する可能性がある
- ② 地震により液状化の現象が発生する可能性がある
- ③ 豪雨によって津波が発生する可能性がある
- ④ 火山活動が活発になると火砕流が発生する可能性がある

(2) 江戸時代の安政年間には、日本各地で地震が起こりました。日本は現代においても地震災害の多い国ですが、その都度、復興を遂げてきました。次の①～④は地震発生メカニズムを模式図としてあらわしたものです。東日本大震災の発生要因として最も関係の深いものを、次の①～④のうちから一つ選びなさい。 27

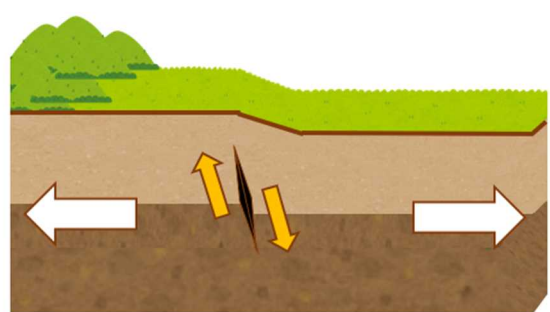


①

②



③



④

- (3) 江戸時代にはさまざまな幕政改革がおこなわれました。次の歌はある改革を風刺したものです。この歌の内容を説明した文として正しいものを、下の①～④のうちから一つ選びなさい。 **28**

しらかわ 白河の よしみね 清きに魚の すみかねて 住みかねて もとのに もとのに ごりの ぐりの たぬまこい 田沼恋しき

- ① 水野忠邦が人返しの法を出したことに對し、農村に帰りたくない人々の不満をあらわしている
- ② 徳川吉宗が新田の開發を奨励したことで、沼地が減っていくことへの不満をあらわしている
- ③ 松平定信が儉約令など厳しい政策を打ち出したため、寛大だった前任の老中への評価をあらわしている
- ④ 田沼意次が株仲間を禁止したため、株仲間を許可した前任の老中への評価をあらわしている
- (4) 江戸時代後期には日本に外国船が姿をあらわすようになると、鎖国体制をゆるがし、幕府の權威がおとろえる一因となりました。図1のア～エはそれらのできごとがおこった位置を示しています。できごとと位置の組み合わせとして正しいものを、下の①～④のうちから一つ選びなさい。 **29**

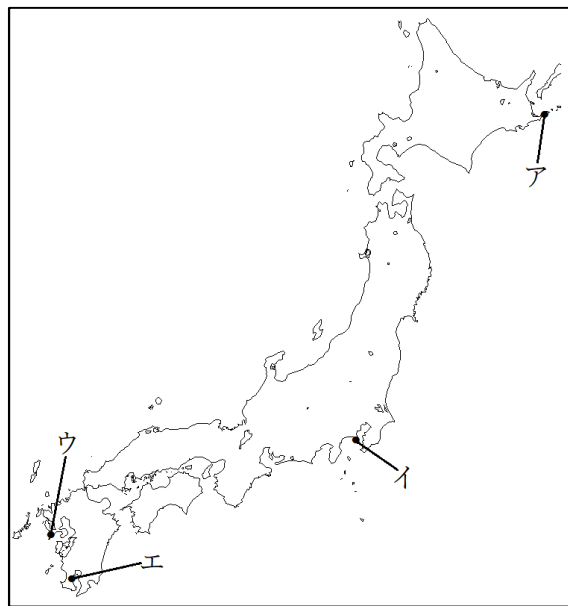


図 1

	できごと	位置
①	ラクスマン来航	ア
②	レザノフ来航	イ
③	ペリー来航	ウ
④	ゴローニン事件	エ

問 2 B のカードに関連して、図 2 は日本の家庭電化製品の普及率の推移をあらわしたものです。図 2 を参考に、日本の家庭電化製品の普及率の推移に関して説明した文として正しいものを、下の①～④のうちから一つ選びなさい。 30

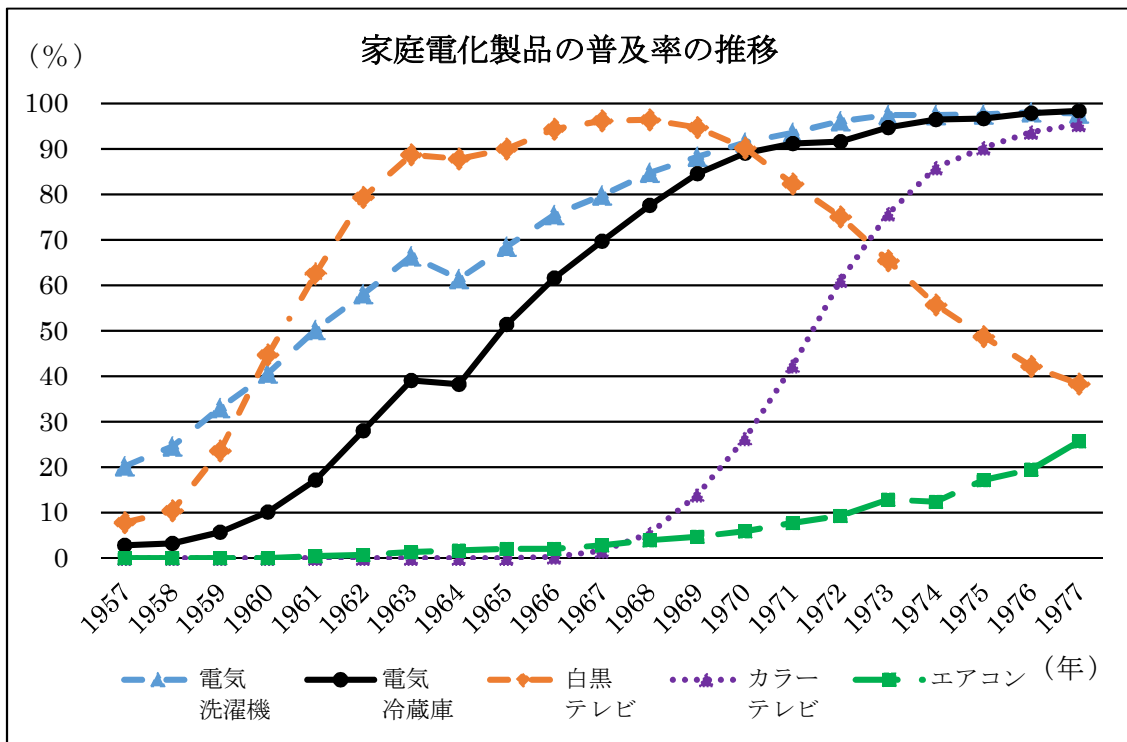


図 2

(出典 内閣府 「消費動向調査」より)

- ① 電気洗濯機よりも電気冷蔵庫の方が、普及率 50%をこえるのは早かった
- ② 白黒テレビが、最も早く普及率 30%をこえた
- ③ カラーテレビの普及率が、80%をこえたのは 1970 年代になってからである
- ④ エアコンはグラフの期間中に、普及率 40%をこえている

問 3 Cのカードに関連する問いに答えなさい。

- (1) 太平洋戦争中の日本では、民間人を巻き込む地上戦がおこなわれたところがありました。その場所と最も関わりの深い写真を、次の①～④のうちから一つ選びなさい。 31



①



②



③



④

- (2) 表 1 は、大日本帝国憲法と日本国憲法のいくつかの項目を比較したものです。表 1 中の下線部ア～エの内容として誤っているものを、下の①～④のうちから一つ選びなさい。 **32**

表 1

大日本帝国憲法		日本国憲法
<u>ア 天皇</u>	主権者	国民
法律の範囲内で権利を認める	国民の権利	<u>イ 基本的人権の尊重</u>
<u>ウ 天皇の協賛機関</u>	議会・国会	国権の最高機関 唯一の立法機関
各大臣が天皇を助けて政治をおこなう	内閣	<u>エ 裁判所に対して連帯して責任を負う</u>

- ① ア  
② イ  
③ ウ  
④ エ

- (3) 日本国憲法の三大原理の一つに、平和主義があります。平和主義に関連する X・Y の文の正誤の組み合わせとして正しいものを、下の①～④のうちから一つ選びなさい。 **33**

X 日本国憲法前文では、「政府の行為によつて再び戦争の惨禍が起ることのないやうにすることを決意し、」と記されている

Y 日本国憲法第 9 条では、「陸海空軍その他の戦力は、これを保持しない。国の交戦権は、これを認めない。」と記されている

	X	Y
①	正	正
②	正	誤
③	誤	正
④	誤	誤

(4) 日本国憲法においても改正手続きが定められています。図3は日本国憲法の改正手続きをあらわしたものです。図3中の **X** ~ **Z** の語句の組み合わせとして正しいものを、下の①~⑥のうちから一つ選びなさい。 **34**

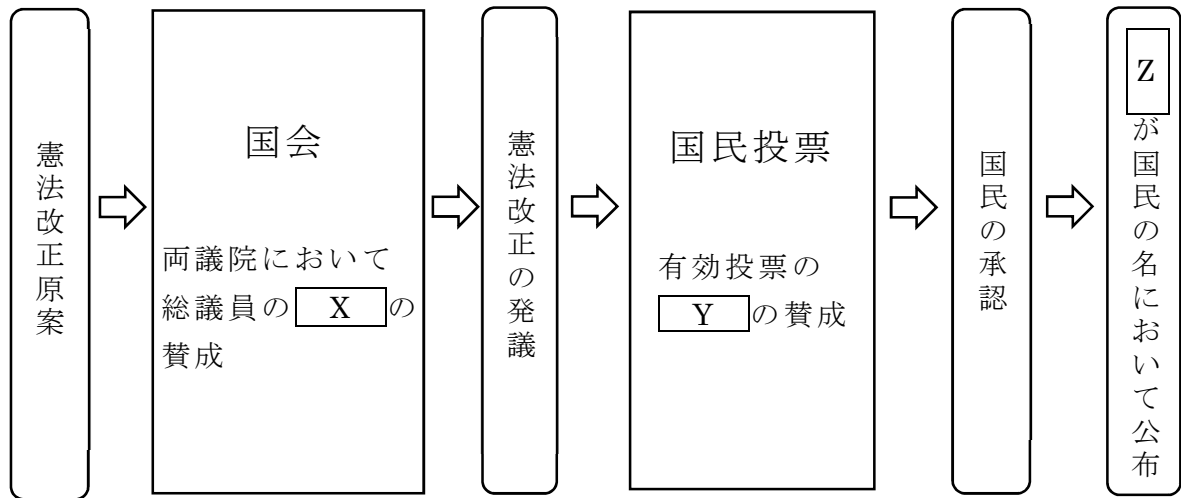


図3

	X	Y	Z
①	2/3 以上	過半数	天皇
②	2/3 以上	過半数	内閣総理大臣
③	2/3 以上	2/3 以上	天皇
④	過半数	2/3 以上	内閣総理大臣
⑤	過半数	2/3 以上	天皇
⑥	過半数	過半数	内閣総理大臣

問4 Dのカードに関連して、鎌倉幕府が成立し、政治の中心は貴族から武家へと変化しました。鎌倉幕府がおこなったこととして正しいものを、次の①~④のうちから一つ選びなさい。 **35**

- ① 将軍は御家人ごけにんを国司や郡司に任命した
- ② 困窮こんきゅうした御家人を救済するため、徳政令を出した
- ③ 承久じょうきゅうの乱で幕府が勝利すると、都に京都所司代を設置した
- ④ 武家社会のおきてや裁判基準などをまとめた武家諸法度ぶけしよほつとを制定した

問 5 E のカードに関連する問いに答えなさい。

- (1) 明治時代になると、新しい仕組みづくりのためにさまざまな政策がおこなわれました。表 2 に示した政策とその内容として正しいものを、表 2 中の①～④のうちから一つ選びなさい。 **36**

表 2

	政策	政策内容
①	<sup>はい</sup> 廃藩置県	藩が統合され 47 の藩・府・県が全国に置かれた
②	<sup>ちそ</sup> 地租改正	税率を地価の 3% とし、米と現金で納めさせた
③	<sup>ちょうへい</sup> 徴兵令	満 15 歳以上のすべての男子に兵役が義務づけられた
④	学制	満 6 歳以上の子どもに教育を受けさせることを国民の義務とした

- (2) 明治時代の日本の政治に関連する文として正しいものを、次の①～④のうちから一つ選びなさい。 **37**

- ① フランスの憲法を中心に、憲法作成の調査がおこなわれた
- ② 初代内閣総理大臣には、大久保利通が就任した
- ③ 帝国議会は、貴族院と衆議院で構成されていた
- ④ 内閣制度は、明治時代が始まると同時にできた

問 6 F のカードに関連する問いに答えなさい。

- (1) 図 4 は、かつてのアメリカ合衆国の国旗です。この国旗が誕生して以降の南北アメリカ大陸の歴史として誤っているものを、下の①～④のうちから一つ選びなさい。 **38**



図 4

- ① 南北戦争がおこった
- ② ニューディール政策をおこなった
- ③ インカ帝国が滅んだ
- ④ 同時多発テロがおこった

- (2) このグループはアメリカ大統領について調べ、先生に提出しました。ところが、先生からいくつかの間違いがあることを指摘されました。次の下線部のうち、誤っている内容の数として正しいものを、下の①～④のうちから一つ選びなさい。

39

<p>&lt;リンカン&gt; 国際連盟の<u>設立</u>を提案した</p>	<p>&lt;ケネディ&gt; 米ソによる核戦争勃発の瀬戸際であった<u>キューバ危機</u>を回避した</p>
<p>&lt;ルーズベルト&gt; 世界恐慌の対応策として<u>五か年計画</u>を実施した</p>	<p>&lt;ブッシュ&gt; <u>ヤルタ会談</u>により冷戦の終結を宣言した</p>

- ① 1  
② 2  
③ 3  
④ 4

- (3) 現在のアメリカ合衆国は、世界有数の農産物輸出国でもあります。次の X・Y は 2017 年の小麦，綿花，とうもろこしのいずれかの輸出货量上位 5 カ国をあらわしたものです。X・Y にあてはまる農産物の組み合わせとして正しいものを、下の①～⑥のうちから一つ選びなさい。

40

X の輸出货量上位 5 カ国 (2017 年)		Y の輸出货量上位 5 カ国 (2017 年)	
順位	国名	順位	国名
1	アメリカ合衆国	1	ロシア
2	ブラジル	2	アメリカ合衆国
3	アルゼンチン	3	カナダ
4	ウクライナ	4	オーストラリア
5	ロシア	5	ウクライナ

(出典 FAOSTAT より)

	X	Y
①	小麦	綿花
②	小麦	とうもろこし
③	綿花	小麦
④	綿花	とうもろこし
⑤	とうもろこし	小麦
⑥	とうもろこし	綿花



問 7 G のカードに関連する問いに答えなさい。

(1) 産業革命の進展に伴い資本主義が成立しました。資本主義の説明として正しいものを、次の①～④のうちから一つ選びなさい。 **41**

- ① 国王が法に従わず、自分の思ったとおりに国を動かす仕組みのこと
- ② 労働者が団結し、すべての工場や土地を共有しようとする考え方のこと
- ③ 個人の権利や自由を制限し、国家の目標を優先しようとする考え方のこと
- ④ 資本家が労働者を雇い、自由競争のもとで利益を追い求める仕組みのこと

(2) 産業革命によりイギリスでは、石炭の需要が急速に高まりました。現在の日本でも、石炭が使用されており、世界各国から輸入されています。図 5 は、日本における石炭の国別輸入割合をあらわしたものです。図 5 の **X** にあてはまる国として正しいものを、下の①～④のうちから一つ選びなさい。 **42**

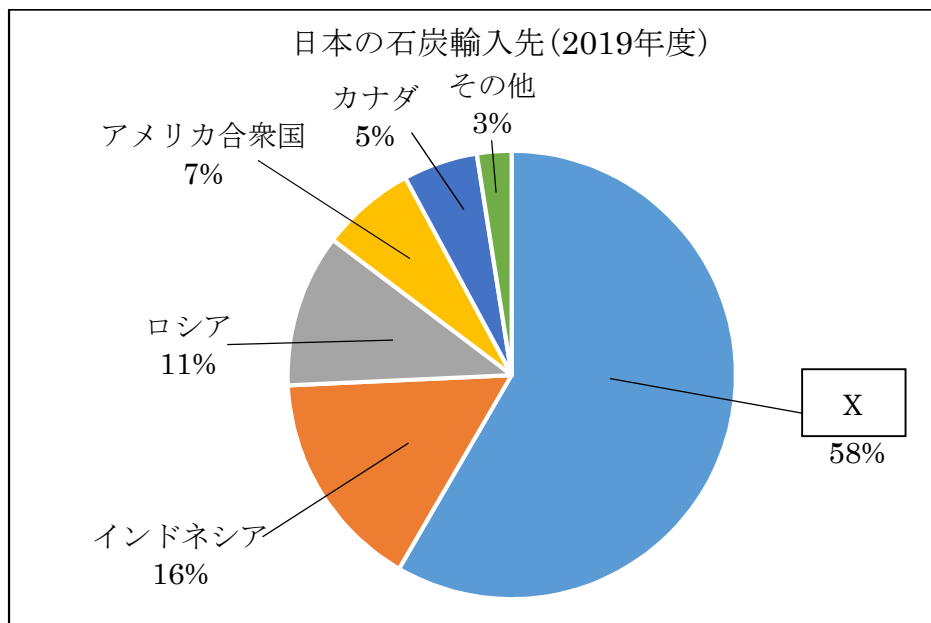


図 5

(出典 財務省貿易統計より)

- ① アラブ首長国連邦
- ② オーストラリア
- ③ サウジアラビア
- ④ 中国

- (3) イギリスには本初子午線が通っています。日本が2月10日午前8時のとき、イギリスの時間は何月何日の何時になりますか。北半球を示した図6を参考に、正しいものを、下の①～④のうちから一つ選びなさい。 **43**

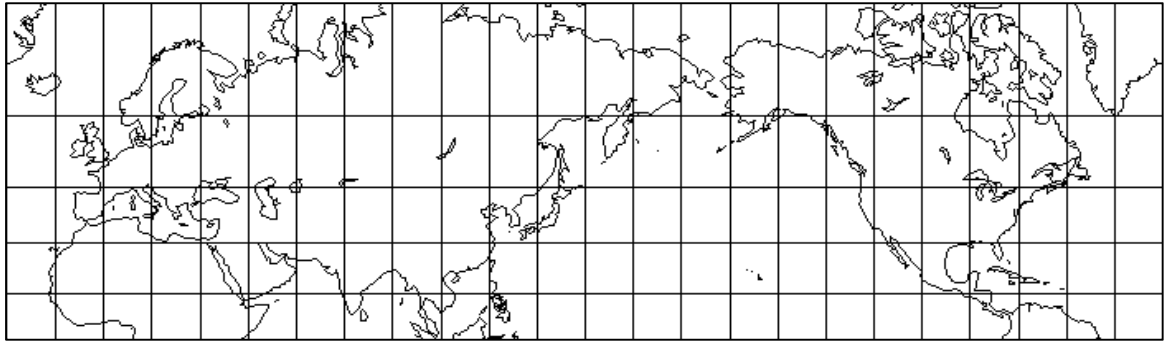


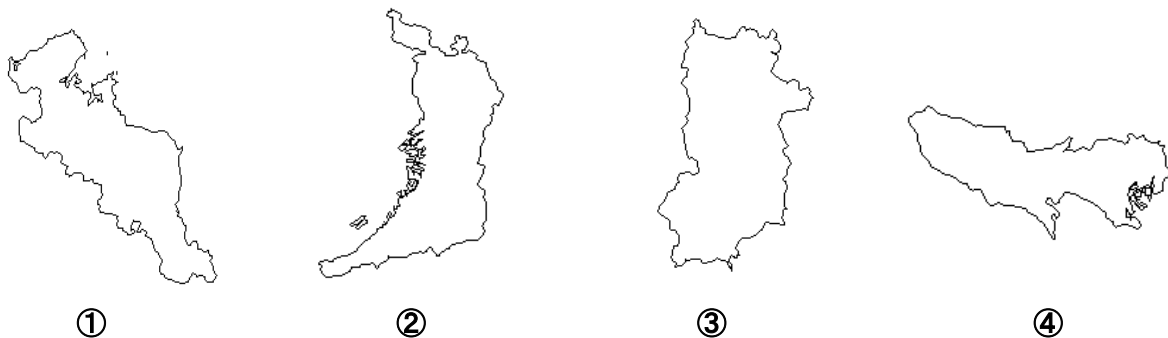
図 6

- ① 2月9日午後5時
- ② 2月9日午後11時
- ③ 2月10日午後5時
- ④ 2月10日午後11時

- (4) 労働問題に関連し、現在の日本でも、さまざまな労働問題があります。日本の労働に関する説明として正しいものを、次の①～④のうちから一つ選びなさい。 **44**

- ① 労働三権とは、団結権・団体交渉権・団体行動権のことをいう
- ② 現在の日本では、希望しても60歳までしか働くことができない
- ③ 労働条件の最低基準は、労働関係調整法に定められている
- ④ 日本国憲法が施行されると同時に、男女雇用機会均等法も施行された

- 問 8 Hのカードに関連して、日本の都は時代とともに変化してきました。710年にも都が移されました。現在のどの府県に移されましたか。都が移された府県として正しいものを、次の①～④のうちから一つ選びなさい。ただし、縮尺は同じではありません。 **45**



問 9 Iのカードに関連する問いに答えなさい。

- (1) 図 7 中の矢印で示された航路を航海した人物として正しいものを、下の①～④のうちから一つ選びなさい。 **46**



図 7

- ① マゼラン
- ② コロンブス
- ③ バスコ・ダ・ガマ
- ④ ルター

- (2) 大航海時代には、多くの食物が行き交い、各国の食に変化をもたらしました。また、日本の食も時代ごとに変化してきました。日本の食に関連する説明として正しいものを、次の①～④のうちから一つ選びなさい。 **47**

- ① 弥生時代には、漁や採集などで得た食料の保存や煮炊きのために土器が使われるようになった
- ② 古墳時代には、中国や朝鮮半島などから稲作が伝えられ稲を蓄えるための高床倉庫も造られるようになった
- ③ 平安時代には、勘合貿易によって日本でもカステラや金平糖などが食べられるようになった
- ④ 明治時代には、欧米の文化や生活様式がとり入れられ牛鍋などの西洋料理が流行した

- (3) 大航海時代以降，国際的なつながりを深め，協力関係を構築してきました。国際的な組織に関連する X・Y の文の正誤の組み合わせとして正しいものを，下の①～④のうちから一つ選びなさい。 **48**

X OPEC は，東南アジア地域内の安定を目指して結成された  
 Y EU では，全加盟国でユーロが使用されている

	X	Y
①	正	正
②	正	誤
③	誤	正
④	誤	誤

問 10 J のカードに関連する問いに答えなさい。

- (1) 日本で満 20 歳以上の男女普通選挙が認められた時期として正しいものを，次の年表中の①～④のうちから一つ選びなさい。 **49**

西 暦	で き ご と
1868 年	明治が始まる ①
1912 年	大正が始まる ②
1926 年	昭和が始まる ③
1945 年	第二次世界大戦が終わる ④
1989 年	平成が始まる

- (2) 日本では，選挙権年齢以外に被選挙権年齢も定められています。公職の種類と被選挙権年齢の組み合わせとして正しいものを，次の①～④のうちから一つ選びなさい。 **50**

	公職の種類	被選挙権年齢
①	参議院議員	25 歳以上
②	衆議院議員	30 歳以上
③	都道府県・市町村議会議員	25 歳以上
④	市町村長	30 歳以上

これで問題は終わりです。